

[정현경/한성은 모의고사]

| 대학수학능력시험 수학(나형) 연습 |

| 한성은

이투스앤써, 일산 종로, 일산 클라비스, 5A ACADEMY

아무래도 공부에 집중하기 힘든 상황입니다만,
다 같이 망하고 있다고 생각하면 좀 나을 것 같아요.

hansungeun.com

- 저자소개, 학습자료, 교재판매

| CCL

- 허락 없이 문제를 쓰실 수 있지만, 출처를 반드시 표시해 주세요.
- 자신이 저작자라는 주장을 하지 말아 주세요.

수학 영역(나형)

5지선다형

1. $2^4 \times 4^{-1}$ 의 값은? [2점]

- ① $\frac{1}{4}$ ② $\frac{1}{2}$ ③ 1
④ 2 ⑤ 4

2. ${}_2\Pi_3$ 의 값은? [2점]

- ① 6 ② 8 ③ 9
④ 12 ⑤ 16

3. $\sin x \cos x = \frac{1}{4}$ 일 때, $(\sin x + \cos x)^2$ 의 값은? [2점]

- ① $\frac{1}{2}$ ② 1 ③ $\frac{3}{2}$
④ 2 ⑤ $\frac{5}{2}$

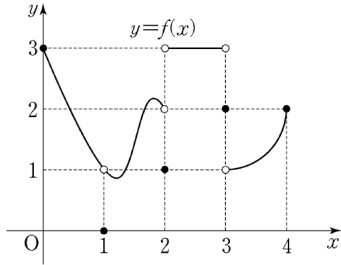
4. $\lim_{x \rightarrow 2} \frac{1}{2x-4} \left(\frac{1}{2} - \frac{1}{x} \right)$ 의 값은? [3점]

- ① $\frac{1}{8}$ ② $\frac{1}{4}$ ③ $\frac{1}{2}$
④ 1 ⑤ 2

2

수학 영역(나형)

5. 함수 $y=f(x)$ 의 그래프가 그림과 같다.



$\lim_{x \rightarrow 0^+} \{f(x) + f(1+x) + f(2+x)\}$ 의 값은? [3점]

- ① 4 ② 5 ③ 6
 ④ 7 ⑤ 8

6. 두 사건 A 와 B 는 서로 독립이고

$$P(A \cap B^c) = \frac{1}{3}, \quad P(A^c \cap B^c) = \frac{1}{6}$$

일 때, $P(A \cap B)$ 의 값은? [3점]

- ① $\frac{1}{3}$ ② $\frac{5}{12}$ ③ $\frac{1}{2}$
 ④ $\frac{7}{12}$ ⑤ $\frac{2}{3}$

7. 함수 $f(x) = \begin{cases} ax+b & (x \leq 0) \\ x^2+cx & (x > 0) \end{cases}$ 이 실수 전체의 집합에서

미분가능하고 $f(-2) = 1$ 일 때, $f(4)$ 의 값은? [3점]

- ① 8 ② 10 ③ 12
 ④ 14 ⑤ 16

8. $0 \leq i \leq 5$ 인 정수 i 에 대하여 $(2+x)^5$ 의 전개식에서

x^i 의 계수를 a_i 라 하자. $\sum_{i=0}^5 a_i$ 의 값은? [3점]

- ① 183 ② 198 ③ 213
 ④ 228 ⑤ 243

9. 한 개의 주사위를 두 번 던진다. 나온 두 눈의 수의 곱이 홀수일 때, 두 눈의 수의 합이 6의 약수일 확률은? [3점]

- ① $\frac{4}{9}$ ② $\frac{14}{27}$ ③ $\frac{16}{27}$
 ④ $\frac{2}{3}$ ⑤ $\frac{10}{27}$

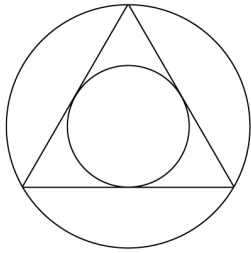
10. 등차수열 $\{a_n\}$ 에 대하여

$$\sum_{k=1}^{11} (-1)^k a_k = a_6$$

이코 $a_7 = 2$ 일 때, a_{10} 의 값은? [3점]

- ① 4 ② 5 ③ 6
 ④ 7 ⑤ 8

11. 그림과 같이 한 정삼각형과 이 정삼각형의 내접원과 외접원으로 만들어지는 7개의 영역에 서로 다른 7가지 색을 모두 사용하여 칠하려고 한다. 한 영역에 한 가지 색만을 칠할 때, 색칠한 결과로 나올 수 있는 경우의 수는? [3점]



- ① 1260
- ② 1680
- ③ 2520
- ④ 3760
- ⑤ 5040

12. 최고차항의 계수가 1인 삼차함수 $f(x)$ 에 대하여 곡선 $y=f(x)$ 위의 점 $(2, f(2))$ 에서의 접선의 방정식이 $y=x$ 이다. 함수 $f(x)$ 가 $x=a$ 에서 극댓값을 갖고, $x=3$ 에서 극솟값을 가질 때, a 의 값은? [3점]

- ① $\frac{13}{6}$
- ② $\frac{7}{3}$
- ③ $\frac{5}{2}$
- ④ $\frac{8}{3}$
- ⑤ $\frac{17}{6}$

13. 등비수열 $\{a_n\}$ 에 대하여

$$4 \sum_{k=1}^8 a_k = \sum_{k=5}^{12} a_k$$

이다. $a_1 a_2 = 2$ 일 때, $\sum_{k=1}^6 a_k a_{k+1}$ 의 값은? [3점]

- ① 162 ② 150 ③ 138
 ④ 126 ⑤ 114

14. 점 A(4)에서 출발하여 수직선 위를 움직이는 점 P의 시각 $t(t \geq 0)$ 에서의 속도 v 가

$$v = \frac{1}{4}t^2(6-t)$$

이다. 점 P의 속도가 최대일 때, 점 P의 위치는? [4점]

- ① 12 ② 14 ③ 16
 ④ 18 ⑤ 20

6

수학 영역(나형)

15. 다음은 모든 자연수 n 에 대하여

$$\left(\sum_{k=1}^n k\right)\left(\sum_{k=1}^n \frac{1}{k}\right) \geq n^2 \dots (*)$$

임을 수학적 귀납법을 이용하여 증명한 것이다.

(i) $n=1$ 일 때 (좌변) = (우변) = 1이므로 (*)이 성립한다.
 (ii) (*)은 다음 부등식과 서로 동치이다.

$$\sum_{k=1}^n \frac{1}{k} \geq \frac{2n}{n+1} \dots (**)$$

$n=m$ 일 때 (*)이 성립한다고 가정하면

$$\sum_{k=1}^m \frac{1}{k} \geq \frac{2m}{m+1}$$

이다. $n=m+1$ 일 때

$$\sum_{k=1}^{m+1} \frac{1}{k} \geq \frac{2m}{m+1} + \boxed{(\text{가})} = \frac{2m+1}{m+1}$$

한편

$$\frac{2m+1}{m+1} - \frac{2(m+1)}{m+2} = \frac{m}{(m+1)(m+2)} \geq 0$$

이므로 $\frac{2m+1}{m+1} \geq \boxed{(\text{나})}$ 이다.
 따라서 $n=m+1$ 일 때 (*)이 성립한다.

위의 (가), (나)에 알맞은 식을 각각 $f(m)$, $g(m)$ 이라

할 때, $\frac{g(4)}{f(5)}$ 의 값은? [4점]

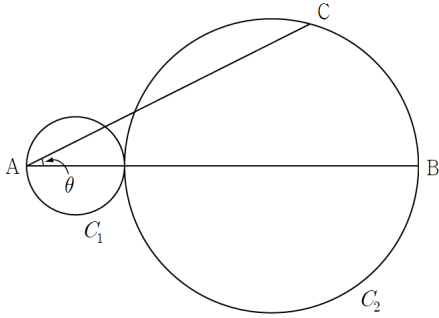
- ① 8 ② 10 ③ 12
- ④ 14 ⑤ 16

16. 어느 공장에서 생산하는 화장품 1개의 내용량은 평균이 mg 이고 표준편차가 σg 인 정규분포를 따른다고 한다. 이 공장에서 생산한 화장품 중 임의추출한 9개의 화장품 내용량의 표본평균이 200g 이하일 확률과 220g 이상일 확률이 0.0668로 서로 같을 때, $m+\sigma$ 의 값을 아래의 표준정규분포표를 이용하여 구한 것은? [4점]

z	$P(0 \leq Z \leq z)$
1.0	0.3413
1.5	0.4332
2.0	0.4772
2.5	0.4938

- ① 200 ② 210 ③ 220
- ④ 230 ⑤ 240

17. 그림과 같이 반지름의 길이가 각각 1, 3인 두 원 C_1 , C_2 가 서로 외접하고 있다. 원 C_1 위의 점 A, 원 C_2 위의 점 B는 $\overline{AB}=8$ 를 만족시키고, 원 C_2 위의 점 C에 대하여 $\angle CAB = \theta$ 일 때, $\tan\theta = \frac{1}{2}$ 이다. \overline{CA} 의 길이는?
(단, $\overline{CA} > 4$ 이다.) [4점]



- ① 5 ② 6 ③ 7
 ④ $2\sqrt{5}+1$ ⑤ $2\sqrt{5}+2$

18. 두 연속함수 $f(x)$, $g(x)$ 가 모든 실수 x 에 대하여

$$f(x) + g(x) = x(6-x)$$

를 만족시키고 $\int_0^2 f(x)dx = \int_2^6 g(x)dx$ 일 때,

$\int_0^6 g(x)dx$ 의 값은? [4점]

- ① $\frac{26}{3}$ ② $\frac{28}{3}$ ③ 10
 ④ $\frac{32}{3}$ ⑤ $\frac{34}{3}$

19. 1, 1, 1, 1, 2, 2, 3, 3의 숫자가 하나씩 적혀 있는 8개의 공이 들어 있는 주머니가 있다. 이 주머니에서 한 개의 공을 임의로 꺼내어 공에 적힌 수를 확인한 후 다시 넣지 않는 시행을 세 번 반복할 때 꺼낸 공에 적힌 수를 차례로 a, b, c 라 하자. $a+b+c > 4$ 일 때, $(a-2)(b-2)(c-2) = 0$ 일 확률은? [4점]

- ① $\frac{11}{20}$ ② $\frac{3}{5}$ ③ $\frac{13}{20}$
 ④ $\frac{7}{10}$ ⑤ $\frac{3}{4}$

20. 최고차항의 계수가 1인 삼차함수 $f(x)$ 가 다음 조건을 만족시킨다.

$$(가) \lim_{x \rightarrow 1} \frac{f(x) - xf(2)}{x-1} = f(1)$$

$$(나) \lim_{x \rightarrow 2} \frac{2f(x) - xf(2)}{x-2} = f(2)$$

$f(3)$ 의 값은? [4점]

- ① 1 ② 2 ③ 3
 ④ 4 ⑤ 5

21. 삼차함수 $f(x)$ 가 모든 실수 x 에 대하여

$$x \times \{f(x) - x\} \leq 0$$

을 만족시킨다. 방정식 $f(f(x)) = f(x)$ 의 서로 다른 실근의 개수는 6이고, 이 6개의 실근 중 가장 작은 것이 -1 , 가장 큰 것이 5 일 때, $f(-3)$ 의 값은? [4점]

- ① 24 ② 27 ③ 30
 ④ 33 ⑤ 36

단답형

22. 실수 전체의 집합에서 연속인 함수 $f(x)$ 에 대하여

$$\lim_{x \rightarrow 2} (x+1)f(x) = 12 \text{ 일 때, } f(2) \text{의 값을 구하여라. [3점]}$$

23. 확률변수 X 가 이항분포 $B(n, p)$ 를 따르고

$$E(2X-4) = 12, \quad \sigma(2X-4) = 4$$

일 때, n 의 값을 구하여라. [3점]

24. 함수 $f(x) = a \cos bx + c$ 의 최솟값이 0, 최댓값이 12이고, 방정식 $f(x) = 0$ 의 양의 실근 중 가장 작은 것이 2π 이다. abc 의 값을 구하여라. (단, a, b 는 양수이다.) [3점]

25. $1 < a < b$ 인 두 실수 a, b 에 대하여

$$\frac{b-a}{\log_2 b} = \frac{a}{3 \log_2 a} = \frac{b}{4}$$

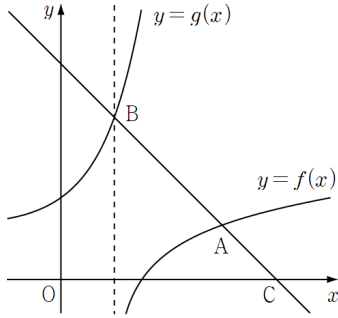
- 일 때, $a+b$ 의 값을 구하여라. [3점]

26. $f(1) = 0$ 인 이차함수 $f(x)$ 에 대하여

$$\lim_{x \rightarrow 2} \frac{\int_{-1}^x f(t) dt}{x-2} = 1$$

- 일 때, $f(5)$ 의 값을 구하여라. [4점]

27. 함수 $f(x) = \log_a(x-k)$ 의 역함수가 $g(x)$ 이고, 곡선 $y=f(x)$ 위의 점 A를 지나고 기울기가 -1 인 직선이 곡선 $y=g(x)$, x 축과 만나는 점을 각각 B, C라 하자. 점 B가 곡선 $y=f(x)$ 의 점근선 위의 점이고, 점 A가 선분 BC의 $2:1$ 내분점이다. $f(2k+2) = k$ 일 때, $a+k$ 의 값을 구하여라. (단, a 와 k 는 양의 실수이다.) [4점]



28. 흰 공 8개와 파란 공 2개가 있다. 이 10개의 공을 5명의 학생에게 남김없이 나누어 줄 때, 공을 1개만 받는 학생이 2명이 되도록 나누어주는 경우의 수를 구하여라. (단, 같은 색의 공끼리는 서로 구별하지 않고, 모든 학생은 1개 이상의 공을 받는다.) [4점]

29. 숫자 1, 2, 3이 하나씩 적혀 있는 3장의 카드와 문자 a, b, c가 하나씩 적혀 있는 3장의 카드가 있다. 이 6장의 카드를 모두 한 번씩 사용하여 일렬로 임의로 나열할 때, 다음 조건을 만족시키는 경우의 수를 구하여라. [4점]

숫자가 적혀 있는 카드끼리 이웃할 때는 작은 수가 적혀 있는 것부터 크기 순서로 놓인다.

30. 최고차항의 계수가 1인 사차함수 $f(x)$ 에 대하여 방정식

$$f(x) = f(t)$$

의 서로 다른 모든 실근의 합을 $g(t)$ 라 하자. 함수 $g(t)$ 가 $t=a$ 에서 불연속인 a 는 모두 4개이고 이를 작은 수부터 크기순으로 모두 나열한 것이

$$a_1, a_2, a_3, a_4$$

이다. 함수 $f(x)$ 가 다음 조건을 만족시킬 때, $f'(4)$ 의 값을 구하여라. [4점]

(가) $a_3 - a_2 = 2$

(나) $f(a_2) - f(0) = \frac{5}{3}$

[정현경/한성은 모의고사]
수능(나형) 연습 정답표

문항	정답	문항	정답	문항	정답	문항	정답	문항	정답
01	⑤	02	②	03	③	04	①	05	④
06	①	07	④	08	⑤	09	①	10	⑤
11	②	12	②	13	④	14	⑤	15	②
16	④	17	⑤	18	②	19	②	20	③
21	①	22	4	23	16	24	18	25	10
26	8	27	4	28	780	29	384	30	48

COMMENT 15

$$f(m) = \frac{1}{m+1}, \quad g(m) = \frac{2(m+1)}{m+2}$$

COMMENT 17

$\overline{CA} = x$, 원 C_2 의 중심을 O 라 하자. $\overline{AO} = 5$, $\overline{OC} = 3$, $\cos(\angle CAO) = \frac{2}{\sqrt{5}}$ 이므로 코사인법칙에서

$$3^2 = x^2 + 5^2 - 2 \cdot x \cdot 5 \cdot \frac{2}{\sqrt{5}}$$

이다. 풀면 $x = 2\sqrt{5} \pm 2$ 이다. 이 중 짧은 것은 $\overline{CA} > 4$ 에 모순, $2\sqrt{5} + 2$ 가 답이다.

※ 원의 중심 O 에서 현 AC 에 수선을 내려서 푼 예들도 있었어요.

COMMENT 18

$$\int_0^6 g(x) dx = \int_0^2 g(x) dx + \int_2^6 g(x) dx = \int_0^2 \{x(6-x) - f(x)\} dx + \int_2^6 g(x) dx = \int_0^2 x(6-x) dx$$

COMMENT 20

(가)의 식에서 $f(1) = f(2)$, $f'(1) = 2f(1)$ 이고, (나)의 식에서 $f'(2) = f(1)$ 이다. $f(1) = a$ 라 하자.

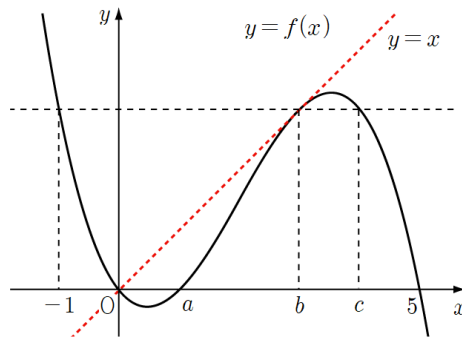
$f(x) = (x-1)(x-2)(x-b) + a$ 에서 $f'(1) = 2a$, $f'(2) = a$ 를 풀면 $f(x) = (x-1)(x-2)\left(x - \frac{5}{3}\right) + \frac{1}{3}$ 이다.

COMMENT 21

$x < 0$ 일 때 $f(x) \geq x$ 이고, $x > 0$ 일 때 $f(x) \leq x$ 이다. $f(0) = 0$ 이네.

방정식 $f(t) = t$ 의 근이 더 필요하다. 직선 $y = x$ 에 접해야겠다.

대충 조합해보면 함수 $y = f(x)$ 의 그래프는 다음 그림과 같다.



$x < 0$ 일 때 접하는 경우에는 최솟값 -1 , 최댓값 5 각이 안 나온다. 계산은

방법1) $f(x) = kx(x-a)(x-5)$ 라 두고 $f'(b) = 1$, $f(b) = b$, $f(-1) = b$ 를 푼다.

방법2) $f(x) = kx(x-b)^2 + x$ 라 두고 $f(-1) = b$, $f(5) = 0$ 을 푼다.

둘 다 가능한데, 방법2)가 편하겠네. $f(x) = -\frac{1}{4}x(x-3)^2 + x$ 이다.

COMMENT 26

준 식에서 $\int_{-1}^2 f(t)dt=0$, $f(2)=1$ 이다. $f(1)=0$ 과 연립하여 풀면 $f(x)=\frac{1}{3}x^2-\frac{1}{3}$ 이다.

COMMENT 28

1개의 공을 받는 두 명이 받는 공의 종류에 따라 분류하자.

Case1) 둘 모두 파란 공을 받을 때 : ${}_5C_2 \times {}_3H_2 = 60$ 가지.

Case2) 하나는 파란 공 하나는 흰 공을 받을 때 : $({}_5C_2 \times 2) \times (3 \times {}_3H_2) = 360$ 가지.

Case3) 둘 모두 흰 공을 받을 때 : ${}_5C_2 \times (6 \times {}_3H_2) = 360$ 가지.

COMMENT 29

숫자가 적혀 있는 카드 세 장 중 몇 장이 서로 이웃하는지에 따라 분류하자.

Case1) 셋 모두 이웃 : 순서는 정해져 있다. 나머지 세 장과 세장 묶음의 배열. $4! = 24$ 가지.

Case2) 셋 중 둘 이웃 : 누가 따로 갈지 3가지와 배열방법의 곱. $\rightarrow 3! \times \{3 \times (4 \times 3)\} = 216$ 가지.

Case3) 셋 모두 따로 : 나머지 세 장을 깔고 사이사이에 넣으면 된다. $\rightarrow 3! \times (4 \times 3 \times 2) = 144$ 가지.

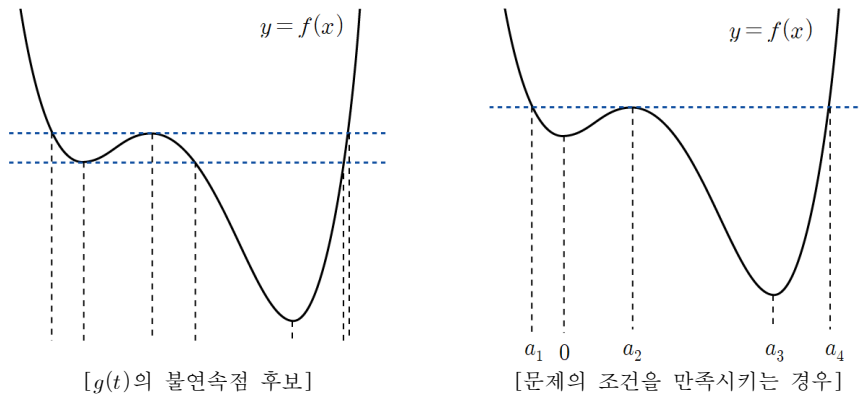
COMMENT 30

함수 $g(t)$ 의 불연속인 점이 1개 이상 존재하려면 $f(x)$ 가 극소, 극대, 극소를 가져야 한다.

대충 그리면 불연속점이 7개 보이는데, 그 중 중근 하나가 0이 되면 불연속점이 3개 줄어서

4개가 되는 것이 가능하다. 두 극솟값이 같은 경우는 불연속점이 5개 또는 3개 또는 2개가 된다.

그 중 $f(0) < f(a_2)$ 인 경우는 다음의 한 가지 경우만 남게 된다.



$a_2 = a$ 라 하자. $a_3 = a+2$ 이고 $f(a_2) - f(0) = f(a) - f(0) = \int_0^a f'(x)dx$ 이므로

$\int_0^a 4x(x-a)(x-a-2)dx = \frac{5}{3}$ 에서 $a^4 + 4a^3 = 5$, $a=1$ 이다. $f'(x) = 4x(x-1)(x-3)$ 이다.