



2022 수능대비

세계사 N제

Vol.2

31 (세계사능력검정 6회)

밑줄 친 “시대”의 문화에 대한 설명으로 옳은 것은?



이 사진은 세계에서 세 번째로 높은 독일의 쾰른 대성당이다. 이 성당이 지어진 시대에는 첨탑과 스테인드글라스를 특징으로 하는 고딕 양식이 유행하였다.

고딕 양식의 뾰족한 첨탑은 천국을 향한 당시 사람들의 소망을 나타내고 있다.

- ① 헤로도토스가 <역사>를 저술하였다.
- ② 스토아 학파가 금욕주의를 주장하였다.
- ③ 소피스트가 진리의 상대성을 주장하였다.
- ④ 아퀴나스가 신앙과 이성의 조화를 강조하였다.
- ⑤ 에피쿠로스 학파가 정신적 쾌락을 추구하였다.

정답 4

쾰른 대성당은 고딕 양식의 대표적인 예로, 고딕 양식은 12세기 이후 중세 유럽의 문화이다.


- ① 고대 그리스
- ② 헬레니즘
- ③ 고대 그리스
- ④ 중세 유럽
- ⑤ 헬레니즘

32 (20수능대비 수완 세계사 변형)

밑줄 친 ㉠이 진행되는 동안에 일어난 일로 옳지 않은 것은?

우리가 이번 로마 방문을 통해 교황청의 오랜 염원을 실현해야 하지 않겠는가? 보니파키우스 8세 이후 교황청이 아비뇽으로 옮겨진 것은 ㉠우리 교회의 치욕이었다.

교황 우르바누스 5세시여, 모든 성도들은 교회의 권위를 바로 세우시기 위해 노심초사하시는 당신의 노고를 영원히 잊지 않을 것입니다.



- ① 흑사병이 유행하였다.
- ② 백년 전쟁이 발발하였다.
- ③ 황금 문서가 제작되었다.
- ④ 자크리의 난이 발생하였다.
- ⑤ 후스가 교회 개혁 운동을 전개하였다.

정답 5

제시된 자료는 아비뇽 유수(1309~1377)에 관한 내용이다.

- ① 1347~1353
- ② 1337 발발, 1453 종식
- ③ 1356
- ④ 1358
- ⑤ 1412

33

다음 자료가 발표된 시기에 볼 수 있는 모습으로 옳지 않은 것은?

우리는 자유인의 의무를 수행하고 있고, 자유인의 특권을 가져야 한다. ... (중략) ... 모든 성인 남자에게 의원 선거권을 부여할 것, 앞으로 있을 모든 의원 선거를 비밀선거로 할 것, 그렇게 선출된 의원의 임기가 어떤 상황에서도 1년을 넘지 않도록 할 것, 피선거권자의 모든 재산 자격을 철폐할 것, 의원의 봉직 기간에 대해 적절한 보상을 제공할 것을 주장한다.

- ① 먼로 선언을 발표한 미국
- ② 시민의 봉기로 추방된 샤를 10세
- ③ 탄지마트를 시행하는 오스만 제국
- ④ 오스만 제국으로부터 독립한 그리스
- ⑤ 선거권을 부여받은 도시의 상공업자

정답 3

제시된 자료는 1838년 차티스트 운동 당시 발표된 인민헌장이다.

- ① 1823
- ② 1830 프랑스 7월 혁명
- ③ 1839
- ④ 1829 그리스 독립
- ⑤ 1832년 영국의 제1차 선거법 개정 이후
1차 선거법 개정 당시 노동자들은 선거권을 부여받지 못하였다.
이에 차티스트 운동이 발생하였다.

34

다음과 같은 선언을 발표한 인물에 대한 설명으로 옳은 것은?

유럽에는 제작기 다른 사회 체제를 가진 국가들이 섞여 있습니다. 그리고 각국의 사회적·정치적 질서는 꾸준히 변해 왔고, 앞으로도 계속될 것입니다. 그러나 이는 그 나라 인민이 결정하고 선택할 문제입니다. 우방국이든 동맹국이든 어떤 식으로든 타국의 내정에 간섭하거나 주권을 제한하려 해서는 안 됩니다.

- ① 동방 정책을 추진하였다.
- ② 평화공존론을 주장하였다.
- ③ 신경제 정책을 시행하였다.
- ④ 제정을 무너뜨리고 임시 정부를 수립하였다.
- ⑤ 페레스트로이카·글라스노스트 정책을 시행하였다.

정답 5

타국의 내정에 대한 불간섭을 주장했다는 점으로 보아 이 인물은 고르바초프이다.

- ① 서독의 브란트 총리
- ② 흐루쇼프
- ③ 레닌
- ④ 케렌스키 등 멘셰비키
- ⑤ 고르바초프

35 (21수능대비 수완 동아시아사 변형)

다음의 학문 경향이 등장한 막부 시기의 동아시아 모습으로 옳지 않은 것은?

이토 진사이는 다음과 같이 말하였다. “본래 <대학>은 ”예기“에 있던 한 편의 글이다. 그러나 누구의 손에서 나왔는지는 상세하지 않다. 주자에 이르러 비로소 경(經) 1장과 전(傳) 10장으로 나누어졌다. 경은 공자의 말씀이고 전은 증자의 뜻인데 문인들이 이를 기록한 것이라 한다. 대개 그 뜻이 좋다고 생각하여 숭상한 것에서 나온 것이지 고증해서 말한 것이 아니다. 후학이 스스로 변별할 줄 모르고, 곧바로 공자가 말하였고 증자가 이를 전한 것이라고 여긴다. 도(道)를 해롭게 함이 심하다고 할 수 있다. …… 이에 가만히 스스로 헤아리지 않고 공맹의 혈맥을 함부로 말해 이를 다음 세상에 부치니 실로 두려운 것은 공맹의 뜻이 후세에 크게 밝혀지지 않는 것이다.”

- ① 한국 - 연행사를 통해 서학이 전래되었다.
- ② 한국 - 실학자들이 등장해 개혁을 주장하였다.
- ③ 중국 - 황제가 오이라트에게 포로로 잡혔다.
- ④ 중국 - 실사구시적 성격의 고증학이 발달하였다.
- ⑤ 일본 - 나가사키를 통해 서양 학문이 수용되었다.

정답 3

에도 막부 시대에 이토 진사이는 공자, 맹자 시대 유학으로의 복귀를 주장하였다. 이를 통해 고학이 발달하였다.

③번은 1449년 토목보의 변으로, 당시 일본은 무로마치 막부였다.

36 (21 수능대비 수특 세계사)

(가) 종족에 대한 설명으로 옳은 것은?

→ (가) 의 이동
 [(가) 의 정착지]
 ▨ 기원전 1500년경
 ■ 기원전 1000년경
 ▤ 기원전 500년경

지도는 중앙아시아에서 유목 생활을 하던 종족 중 일부가 인도로 이동한 방향과 정착지를 표시한 것이다. (가) 은/는 힌두쿠시산맥을 넘어 인더스강 유역으로 남하하여 인도 서북부 지방에 정착하였고, 이후 동쪽의 갠지스강 유역으로 진출하였다. 이 과정에서 (가) 은/는 자신들의 특권을 유지하고 원주민을 지배하기 위해 카스트제를 만들었다.

- ① 브라만교를 신봉하였다.
- ② 이스라엘 왕국을 세웠다.
- ③ 길가메시 서사시를 남겼다.
- ④ 알파벳의 기원이 되는 문자를 사용하였다.
- ⑤ 영혼 불멸을 믿어 미라와 피라미드를 제작하였다.

정답 1

중앙아시아에서 유목생활을 하던 종족이 인더스강 유역으로 남하하여 갠지스강 유역으로 진출하였다는 점, 카스트제를 만들었다는 점에서 (가) 종족은 아리아인임을 알 수 있다.

- ① 아리아인은 브라만교를 신봉하였고 <베다>를 만들었다.
- ② 헤브라이인이 세운 왕국은 솔로몬왕 사후 이스라엘과 유대로 분열되었다.
- ③ 메소포타미아 문명에 대한 설명이다.
- ④ 페니키아는 표음문자를 제작하였는데 알파벳의 기원이 되었다.
- ⑤ 이집트 문명에 대한 설명이다.

사실 이 문제는 굳이 아리아 인인 것을 몰라도 풀 수 있다.

카스트 제도는 브라만교의 신분 제도이기 때문이다.

37

(가)와 (나) 발표 사이 시기에 일어난 일로 옳지 않은 것은?

(가) 우리는 유럽이 제2차 세계 대전의 폐허에서 일어설 수 있도록 도와야만 합니다. 지금 세계 경제가 얼마나 심각한 형편에 놓여 있는지는 새삼 다시 말씀드릴 필요가 없을 것입니다. 우리는 무슨 수를 써서라도 세계 경제를 하루빨리 정상으로 돌려놓아야 합니다.

(나) 미국은 아시아의 여러 나라와 체결한 조약은 지키지만, 강대국의 핵 위협의 경우를 제외하고는 내란이나 침략에 대하여 아시아 각국은 스스로 협력하여 대처해야 합니다.

- ① 베를린 장벽이 설치되었다.
- ② 대약진 운동이 전개되었다.
- ③ 중화인민공화국이 수립되었다.
- ④ 유럽 공동체(EC)가 출범하였다.
- ⑤ 전략무기제한협정(SALT)이 체결되었다.

정답 5

(가)는 마셜 계획 발표(1947), (나)는 닉슨 독트린(1969)이다.

- ① 1961(베를린 봉쇄(1948)하고 헛갈리면 안된다!!!)
- ② 1958~1961
- ③ 1949
- ④ 1967
- ⑤ 1972

38 (19 수능대비 수완 세계사 변형)

밑줄 친 '조국'에 대한 설명으로 옳은 것은?



- ① 라마 5세가 개혁을 실시하였다.
- ② 인도차이나 공산당이 조직되었다.
- ③ 수카르노가 독립운동을 전개하였다.
- ④ 리자 샤의 주도로 팔레비 왕조가 수립되었다.
- ⑤ 아기날도가 미국을 지지하며 독립을 선언하였다.

정답 2

판보이쩌우의 조국은 베트남이다.

- ① 타이
- ② 베트남
- ③ 인도네시아
- ④ 이란
- ⑤ 필리핀

39

다음 인물에 대한 설명으로 옳은 것은?



다음은 러시아 블라디보스토크에 있는 동상이다. 러시아 제국의 혁명조직인 볼셰비키의 지도자였으며, 소련 인민위원회 초대 위원장 겸 소련 공산당의 창립자였다. 세계 대전이 일어나자, 독일과 단독 강화 조약을 체결하여 전쟁을 멈추었다.

- ① 재무장을 선언하였다.
- ② 신경제 정책을 추진하였다.
- ③ 알바니아를 보호국화하였다.
- ④ 독립국가연합을 선언하였다.
- ⑤ 경제 개발 5개년 계획을 추진하였다.

정답 2

다음 사진의 인물은 레닌이다.(참고로 저 사진 본인이 직접 찍은거)

- ① 히틀러
- ② 레닌
- ③ 무솔리니
- ④ 엘친
- ⑤ 스탈린

40 (20 수능대비 수완 세계사)

다음의 편지가 작성된 시기를 연표에서 옳게 고른 것은?

“귀하는 쿠바를 마음에 두고 있습니다. 쿠바가 미국에서 90마일밖에 떨어져 있지 않기 때문에 걱정하고 계십니다. 한편 터키는 우리 나라와 이웃해 있습니다. …… 귀하는 문자 그대로 우리 나라에 인접한 터키에 귀하가 공격용이라 부르는 파괴적인 미사일을 배치하였습니다. …… 우리는 귀하가 공격용 무기로 보신 무기를 쿠바에서 철수시키겠습니다. …… 이에 귀국 대표는 우리의 불안과 바람을 고려해서 터키에서 같은 무기를 철수하겠다는 뜻을 밝혀 주시기 바랍니다.”

| | (가) | (나) | (다) | (라) | (마) |
|---------------------|-----|-----|-----|-----|-----|
| 제2차 세계 대전 종전 | | | | | |
| 6·25 전쟁 발발 | | | | | |
| 닉슨 독트린 발표 | | | | | |
| 미·중 수교 | | | | | |
| 고르바초프 소련 공산당 서기장 취임 | | | | | |
| 베를린 장벽 붕괴 | | | | | |

- ① (가) ② (나) ③ (다) ④ (라) ⑤ (마)

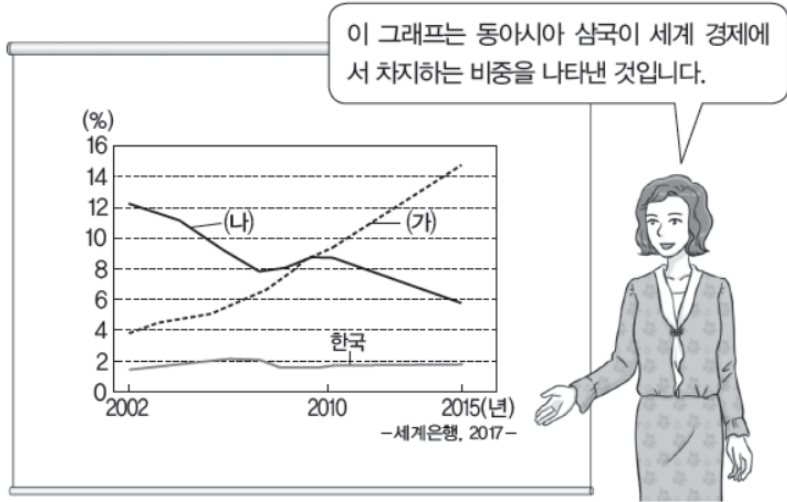
정답 2

다음 편지는 소련 총리 흐루쇼프가 미국 대통령 케네디에게 보낸 편지이다. 쿠바 미사일 위기(1962)에 대한 설명이다.

- 제2차 세계 대전 종전(1945)
- 6·25 전쟁 발발(1950)
- 닉슨 독트린 발표(1969)
- 미·중 수교(1979)
- 고르바초프 서기장 취임(1985)
- 베를린 장벽 붕괴(1989)

41 (21 수능대비 수완 동아시아시아)

(가), (나) 국가에 대한 설명으로 옳은 것은?



- ① (가) - 록히드 사건 등 부패 사건이 일어났다.
- ② (가) - 개혁·개방 정책으로 경제가 성장하였다.
- ③ (나) - 세계 3대 쌀 수출국으로 성장하였다.
- ④ (나) - 가오슝 사건으로 민주화 요구가 분출되었다.
- ⑤ (가), (나) - 일·하 평화 조약을 통해 국교를 수립하였다.

정답 2

제시된 자료가 2000년대이고 동아시아 3국인 것을 통해, (가)는 최근 세계 2위의 경제 대국으로 성장한 중국임을, (나)는 2010년 이후로도 계속 감소중인 일본임을 알 수 있다.

- ① 일본
- ② 중국
- ③ 베트남
- ④ 타이완
- ⑤ 일본&타이완

42

다음 인물에 대한 설명으로 옳은 것은?

사진 속의 인물은 합스부르크 군주국의 유일한 여성 통치자이다. 그녀는 1713년 국사조칙에 의해서 합스부르크 왕가의 상속녀로 공표되었으며, 카를 6세는 결국 아들을 낳지 못하고 죽었으므로, 그의 사후 합스부르크 왕가의 수장이 되었다. 하지만 프로이센과 바이에른, 프랑스, 작센에서는 그녀의 계승을 반발하여 전쟁이 발발하게 되지만, 프로이센에 슐레지엔을 내주는 대신 각 국으로부터 그녀의 승인을 인정받는다. 그녀는 후에 슐레지엔을 찾으려고, 7년 전쟁을 일으키지만 실패하고 만다.



- ① 레판토 해전에서 승리하였다.
- ② 국가 제일의 공복을 자처하였다.
- ③ 낭트 칙령으로 신앙의 자유를 허용하였다.
- ④ 수장령을 선포하여 국교회의 수장이 되었다.
- ⑤ 다른 국가들과 함께 폴란드 분할에 참여하였다.

정답 5

사진 속 인물은 오스트리아의 마리아 테레지아이다.

이 인물은 오스트리아의 군주 요제프 2세와 프랑스 왕비 마리 앙투아네트의 어머니이기도 하다. 아들인 요제프 2세와 함께 국정을 총괄하였던 인물이다.

- ① 에스파냐의 펠리페 2세
- ② 프로이센의 프리드리히 2세
- ③ 프랑스의 앙리 4세
- ④ 영국의 헨리 8세
- ⑤ 오스트리아의 마리아 테레지아&요제프 2세

43

다음 제정의 영향으로 적절한 것은?

○○○ 제정

- 오직 잉글랜드 혹은 식민지 배만 영국 식민지로 상품을 옮길 수 있다.
- 잉글랜드 인(식민지 주민 포함) 선원이 최소한 절반 이상을 차지해야 한다.
- 담배와 설탕, 직물은 오직 잉글랜드로만 팔 수 있다.
- 식민지로 향하는 모든 상품은 잉글랜드를 거쳐야 하며 수입 관세를 내야한다.

- ① 네덜란드가 쇠퇴하였다.
- ② 신항로 개척이 활성화되었다.
- ③ 잉카 문명이 붕괴되었다.
- ④ 공안위원회가 설치되었다.
- ⑤ 공장제 기계 공업이 확산되었다.

정답 1

제시된 자료는 청교도 혁명 이후 크롬웰이 제정한 항해법이다. 당시 네덜란드는 유럽 최대의 해운국으로 해상 무역으로 큰 이익을 얻고 있었으나 항해법의 제정으로 쇠퇴하였다.

44

다음과 같은 주장을 한 인물에 대한 설명으로 옳은 것은?

일찍이 신께서는 당신의 영원불변의 섭리를 통해서 구제해 주시고자 하는 자들과 파멸에 빠뜨리시고자 하는 자들을 결정하셨다. 선택된 자들에게 이와 같은 섭리는 인간의 자질과는 아무런 관계없는 신의 자비에 근거한 것이며, 또 반대로 신께서 지옥에 떨어뜨리시려고 하는 모든 자들에게는 생명으로 나아가는 길이 막혀 있음을 뜻하는 바이다. ... (중략) ... 신께서 예정해 놓은 것을 뒤집기 위해서 몇몇이 만든 몽상을 나는 여기서 버리려 한다.

- ① 예수회를 설립하였다.
- ② 수장령을 선포하였다.
- ③ 회망봉에 도착하였다.
- ④ 베스트팔렌 조약에서 인정되었다.
- ⑤ 붉은 셔츠단을 이끌고 나폴리를 점령하였다.

정답 4

예정설을 주장한 칼뱅의 <크리스토포 강요>의 일부이다.

- ① 로올라(여담으로 미국 LA에 로올라 메리마운트 대학이 있는데 예수회 학교라고 한다.)
- ② 헨리 8세
- ③ 바스쿠 다 가마
- ④ 칼뱅파
- ⑤ 가리발디

45

<보기>에서 (가) 전쟁에 대해 옳은 말을 하고 있는 사람을 모두 고른 것은?



<보기>

| |
|------------------------------|
| 상훈 - 잔 다르크가 활약하였어요. |
| 현규 - 전쟁 중에 예루살렘 왕국이 건설되었어요. |
| 태현 - 아비뇽 유수가 끝나기 이전에 종결되었어요. |
| 준호 - 전쟁 중에 황금 문서가 공포되었어요. |
| 응환 - <우신 예찬>의 영향을 받았어요. |

- ① 태현, 응환
- ② 현규, 준호
- ③ 상훈, 준호
- ④ 상훈, 응환
- ⑤ 태현, 현규

정답 3
다음의 전쟁은 백년 전쟁(1337~1453)이다.

- ① 백년 전쟁
- ② 십자군 전쟁
- ③ 아비뇽 유수(1309~1377)
- ④ 황금 문서 공포(1356)
- ⑤ 에라스무스의 <우신 예찬>은 1511년 출간

46

밑줄 친 '왕'에 대한 설명으로 옳은 것은?



- ① 갈레온 무역을 전개하였다.
- ② 콜럼버스를 지원하였다.
- ③ 통일법을 선포하였다.
- ④ 콜베르를 등용하였다.
- ⑤ 술레지엔을 확보하였다.

정답 1
레판토 해전에서 승리했다는 점으로 보아 이 '왕'은 에스파냐의 펠리페 2세이다.

- ① 펠리페 2세
- ② 이사벨 1세
- ③ 엘리자베스 1세
- ④ 루이 14세
- ⑤ 프리드리히 2세

47 (20 수능대비 수특 동아시아사 변형)
밑줄 친 '그'에 대한 설명으로 적절한 것은?

• 그는 예로부터 전해 오는 법을 바꾸어 300보(步)를 1정(町)으로 삼아 천하의 전지(田地)를 측량하게 하였다. 예전의 법에서 360보를 1정으로 삼은 것은 1보의 생산량을 한 사람이 하루 먹는 분량으로 어림하고, 1정을 1년 치로 적용하였기 때문이라고 한다.

• 그는 무사가 아닌 자로부터 칼을 몰수할 것을 여러 지방에 명령하고 그것으로 대불을 만들고자 하였다. 아마구치 지방의 세력가였던 모리 데루모토가 보낸 도검만 하더라도 배 여섯 척에 실은 양이었다고 한다.

- ① 나가시노 전투에서 승리하였다.
- ② 에도 막부를 개창하였다.
- ③ 조선에 정명향도를 요구하였다.
- ④ 무로마치 막부를 멸망시켰다.
- ⑤ 산킨코타이 제도를 실시하였다.

- 정답 3
이 인물은 도요토미 히데요시이다.
- ① 오다 노부나가
 - ② 도쿠가와 이에야스
 - ③ 정명향도=명을 정복할 것이니 길잡이가 되어라
 - ④ 오다 노부나가
 - ⑤ 에도막부

48 (20 수능대비 수특 동아시아사)
(가) 시대에 동아시아에서 볼 수 있었던 모습으로 적절한 것은?

〈수행 평가 계획서〉

1. 주제 : (가) 시대의 사회 혼란

2. 수집 자료

- 아시카가 요시마사의 치세 때에 혼란이 일어났다. …… 제멋대로 교만과 사치를 부려 천하의 다이묘와 인민들이 몹시 괴로워했기 때문에 …… 아시카가 가문의 저택도 결국 무너지고 말았다.
- 오다 노부나가는 아시카가 요시아키를 교토로 모셔와 봉사하였다. 그렇지만 요시아키는 노부나가를 적이라고 공공연히 말하였다. …… 요시아키는 오사카, 사카이를 거쳐 결국 아마구치 지역으로 가서 오늘날까지 유배 생활을 보내고 있다.

- ① 헤이조쿄로 천도하는 천황
- ② 에도로 향하는 통신사 일행
- ③ 랴오둥 지역을 공격하는 팔기
- ④ 3포의 난 진압에 동원된 군사
- ⑤ 하카타만에 상륙하는 몽골 군대

정답 4

문제 분석 아시카가는 무로마치 막부의 쇼군 가문이다. 오다 노부나가는 센고쿠 시대에 활동하였던 무사이다. (가) 시대는 아시카가 가문의 저택이 무너지고 오다 노부나가가 활동하는 상황을 통해 센고쿠 시대임을 알 수 있다.

정답 찾기 ④ 쇼군가의 후계자 문제를 두고 일어난 오닌의 난(1467~1477) 이후 다이묘들이 독립하여 패권을 다투는 센고쿠 시대가 전개되었다. 센고쿠 시대는 1590년에 도요토미 히데요시가 통일할 때까지 이어졌다. 한편, 16세기 초 조선이 3포의 일본인에게 엄격한 통제를 가하자, 이에 대한 반발로 1510년 일본인들이 3포의 난을 일으켰다.

오답 피하기 ① 8세기 초 일본은 헤이조쿄를 건설하고 천도하였다.

- ② 1600년에 세키가하라 전투에서 승리한 도쿠가와 이에야스가 1603년 에도 막부를 세웠다. 조선은 에도 막부의 요청으로 통신사를 파견하였다.
- ③ 17세기의 사실이다. 누르하치는 1616년에 후금을 세운 후 팔기를 앞세워 랴오둥 지역을 공격하면서 명과 대립하였다.
- ⑤ 13세기 후반에 몽골이 두 차례에 걸쳐 일본을 공격하였다.

49 (20 수능대비 수특 동아시아사)

다음 자료를 통해 알 수 있는 민족 운동에 대한 설명으로 옳은 것은?

일본은 칭다오 병합과 산둥에서의 권리를 요구하면서 파리 강화 회의에서 동의를 얻으려 하고 있다. 그들의 외교는 대승리를 거둔 반면, 우리의 외교는 대실패하였다. 산둥의 상실은 중국 영토 보전의 파괴이다. 영토가 일단 파괴되면 중국은 곧 멸망할 것이다. 따라서 우리 학생들은 오늘 대오를 맞추어 연합국 공사관으로 가서 각국이 정의를 지지할 것을 요구한다. 우리는 전국의 농민, 상공업자, 각계각층이 모두 일어난 국민 대회를 열고, 대외적으로 우리의 국권을 찾고 대내적으로 국적(國賊)을 제거하기를 바란다. 중국의 존망이 이 한 번의 거사에 달려 있다. 오늘 우리는 전국의 동포와 함께 두 가지 엄숙한 서약을 하고 싶다. 중국의 영토는 정복된다 할지라도 할양될 수 없고, 중국의 인민은 살육된다 할지라도 굴복하지는 않을 것이다. 우리나라는 망하려 한다. 동포여, 필기하라.

- ① 카흐타 협정 체결로 이어졌다.
- ② 황제의 조치에 호응하여 일어났다.
- ③ 중국 국민당 결성에 영향을 주었다.
- ④ 신문화 운동이 전개되는 계기가 되었다.
- ⑤ 25세 이상 남성의 보통 선거 제도 도입을 가져왔다.

정답 3

자료에서는 일본의 칭다오 병합과 산둥에서의 권리 요구에 중국인들이 반발하여 일어난 봉기라는 내용을 통해 1919년에 일어난 5·4 운동임을 알 수 있다. 파리 강화 회의에서 일본의 '21개조 요구' 철폐와 산둥반도의 이권 반환 등 중국의 요구가 거부되었다는 소식이 알려지자, 베이징 학생들을 중심으로 5·4 운동이 일어났다.

- ① 신해혁명 후 외몽골이 독립을 선언하였으나, 중국의 반발로 러시아, 중국, 몽골의 3자 협상에 의해 1915년에 외몽골의 자치만을 인정하는 카흐타 협정이 체결되었다.
- ② 청·프 전쟁에서 승리한 프랑스가 베트남을 사실상 지배하게 되자, 베트남 황제의 조치에 따라 학자와 관리들이 프랑스에 저항하는 근왕 운동을 전개하였다.
- ③ 5·4 운동은 1919년 중국 국민당 결성과 1921년 중국 공산당 창당에 영향을 주었다.
- ④ 중화민국 초기 위안스카이의 독재에 대한 반발로 천두슈 등 지식인들이 신문화 운동을 전개하였다.
- ⑤ 일본에서는 러·일 전쟁 이후 도시 대중과 노동자층의 증가 및 정치의식의 성장을 배경으로 민주주의가 진전되어 1925년에 25세 이상 남성의 보통 선거 제도가 도입되었다.

50

(가) 국가 시기의 동아시아 대외 관계에 대한 설명으로 옳은 것은?



- ① 당이 안남도호부를 설치하였다.
- ② 고구려 장수왕이 남조와 외교 관계를 맺었다.
- ③ 신라와 당나라가 연합하였다.
- ④ 한 고조가 흉노에 공물을 보냈다.
- ⑤ 엔닌이 <입당구법순례행기>를 저술하였다.

정답 2

(가) 국가는 북위이다.(위진남북조)

51

(가)와 (나) 사이 시기에 일어난 일로 옳은 것은?

(가) 황제는 한 사람이 통치하기에 제국이 너무 방대하다고 생각하였다. 그리하여 막시미아누스와 함께 제국을 두 부분으로 나누어 통치하였다. 그럼에도 복잡한 문제가 해결되지 않자, 두 황제는 각각 부황제를 두었다.
 (나) 황제는 자신의 통치를 받는 모든 로마인과 로마의 속주민에게 베드로가 전파한 종교를 믿을 것을 명하였다.

- ① 헤지라가 단행되었다.
- ② 아리우스파가 축출되었다.
- ③ 로마가 동·서로 분열되었다.
- ④ 메로베우스 왕조가 성립되었다.
- ⑤ 로마가 사산 왕조 페르시아에 패하였다.

정답 2

(가)는 로마 제국의 디오클레티아누스 황제의 제국 분할(293)이고, (나)는 테오도시우스 황제의 크리스티교 국교화(392)이다.

- ① 헤지라는 622년 일어났고 이슬람 원년이다.
- ② 아리우스파는 니케아 공의회(콘스탄티누스 황제)에서 축출되었다.
- ③ 테오도시우스 황제 사후의 일이다.
- ④ 481년 클로비스가 메로베우스 왕조가 수립되었다.
- ⑤ 군인 황제 시대(디오클레티아누스 이전)에 있었던 일이다.

52 (22 수능대비 수특 세계사 변형)

다음의 '그'의 국가에 대한 설명으로 옳은 것은?

신종은 즉위 이전에 <만언서>를 읽고 이를 대단히 마음에 들어 하였다. 즉위 후 신종은 <만언서>의 저자인 "그"를 조정에 불러 들여 개혁의 책략을 물었다. 그는 구체적인 방안을 제출하여 신종이 개혁을 시행할 결심을 굳히도록 하였고, 그 결과 균수법, 모역법, 지역법 등이 시행되었다.

- ① 공행을 설치하였다.
- ② 이갑제를 시행하였다.
- ③ 교자를 발행하였다.
- ④ <오경정의>가 편찬되었다.
- ⑤ 파스파 문자를 사용하였다.

정답 3

신종이 개혁을 시도하였다는 점, 균수법, 모역법, 지역법 등이 시행되었다는 점 등을 통해 "그"는 북송의 왕안석임을 알 수 있다.

- ① 청 건륭제
- ② 명 홍무제
- ③ 북송(남송은 회자)
- ④ 당 공영달
- ⑤ 원 쿠빌라이

53 (19 수능대비 수완 세계사)

(가) 인물의 개혁에 대한 설명으로 옳은 것은?

아리스토텔레스에 따르면 (가) 이/가 등장하기 이전의 아테네 정치는 과두제에 가까운 것이었다. 대부분의 권력은 토지를 장악한 몇몇 인물의 수중에 있었으며, 나머지 사람들은 가난이나 인신 구속, 혈통을 따지는 고루한 인습 등의 이유로 정치에는 전혀 참여할 수 없었다. 이 같은 계층 간의 갈등을 해소하기 위해 그가 중재자로 등장하게 된 것이다. 그보다 앞서 활약한 드라콘(Dracon)이 정치 참여의 기준을 출생과 부(富) 모두에 두었던 데 비해, (가) 은/는 오직 부를 기준으로 4개의 계급을 나누었다는 점이 특징적이다

- ① 헬레니즘 문화 성립의 계기가 되었다.
- ② 귀족과 평민 양쪽의 반발을 초래하였다.
- ③ 델로스 동맹의 재정을 기반으로 추진되었다.
- ④ 거주지 중심의 부족제 개편 이후 단행되었다.
- ⑤ 자영농 육성을 위해 농지 재분배를 시도하였다

정답 2

제시된 자료에서 계층 간의 갈등을 해소하기 위해 중재자로 등장한 점, 오직 부를 기준으로 아테네 시민들을 4개의 계급으로 구분한 점 등을 통해 (가) 인물은 솔론임을 알 수 있다.

- ① 알렉산드로스의 동서 융합 정책이 이에 해당한다.
- ② 솔론은 기원전 6세기 초에 재산 정도에 따라 참정권을 차등 분배하는 개혁을 추진하였으나, 귀족과 평민 양쪽 모두가 이에 불만을 갖고 개혁에 반발하였다.
- ③ 기원전 5세기 페리클레스 시대의 민주 정치 발전은 델로스 동맹의 재정에 의존한 측면이 있다.
- ④ 아테네의 부족제 개편은 기원전 6세기 말 클레이스테네스에 의해 추진된 개혁이었다.
- ⑤ 로마의 티베리우스 그라쿠스가 추진한 개혁이 이에 해당한다

54

다음의 사건이 일어난 시기를 연표에서 고르시오.

정강 2년, 여진이 수도 카이펑을 공격하고 상황인 위종을 위협하여 북방으로 연행하였다. 이후 흠종과 황후, 태자를 데리고 북방으로 가면서 황실의 가마와 의장대, 각종 도서와 전국 각지의 지도를 가져갔다.

| | | | | | |
|-----------|-------|-------|------|------|--------------|
| | (가) | (나) | (다) | (라) | (마) |
| 전연의 맹약 | 서하 건국 | 9성 축조 | 요 멸망 | 무신정변 | 가마쿠라 막부개창 |

- ① (가) ② (나) ③ (다) ④ (라) ⑤ (마)

정답 4

다음 사건은 정강의 변(1126~1127)이다. 요 멸망(1125)과 무신정변(1170) 사이의 일이다. 11~12세기의 흐름 파악 문제는 자주 출제된다.

55

다음 연표의 (가) 시기에 들어갈 일로 옳은 것은?

당의 현장이 인도에서 돌아와 대안탑을 축조하였다.



(가)



일본의 엔닌이 장보고의 도움을 받아 당에 머물렀다.

- ① 법현이 인도를 순례하였다.
- ② 쿠마라지바가 불경을 한역하였다.
- ③ 일본에서 고쿠분사가 축조되었다.
- ④ 의천이 해동 천태종을 창시하였다.
- ⑤ 달마가 중국에 선종을 전파하였다.

정답 3

현장(7세기)와 엔닌(9세기) 사이의 일을 묻는 문제다.

법현 - 남북조(동진)

쿠마라지바 - 5호 16국

고쿠분사 축조(8세기)

의천 - 11세기(고려)

달마 - 남북조 시대

이런 문제는 이제 지겹죠?ㅋㅋ

56 (19 수능대비 수완 세계사 변형)

(가) 세력에 대한 설명으로 옳지 않은 것은?

(가) 은/는 지난 1,400년 동안 이슬람교 내에서 수니파와 정치적, 종교적으로 긴장 관계를 유지하고 있다. 이들은 4대 칼리프인 알리를 무함마드의 유일한 후계자로 간주하며, 특히 이맘(Imam)의 정체성을 이해하는 데 있어 수니파와 현격한 차이를 보인다. 이들은 이맘의 역할이 쿠란과 이슬람 진리의 감추어진 부분을 무슬림들에게 알려 주고 지도하여 그들이 영적 생활을 할 수 있도록 안내하는 것이라 여기는데, 무함마드의 영적 능력이 알리와 그의 후손들에게 대대로 이어지고 있으므로 최후의 이맘이 알리의 자손 중에서 태어나 세상의 불의를 심판하기 위해 나타나리라고 믿는다.

- ① 세습 칼리프제를 지지한다.
- ② 사파비 왕조가 (가) 세력이다.
- ③ 파티마 왕조가 (가) 세력이다.
- ④ 이슬람교 내에서 소수파이다.
- ⑤ 아바스 왕조의 성립에 기여하였다.

정답 1

(가) 세력은 시아파이다.

시아파는 정통 칼리프제를 지지한다.(세습칼리프는 수니파)

이슬람교 내에서 소수파이며, 아바스 왕조의 성립에 기여하였고

대표적인 시아파 왕조로는 파티마, 사파비, 부와이 왕조가 있다.

57 (2020년 고2 11월 세계사)

밑줄 친 반란에 대한 설명으로 옳은 것은?

나는 난징에 도착하여 반란을 일으킨 홍수전을 부관
 참시하였다. 또한 충왕(忠王)이라고 불리는 자도 법에
 따라 처형하였다. 이들은 민중을 현혹하여 세력을 키
 우고 난징을 점령하여 조정을 위협하던 자들이었다.
 부(富)장군이 보낸 문서를 받아보니, 황제께서는 반란
 진압에 공을 세운 나를 후(侯)에 봉하셨고, 네 숙부 국전
 을 백(伯)에 봉하셨다.

- ① 천조전무 제도를 발표하였다.
- ② 의화단을 중심으로 전개되었다.
- ③ 철도 국유화 조치에 반발하여 일어났다.
- ④ 홍콩을 영국에 할양하는 배경이 되었다.
- ⑤ 메이지 유신을 본받아 정치 개혁을 추진하였다.

정답 1

홍수전이 반란을 일으켰다는 점에서 반란은 태평천국 운동이라는 것을 알 수 있다.


- ① 태평천국 운동은 천조전무 제도를 발표하였다.
- ② 의화단 운동에 대한 설명이다.
- ③ 우창 봉기에 대한 설명이다.
- ④ 제1차 아편 전쟁의 결과로 체결된 난징 조약에 대한 설명이다.
- ⑤ 변법자강 운동, 갑신정변에 대한 설명이다.

58 (2020년 고2 11월 세계사)

다음 사건이 일어난 시기를 연표에서 고른 것은?

세계사 신문

로베스피에르 몰락하다!



테르미도르 9일, 의회에 참석
 한 로베스피에르는 독재자 타도
 를 외치는 의원들의 고향 속에서
 결국 연단에서 끌려 내려왔다.
 로베스피에르는 동료들과 함께
 체포되어 실각하였고 그의 시대
 는 끝나게 되었다.

| | | | | |
|-----------------|-------------|-------------|--------------|--------------|
| (가) | (나) | (다) | (라) | (마) |
| 테니스코트의 서약 발표 | 국민 공회 구성 | 총재 정부 수립 | 나폴레옹의 쿠데타 | 루이 필리프 즉위 |
| | | | | 2월 혁명 발발 |

- ① (가)
- ② (나)
- ③ (다)
- ④ (라)
- ⑤ (마)

정답 2

로베스피에르는 국민 공회의 주도자이다.
 공포 정치를 펼쳤고 공안위원회를 설치했다.
 로베스피에르는 테르미도르의 반동으로 처형되었고
 그 후 5명의 총재가 이끄는 총재 정부가 수립되었다.
 프랑스 혁명의 흐름은 알고 있어야 한다.
 (모르면 대학에 못가요~)

59

(가)와 (나) 사이의 시기에 발생한 일로 옳은 것은?

(가)  나는 오늘 의회를 무시한 찰스 1세를 반역죄로 처형하였습니다.

(나)  나는 독일에서 성장하여 영국 사정에 어두워 의회에 정치를 맡기 고자 합니다.

- ① 낭트 칙령이 폐지되었다.
- ② 보스턴 차 사건이 발생하였다.
- ③ 베스트팔렌 조약이 체결되었다.
- ④ 영국령 동인도 회사가 설립되었다.
- ⑤ 제 1차 폴란드 분할이 실행되었다.

정답 1

찰스 1세 처형 ⇒ 1649년 크롬웰

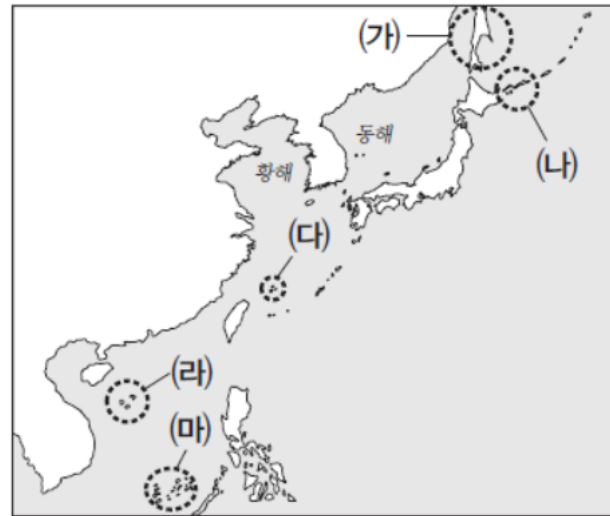
독일 출신, 의회에 정치 맡김 ⇒ 1714년 하노버 가의 조지 1세

- ① 1685년 루이 14세
- ② 1773년
- ③ 1648년
- ④ 1600년
- ⑤ 1772년

60 (20 수능대비 수완 동아시아사)

밑줄 친 '이 지역'을 지도에서 옳게 고른 것은?

이 지역은 청·일 전쟁을 거치면서 일본이 차지하였으나, 제2차 세계 대전 이후에는 미국이 점령하여 통치하다가 일본에 돌려주었다. 현재 중국은 물론 타이완도 이 지역이 자국 영토라고 주장하고 있다.



- ① (가)
- ② (나)
- ③ (다)
- ④ (라)
- ⑤ (마)

정답 3

제시된 자료는 센카쿠 열도(다오위다오)에 대한 설명이다.

- ① 사할린 남부
- ② 쿠릴 열도 남부 4개 섬
- ③ 센카쿠 열도(다오위다오)
- ④ 파라셀 군도(시사 군도)
- ⑤ 스프래틀리 군도

