

# 삼각함수 활용!

by 지민!

## 1. 목적정 밖치기 X, 설계 먼저!

설계가 거창한 것이 아니다. ~~\*\*\*~~ 문제의 조건을 어떻게 활용할지, 주어진 도형에서 어떤 걸 할 수 있을지 고민해보고 풀이에 진입해야 한다.

### 도형의 기본은 삼각형

사각형, 오각형, 직선, 곡선 ... 등등 도형이 복잡한 경우 무조건 삼각형으로 쪼개 생각할 것! 여태껏 배운 도형의 성질들 대부분이 삼각형에 관한 것이다.

### ~~\*\*\*~~ 확장된 삼각형

삼각형에는 변 길이 3개, 각 관련 정보 3개 총 6개의 조건이 있고, 이 중 아무거나 3개만 알면 삼각형이 확장된다.  $\Rightarrow$  모든 정보를 구할 수 있다. 이 논리가 익숙해지면 문제 풀이 전, 풀이 중 설계를 할 때 유용하고, 계산량도 준다.  $\Rightarrow$  칼럼, 손해설 참고 땀 꼭 땀!

### ~~\*\*\*~~ 문제가 안 풀린다면 "각"

도형에는 "길이" 정보와 "각(angle)" 정보가 있고, 일반적으로 "각" 정보가 파악하기도, 활용하기도 어렵다.

문제가 안 풀린다면 놓친 각 조건이 있는지 점검해보는 것이 좋다.

삼각형, 외각, 평행(엇각), 닮음, 원주각 ...

각 조건에 예민해지도록 !!

### 설계 단계에서 막혀도 OK $\Rightarrow$ 13번 참고

어려운 도형 문제는 주어진 조건을 어떻게 활용해야 할지 막막한 경우가 있다.

이런 경우 작져하지 말고 풀이를 시작해야 한다!

수선, 각 표시, 길이 표시 등 할 수 있는 것들을 하나가다 보면 길이 보일 것이다

## 2. 사용할 수 있는 틀은 숙달하기!

삼각형의  
넓이

$$\frac{1}{2} (\text{밑변})(\text{높이}) \quad \text{or} \quad \frac{1}{2} ab \sin \theta$$

의식할 필요 없이 **넓이를 알려주거나 구해야 하는 경우** 무조건 공식을 떠올려야 한다.

원

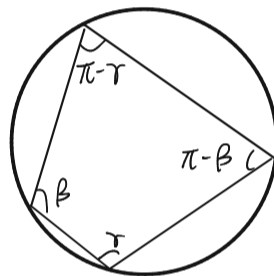
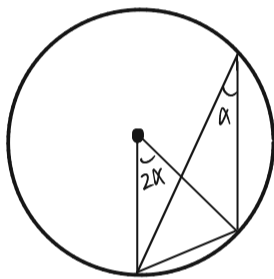
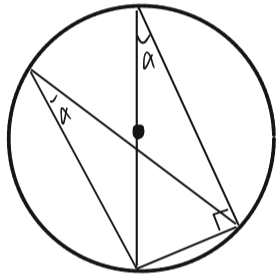
원 위의 모든 점은 **중심과 이을 것을** 염두에 두어야 하고,

**원주각/중심각** 도 잘 활용해야 한다.

원주각

**외접원이 그려져 있는 경우** 꼭 신경 써야 한다.

어려운 도형 문제에 잘 풀리지 않는 경우 원주각을 잘 관찰해 볼 것!!



중학도형

아작아작 중요하다. 문제 풀이 때 아래 내용을 떠올리지 못해 틀리는 일은 없어야 한다.

- 삼각형 외각
- 삼각형 합동, 닮음
- 중선, 각의 이등분선
- 무게 중심, 외심, 내심
- 내접원의 반지름과 삼각형 넓이의 관계

사인/코사인 법칙

단순히 공식을 잘 외우는 게 중요한 게 X

**어떤 정보가 있을 때 어떤 공식을 활용해야 할지** 영리하게 판단해야 한다.

**사인 법칙**

**외접원 반지름 ~, 넓이 ~** 나오면 무조건 의심!

삼각형에서 **"각" 정보가 2개 이상일 때**에도 유용하다.

**코사인 법칙**

영~~청 자각 쓰인다.

**변 3개를 모두** 안거나, **변 2개 각 1개**를 안다면 무조건 사용한다.

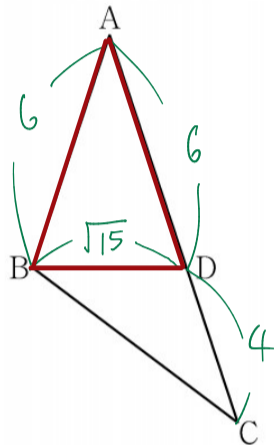
사인법칙과 달리, **등각일 때 cos의 부호를** 고려해줘야 한다.

제 2 교시

수학 영역 by 지민?

MENTOR

1.  $\overline{AB}=6$ ,  $\overline{AC}=10$ 인 삼각형 ABC가 있다. 선분 AC 위에 점 D를  $\overline{AB}=\overline{AD}$ 가 되도록 잡는다.  $\overline{BD}=\sqrt{15}$ 일 때, 선분 BC의 길이를  $k$ 라 하자.  $k^2$ 의 값을 구하시오. [3점]



41

<idea> [2021학년도 9월 모의평가 가형 12번/나형 25번]  
 $\triangle ABD$ 는 세 변의 길이를 모두 알기 때문에 "화정된 삼각형"

$\overline{BC}$ 를 구해야 하는데

i)  $\triangle ABC$  : 정보 하나 부족  $\rightarrow \angle A$  구하고 오기

ii)  $\triangle BCD$  : "  $\rightarrow \angle BDA$  구하고 오기

$$i) \overline{BD}^2 = \overline{AB}^2 + \overline{AD}^2 - 2\overline{AB}\overline{AD}\cos\angle A$$

$$15 = 36 + 36 - 2 \cdot 36 \cdot \cos\angle A$$

$$\therefore \cos A = \frac{19}{24}$$

$$\Rightarrow \overline{BC}^2 = \overline{AB}^2 + \overline{AC}^2 - 2\overline{AB}\overline{AC}\cos\angle A$$

$$\overline{BC}^2 = 36 + 100 - 2 \cdot 60 \cdot \frac{19}{24}$$

$$= 41$$

$$ii) \overline{AB}^2 = \overline{BD}^2 + \overline{AD}^2 - 2\overline{BD}\overline{AD}\cos(\angle BDA)$$

$$36 = 15 + 36 - 2\sqrt{15} \cdot 6 \cdot \cos(\angle BDA)$$

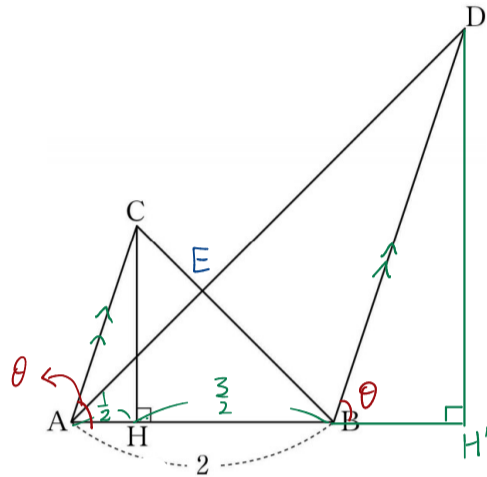
$$\therefore \cos(\angle BDA) = \frac{\sqrt{15}}{12}$$

$$\Rightarrow \overline{BC}^2 = \overline{BD}^2 + \overline{DC}^2 - 2\overline{BD}\overline{DC}\cos(\angle BDC)$$

$$\overline{BC}^2 = 15 + 16 + 2\sqrt{15} \cdot 4 \cdot \frac{\sqrt{15}}{12}$$

$$= 41$$

2. 그림과 같이  $\overline{AB}=2$ ,  $\overline{AC} \parallel \overline{BD}$ ,  $\overline{AC} : \overline{BD}=1:2$ 인 두 삼각형 ABC, ABD가 있다. 점 C에서 선분 AB에 내린 수선의 발 H는 선분 AB를 1:3으로 내분한다.



15

H'를 설정하는 과정이 항상적이어 보일 수 있는데, 1:2 비율, AB=2, 51 세 조건을 옆으로 미지수 도입 후 근사한 방식을 쓰는 등 어떻게든 풀려야! 처음 설계할 때 답이 나오도록 설계한 게 확실하다면, 계산 빠지기 막기위해가 마세요!

두 삼각형 ABC, ABD의 외접원의 반지름의 길이를 각각  $r$ ,  $R$ 라 할 때,  $4(R^2 - r^2) \times \sin^2(\angle CAB) = 51$ 이다.  $\overline{AC}^2$ 의 값을 구하시오. (단,  $\angle CAB < \frac{\pi}{2}$ ) [4점]

<idea> [2021 년도 3월 전국연합학력평가 21번]

$$4(R^2 - r^2)\sin^2(\angle CAB) = 51$$

원이 결합된 도형이 아니라 R을 쉽게 구하기는 어려워 보임  
 $\sin$  값을 구하려면 화정된 삼각형이 있어야 하는데 없음.

$\Rightarrow \frac{2}{\sin\theta} = 2R$  이용해 길이를 형변환 고려해볼 것

$\overline{AC} \parallel \overline{BD}$  이므로  $\angle CAB = \angle DBH' = \theta$

$$\frac{\overline{BC}}{\sin\theta} = 2r, \frac{\overline{AD}}{\sin\theta} = 2R$$

$$\Rightarrow \overline{AD}^2 - \overline{BC}^2 = 51 \dots \textcircled{1}$$

$\overline{AC} = a$  or  $\overline{CH} = h$  등 미지수 도입 후 ①을 한 문자로 정리

$$\overline{CH} = h \Rightarrow \overline{AC} = \sqrt{h^2 + \frac{9}{4}}, \overline{BC} = \sqrt{h^2 + 9}$$

한편,  $\triangle ACH$ 와  $\triangle BDH'$ 의 1:2 대응이므로

$$\overline{BH'} = 2\overline{AH} = 1, \overline{DH'} = 2\overline{CH} = 2h \Rightarrow \overline{AD} = \sqrt{4h^2 + 9}$$

①을  $h$ 로 정리하면,

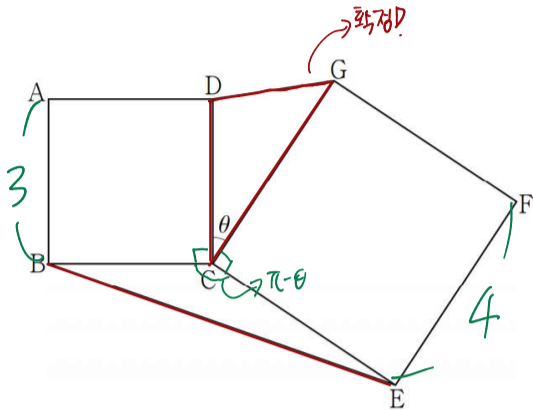
$$(4h^2 + 9) - (h^2 + \frac{9}{4}) = 3h^2 + \frac{27}{4} = 51$$

$$3h^2 = \frac{171}{4} \Rightarrow h^2 = \frac{57}{4}$$

$$\therefore \overline{AC}^2 = h^2 + \frac{9}{4} = 15$$

1 8

3. 그림과 같이 평면 위에 한 변의 길이가 3인 정사각형 ABCD와 한 변의 길이가 4인 정사각형 CDEF가 있다.  $\angle DCG = \theta$  ( $0 < \theta < \pi$ )라 할 때,  $\sin \theta = \frac{\sqrt{11}}{6}$ 이다.  $\overline{DG} \times \overline{BE}$ 의 값은? [4점]



- ① 15
- ② 17
- ③ 19
- ④ 21
- ⑤ 23

[2021년도 7월 전국연합학력평가 나형 15번]

idea

$\triangle DCG$ 는  $\overline{DC}$ ,  $\overline{CG}$ 를 알고,  $\theta$ 에 대한 정보가 있으므로 "확정된 삼각형"  $\Rightarrow$  코사인 법칙으로  $\overline{DG}$  구할 수 있음.

$\overline{BE}$ 를 구하기 위해선  $\triangle BCE$ 를 관찰해야 함.

$\overline{BC}$ ,  $\overline{CE}$ 를 알고,  $\angle BCE = \pi - \theta$  이므로  $\triangle BCE$ 도 "확정된 삼각형"  $\Rightarrow$  코사인 법칙으로  $\overline{BE}$  구할 수 있음.

$$\cos^2 \theta = 1 - \sin^2 \theta = \frac{25}{36} \quad \therefore \cos \theta = \frac{5}{6}$$

$$\begin{aligned} \overline{DG}^2 &= \overline{DC}^2 + \overline{CG}^2 - 2\overline{DC}\overline{CG}\cos\theta \\ &= 9 + 16 - 24 \cdot \frac{5}{6} \\ &= 5 \end{aligned}$$

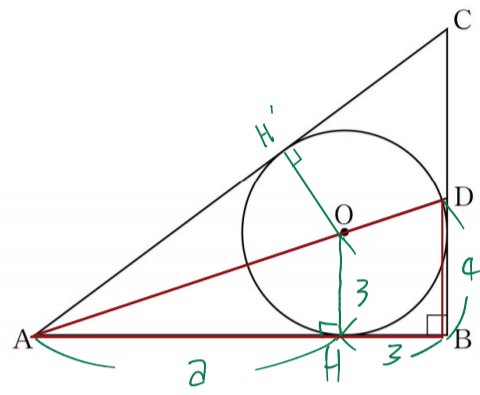
$$\boxed{\overline{DG} = \sqrt{5}}$$

$$\begin{aligned} \overline{BE}^2 &= \overline{BC}^2 + \overline{CE}^2 - 2\overline{BC}\overline{CE}\cos(\pi - \theta) \\ &= 9 + 16 + 24 \cdot \frac{5}{6} \\ &= 45 \end{aligned}$$

$$\therefore \boxed{\overline{BE} = 3\sqrt{5}}$$

$$\therefore \boxed{\overline{DG} \times \overline{BE} = 15}$$

4. 그림과 같이  $\angle ABC = \frac{\pi}{2}$ 인 삼각형 ABC에 내접하고 반지름의 길이가 3인 원의 중심을 O라 하자. 직선 AO가 선분 BC와 만나는 점을 D라 할 때,  $\overline{DB} = 4$ 이다. 삼각형 ADC의 외접원의 넓이는? [4점]



- ①  $\frac{125}{2}\pi$
- ②  $63\pi$
- ③  $\frac{127}{2}\pi$
- ④  $64\pi$
- ⑤  $\frac{129}{2}\pi$

[2021년도 10월 전국연합학력평가 가형 17번]

idea

주어진 단서가 적고, 각에 대한 정보가 없음.

$\Rightarrow$  길이 위주로 접근

$\triangle ADC$ 의 외접원 R  $\Rightarrow$  사인 법칙 써야 함

$\Rightarrow$  각과 마주보는 변의 길이를 모두 알아야 함.

어디로 계산하는 게 쉬울지 고민해 볼 것.

$\overline{AH} = 3$  라 하면, 삼각형의 넓이를 이용해  $a$ 를 구할 수 있다.

$$3 : 4 = a : a + 3 \quad \Rightarrow \boxed{a = 9}$$

이제  $\triangle ABD$  는 "확정된 삼각형"

$\Rightarrow \angle CAD, \angle ADC, \overline{AD}$  등을 구할 수 있음.

$\downarrow \quad \downarrow \quad \downarrow$

$\overline{DC}$ ,  $\overline{AC}$ ,  $\angle ACD$  를 구하면 사인법칙 적용 가능

내접원의 특성을 이용해  $\hookrightarrow$  미지량 과정의 배각 공식을 알면 계산 가능  
길이를 얻어내야 함.

$$\overline{HC} = b \text{ 라 하면 } \overline{BC} = 3 + b, \overline{AC} = 9 + b$$

$$2(\text{삼각형 } ABC \text{ 넓이}) = 12(3+b) = 3(12 + 3b + 9+b)$$

$$12 + 4b = 2b + 24 \quad \Rightarrow \boxed{b = 6}$$

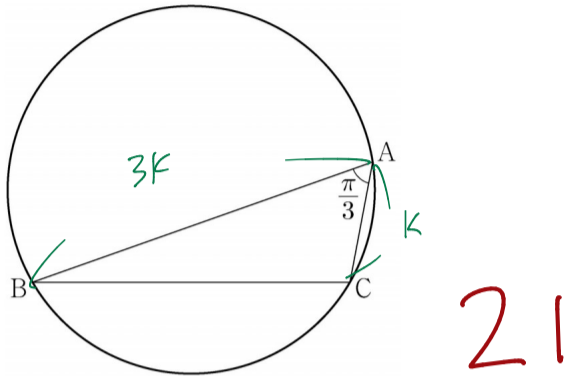
$$\frac{\overline{CD}}{\sin(\angle CAD)} = \frac{b-1}{\sin(\angle DAB)} = \frac{5}{\frac{1}{10}} \quad \boxed{5\sqrt{10} = 2R}$$

$$\therefore R^2 \pi = \frac{125}{2}\pi$$

이 문제지에 관한 저작권은 MENTOR에 있습니다.



5.  $\angle A = \frac{\pi}{3}$  이고  $\overline{AB} : \overline{AC} = 3 : 1$  인 삼각형 ABC가 있다. 삼각형 ABC의 외접원의 반지름의 길이가 7일 때, 선분 AC의 길이를  $k$ 라 하자.  $k^2$ 의 값을 구하시오. [4점]



[2021학년도 대학수학능력시험 가형 10번/나형 28번]

<idea>

외접원의 반지름  $\rightarrow$  사인 법칙 써야 함.  
 $\angle B$  나  $\angle C$  를 구하는 것 보단  $\overline{BC}$  를 구하는 것이  
 4(쉬움)  
 $\Rightarrow$  코사인 법칙으로  $\overline{BC}$  구한 후 사인 법칙으로  $R$  구하기

<코사인>

$$\overline{BC}^2 = 9k^2 + k^2 - 2 \cdot 3k \cdot k \cdot \cos \frac{\pi}{3}$$

$$= 7k^2 \Rightarrow \overline{BC} = \sqrt{7}k$$

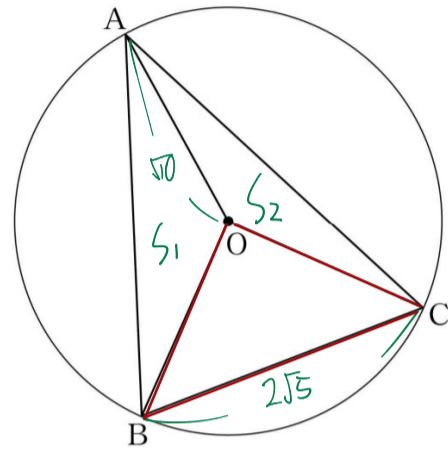
<사인>

$$\frac{\overline{BC}}{\sin(\angle BAC)} = \frac{\sqrt{7}k}{\frac{\sqrt{3}}{2}} = 2 \cdot 7$$

$$\therefore k = \frac{\sqrt{3}}{2\sqrt{7}} \cdot 2 \cdot 7 = \sqrt{21}$$

$$\therefore k^2 = 21$$

6. 그림과 같이 중심이 O이고 반지름의 길이가  $\sqrt{10}$  인 원에 내접하는 예각삼각형 ABC에 대하여 두 삼각형 OAB, OCA의 넓이를 각각  $S_1, S_2$ 라 하자.  $3S_1 = 4S_2$  이고  $\overline{BC} = 2\sqrt{5}$  일 때, 선분 AB의 값은? [4점]



- ①  $2\sqrt{7}$     ②  $\sqrt{30}$     ③  $4\sqrt{2}$     ④  $\sqrt{34}$     ⑤ 6

<idea>

[2021년도 3월 전국연합학력평가 가형 19번]

$\triangle OBC$  는 세 변의 길이를 알기 때문에 '확정된 삼각형'

$S_1, S_2$  조건  $\left[ \begin{array}{l} S = \frac{1}{2}(\text{밑변})(\text{높이}) \rightarrow \dots? \text{ 정도 안됨.} \\ S = \frac{1}{2}ab \sin \theta \rightarrow \text{이 식으로 접근} \end{array} \right.$

$S_1, S_2$  각각 두 변의 길이를 알고 있으므로 ( $\sqrt{10}$ )  
 $S_1, S_2$  조건을 사인각에 대한 정보로 해석 가능

$$3S_1 = 4S_2$$

$$3 \cdot \frac{1}{2} \cdot \sqrt{10}^2 \sin(\angle AOB) = 4 \cdot \frac{1}{2} \cdot \sqrt{10}^2 \sin(\angle AOC)$$

$$\therefore 3 \sin(\angle AOB) = 4 \sin(\angle AOC)$$

$\triangle OBC$ 에서 코사인법칙을 쓰면

$$\overline{BC}^2 = \overline{OB}^2 + \overline{OC}^2 - 2\overline{OB}\overline{OC} \cos(\angle BOC)$$

$$20 = 10 + 10 - 2 \cdot 10 \cos(\angle BOC) \Rightarrow \angle BOC = \frac{\pi}{2}$$

O를 기준으로 하는 각 정보를 모두 알고 있음.  
 $\angle AOB = \alpha$  라 하면,  $\angle AOC = \frac{3}{2}\pi - \alpha$  ( $\frac{\pi}{2} < \alpha < \pi$ )

$$3 \sin \alpha = 4 \sin(\frac{3}{2}\pi - \alpha) = -4 \cos \alpha$$

$$\therefore \frac{\sin \alpha}{\cos \alpha} = -\frac{4}{3} \Rightarrow \begin{array}{c} 5 \\ \nearrow \alpha \\ 3 \end{array} \quad \cos \alpha = -\frac{3}{5}, \sin \alpha = \frac{4}{5}$$

3/8

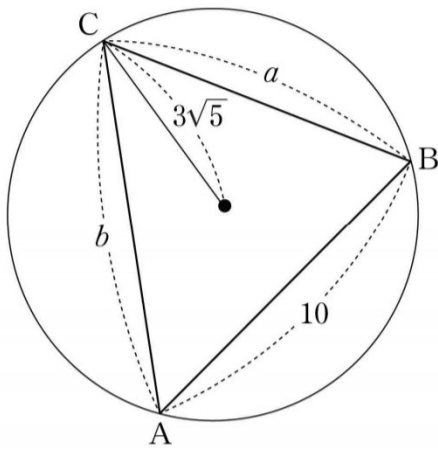
AB를 구하기 위해  $\triangle AOB$ 에서 코사인법칙을 쓰면,

$$\overline{AB}^2 = \overline{AO}^2 + \overline{BO}^2 - 2\overline{AO}\overline{BO} \cos \alpha$$

$$= 10 + 10 + 2 \cdot 10 \cdot \frac{3}{5} = 32 \Rightarrow \overline{AB} = 4\sqrt{2}$$

7. 길이가 각각 10,  $a$ ,  $b$ 인 세 선분 AB, BC, CA를 각 변으로 하는 예각삼각형 ABC가 있다. 삼각형 ABC의 세 꼭짓점을 지나는 원의 반지름의 길이가  $3\sqrt{5}$ 이고

$$\frac{a^2 + b^2 - ab \cos C}{ab} = \frac{4}{3} \text{ 일 때, } ab \text{의 값은? [4점]}$$



- ① 140    ② 150    ③ 160    ④ 170    ⑤ 180

[2021년도 3월 전국연합학력평가 나형 19번]

<idea>

$$R = 3\sqrt{5} \Rightarrow \text{사인법칙}$$

$$\frac{a^2 + b^2 - ab \cos C}{ab} = \frac{4}{3} \Rightarrow \text{코사인법칙}$$

$\overline{AB}$ 를 알기 때문에 사인법칙으로  $\angle C$ 를 구할 수 있다.

$$\frac{10}{\sin C} = 6\sqrt{5} \quad \therefore \sin C = \frac{\sqrt{5}}{3}, \cos C = \frac{2}{3}$$

코사인법칙으로  $a^2 + b^2 \sim$  식을 표현할 수 있다.

$$10^2 = a^2 + b^2 - 2ab \cos C$$

$$\therefore a^2 + b^2 - ab \cos C = 100 + ab \cos C \\ = 100 + \frac{2}{3}ab$$

$$\frac{100 + \frac{2}{3}ab}{ab} = \frac{4}{3}$$

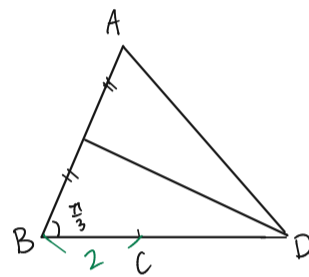
$$\frac{100}{ab} = \frac{2}{3} \quad \therefore ab = 150$$

8.  $\angle ABC = \frac{\pi}{3}$ ,  $\overline{BC} = 2$ 인 삼각형 ABC에서 선분 AB의 수직이등분선과 선분 BC의 연장선이 만나는 점을 D라 하면, 세 점 A, B, D를 지나는 원의 반지름의 길이는  $\frac{5\sqrt{3}}{3}$ 이다.  $\cos(\angle CAD)$ 의 값은? [4점]

- ①  $\frac{7\sqrt{19}}{38}$     ②  $\frac{5\sqrt{19}}{38}$     ③  $\frac{3\sqrt{19}}{38}$   
 ④  $\frac{7\sqrt{17}}{38}$     ⑤  $\frac{5\sqrt{17}}{38}$

<idea>

[2022학년도 주멘 모의고사 1회 15번]



$\triangle ABD$ 가 이등변삼각형

$$R = \frac{5\sqrt{3}}{3} \Rightarrow \text{사인법칙}$$

$$\frac{\overline{AD}}{\sin B} = 2 \cdot \frac{5\sqrt{3}}{3} \Rightarrow \overline{AD} = 5$$

$\triangle ABD$ 는 두 변의 길이와 각을 알기 때문에 "확정된 삼각형"

$\angle CAD$ 를 알기 위해서는  $\overline{AC}$ 를 알아야 함.

$\Rightarrow \overline{AC}$ 를 알기 위해선  $\overline{AB}$ 를 알아야 함

$\Rightarrow \overline{AB}$ 는 확정된 삼각형에서 코사인법칙으로 구할 수 있음.

$$\overline{AD}^2 = \overline{AB}^2 + \overline{BD}^2 - 2\overline{AB}\overline{BD} \cos \frac{\pi}{3}$$

$$25 = \overline{AB}^2 + 25 - 2 \cdot 5 \cdot \overline{AB} \cdot \frac{1}{2}$$

$$\overline{AB}^2 - 5\overline{AB} = 0 \Rightarrow \overline{AB} = 5$$

$\triangle ABC$ 에서 코사인법칙을 쓰면

$$\overline{AC}^2 = \overline{AB}^2 + \overline{BC}^2 - 2\overline{AB}\overline{BC} \cos \frac{\pi}{3}$$

$$\overline{AC}^2 = 25 + 4 - 2 \cdot 5 \cdot 2 \cdot \frac{1}{2} = 19 \Rightarrow \overline{AC} = \sqrt{19}$$

$\triangle ACD$ 에서 코사인법칙을 쓰면

$$\overline{CD}^2 = \overline{AC}^2 + \overline{AD}^2 - 2\overline{AC}\overline{AD} \cos(\angle CAD)$$

$$9 = 19 + 25 - 2 \cdot 5 \cdot \sqrt{19} \cos(\angle CAD)$$

$$\therefore \cos(\angle CAD) = \frac{35}{10\sqrt{19}} = \frac{7\sqrt{19}}{38}$$

이등변삼각형에서  $\angle B =$  풀라서 정삼각형! 으쿠 판단할 수 있다.

9. 그림과 같이 예각삼각형 ABC가 한 원에 내접하고 있다.

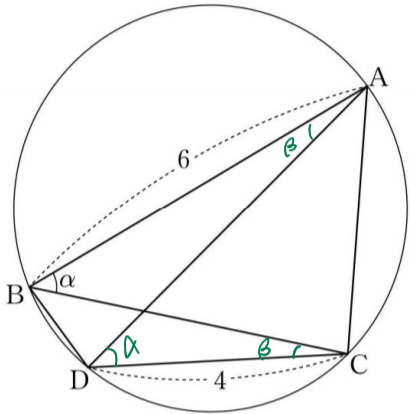
$\overline{AB}=6$ 이고,  $\angle ABC=\alpha$ 라 할 때  $\cos\alpha=\frac{3}{4}$ 이다. 점 A를

지나지 않는 호 BC 위의 점 D에 대하여  $\overline{CD}=4$ 이다.

두 삼각형 ABD, CBD의 넓이를 각각  $S_1, S_2$ 라 할 때,

$S_1:S_2=9:5$ 이다. 삼각형 ADC의 넓이를  $S$ 라 할 때,  $S^2$ 의 값을 구하시오. [4점]

63



<idea>

[2021년도 3월 전국연합학력평가 나형 29번]

원주각으로  $\angle ADC=\alpha$  알 수 있고,

$S_1, S_2$  조건에서는  $\alpha$ 가 아니라  $\beta$ 가 공통각이다.

$S_1, S_2$  조건으로  $\overline{AD}:\overline{BC}$  구하고

$\cos\alpha$  이용해서 길이 확정

$$S_1:S_2 = \frac{1}{2} \cdot 6 \cdot \overline{AD} \sin\beta : \frac{1}{2} \cdot 4 \cdot \overline{BC} \sin\beta$$

$$= 3 \overline{AD} : 2 \overline{BC} = 9:5$$

$$\boxed{6 \overline{BC} = 5 \overline{AD}} \Rightarrow \overline{BC} = 5k, \overline{AD} = 6k$$

변 길이 비율로 알고,  $\alpha$  조건 사용해야 함

$\Rightarrow \overline{AC}$ 가 공통인  $\triangle ABC, \triangle ADC$  분석

코사인 법칙을 쓰면

$$\overline{AC}^2 = 6^2 + (5k)^2 - 2 \cdot 6 \cdot 5k \cos\alpha$$

$$= 4^2 + (6k)^2 - 2 \cdot 4 \cdot 6k \cos\alpha$$

$$36 + 25k^2 - 45k = 16 + 36k^2 - 36k$$

$$11k^2 + 9k - 20 = 0$$

$$(11k+20)(k-1) = 0$$

$$\boxed{k=1}$$

$$S = \frac{1}{2} \cdot \overline{AD} \cdot \overline{DC} \cdot \sin\alpha = \frac{1}{2} \cdot 6 \cdot 4 \cdot \frac{\sqrt{7}}{4} = 3\sqrt{7}$$

$$\therefore \boxed{S^2 = 63}$$

10. 그림과 같이 한 평면 위에 있는 두 삼각형 ABC, ACD의

외심을 각각 O, O'이라 하고  $\angle ABC=\alpha, \angle ADC=\beta$ 라 할 때,

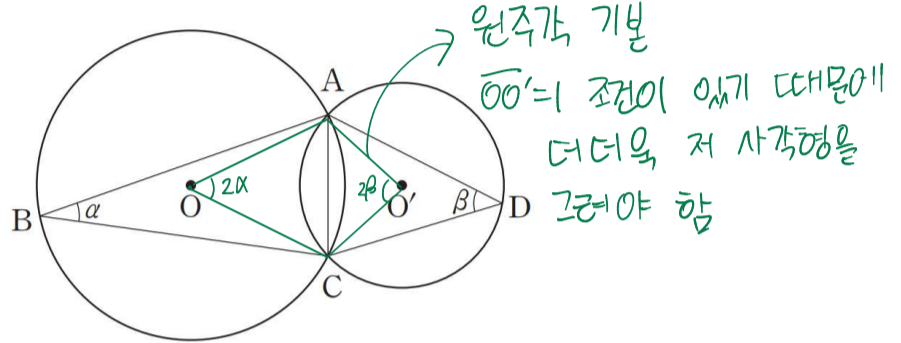
$$\frac{\sin\beta}{\sin\alpha} = \frac{3}{2}, \cos(\alpha+\beta) = \frac{1}{3}, \overline{OO'} = 1$$

①                      ②                      ③

이 성립한다. 삼각형 ABC의 외접원의 넓이가  $\frac{q}{p}\pi$ 일 때,

$p+q$ 의 값을 구하시오. (단,  $p$ 와  $q$ 는 서로소인 자연수이다.)

26



<idea>

[2022학년도 예비시험 21번]

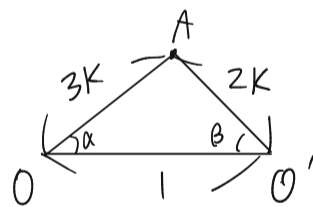
① 조건  $\Rightarrow \overline{AC}$ 가 공통이므로 사인법칙 써서 반지름 비율 알 수 있음

②, ③ 조건  $\Rightarrow$  처음에 어떻게 환원할 지 감이 잘 안오지만,

$\triangle AOO'$ 을 그려보면 활용 가능.

$$\frac{\overline{AC}}{\sin\alpha} = 2R, \quad \frac{\overline{AC}}{\sin\beta} = 2r$$

$$\frac{\sin\beta}{\sin\alpha} = \frac{R}{r} = \frac{3}{2} \quad \therefore \boxed{2R=3r} \Rightarrow R=3k, r=2k$$



$$\angle OAO' = \pi - (\alpha + \beta)$$

② 조건 사용 가능

$$\overline{OO'}^2 = \overline{AO}^2 + \overline{AO'}^2 - 2 \overline{AO} \overline{AO'} \cos(\angle OAO')$$

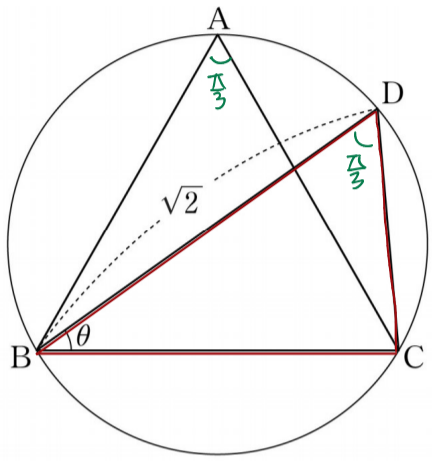
$$1 = 9k^2 + 4k^2 - 2k^2 \cos(\alpha + \beta) = 17k^2$$

$$\therefore \boxed{k = \frac{1}{\sqrt{17}}}$$

$$S = \pi R^2 = 9\pi k^2 = \boxed{\frac{9}{17}\pi}$$

$$\therefore p+q = \boxed{26}$$

11. 정삼각형 ABC가 반지름의 길이가 r인 원에 내접하고 있다. 선분 AC와 선분 BD가 만나고  $\overline{BD} = \sqrt{2}$ 가 되도록 원 위에서 점 D를 잡는다.  $\angle DBC = \theta$ 라 할 때,  $\sin \theta = \frac{\sqrt{3}}{3}$ 이다. 반지름의 길이 r의 값은? [4점]



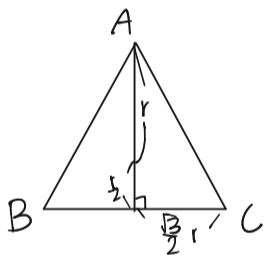
- ①  $\frac{6-\sqrt{6}}{5}$
- ②  $\frac{6-\sqrt{5}}{5}$
- ③  $\frac{4}{5}$
- ④  $\frac{6-\sqrt{3}}{5}$
- ⑤  $\frac{6-\sqrt{2}}{5}$

[2021년도 10월 전국연합학력평가 나형 19번]

<idea>

반지름의 길이 r  $\Rightarrow$  사인법칙

정삼각형 ABC  $\Rightarrow$  모든 각 60°, 변의 길이 r로 표현 가능  
 $\Delta BCD$ 에서 계산할 수 있는 특이 많다.



$\Rightarrow$  정삼각형 한 변의 길이

$\sqrt{3}r$

$\Delta BCD$ 에서 사인법칙을 쓰면

$\frac{\overline{CD}}{\sin \theta} = \sqrt{3} \overline{CD} = 2r \quad \therefore \overline{CD} = \frac{2}{3}\sqrt{3}r$

$\Delta BCD$ 는 변 1개와 각 2개를 알아 "확정된 삼각형" 이므로 계산을 통해 r 값을 구할 수 있다.

$\overline{BC}^2 = \overline{BD}^2 + \overline{CD}^2 - 2\overline{BD}\overline{CD} \cos \frac{\pi}{3}$

$3r^2 = 2 + \frac{4}{3}r^2 - 2\sqrt{2} \cdot \frac{2}{3}\sqrt{3}r \cdot \frac{1}{2}$

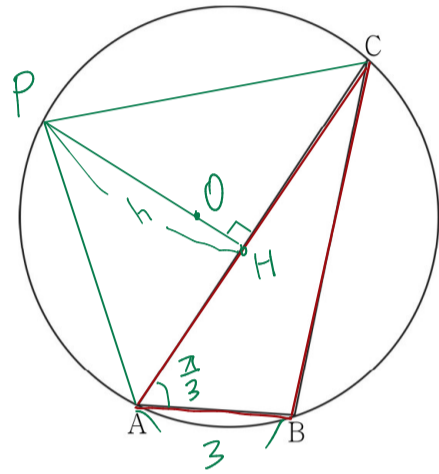
$\frac{5}{3}r^2 + \frac{2}{3}\sqrt{6}r - 2 = 0$

$5r^2 + 2\sqrt{6}r - 6 = 0 \quad \therefore r = \frac{-\sqrt{6} \pm \sqrt{6+30}}{5}$

$\therefore r = \frac{6-\sqrt{6}}{5}$

12. 그림과 같이 원 C에 내접하고  $\overline{AB} = 3$ ,  $\angle BAC = \frac{\pi}{3}$ 인

삼각형 ABC가 있다. 원 C의 넓이가  $\frac{49}{3}\pi$ 일 때, 원 C 위의 점 P에 대하여 삼각형 PAC의 넓이의 최댓값은? (단, 점 P는 점 A도 아니고 점 C도 아니다.) [4점]



엄밀히 설정하려면 P가 AC 기준 원 쪽인지 오른쪽 쪽인지 판별해야 하는데, 그냥 한 쪽으로 가정하고 계산해도 많이 나오고,  $\Delta ABC$  길이를 모두 구한 후  $\angle B$ 가 둔각임을 판별해 P의 위치를 정할 수 있다.

- ①  $\frac{32}{3}\sqrt{3}$
- ②  $\frac{34}{3}\sqrt{3}$
- ③  $12\sqrt{3}$
- ④  $\frac{38}{3}\sqrt{3}$
- ⑤  $\frac{40}{3}\sqrt{3}$

[2021년도 4월 전국연합학력평가 가형 19번]

<idea>

원의 넓이  $\Rightarrow R \Rightarrow$  사인법칙

정보를 하나 더 얻으면  $\Delta ABC$ 를 "확정된 삼각형"으로 만들 수 있다.

$\Delta PAC$  넓이의 최댓값은  $\overline{AC}$ 가 고정이라면 높이가 최대일 때 최대일 것.

넓이  $\frac{49}{3}\pi \Rightarrow R = \frac{7}{\sqrt{3}}$

사인 법칙을 쓰면

$\frac{\overline{BC}}{\sin A} = \frac{\overline{BC}}{\frac{\pi}{2}} = \frac{14}{\sqrt{3}} \quad \therefore \overline{BC} = 7 \Rightarrow$  "확정된 삼각형"

$\overline{AC}$ 의 길이는 정해진 것이고, 이 때 넓이는 h가 최대일 때, 즉 PH가  $\overline{AC}$ 의 수직이등분선일 때 최대이다.

코사인법칙을 쓰면,

$\overline{BC}^2 = \overline{AC}^2 + \overline{AB}^2 - 2\overline{AC}\overline{AB} \cos \frac{\pi}{3}$

$49 = \overline{AC}^2 + 9 - 3\overline{AC} \Rightarrow \therefore \overline{AC} = 8$

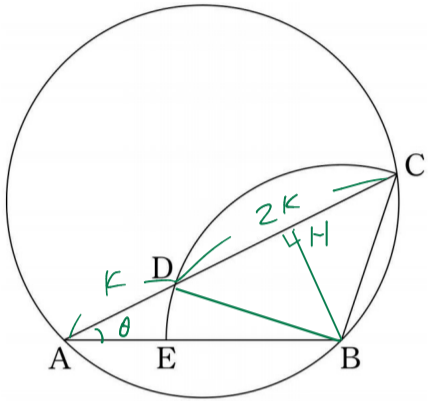
$\overline{PO} = R = \frac{7}{\sqrt{3}}, \overline{OH} = \sqrt{OA^2 - AH^2} = \frac{1}{\sqrt{3}} \Rightarrow h = \frac{8}{\sqrt{3}}$

$\therefore S = \frac{1}{2} \cdot 8 \cdot \frac{8}{\sqrt{3}} = \frac{32}{3}\sqrt{3}$

13. 그림과 같이 넓이가  $5\pi$ 인 원에 내접하는 삼각형 ABC가 있다. 선분 BC를 반지름으로 하는 부채꼴이 선분 AC를 1:2로 내분하는 점 D를 지날 때,  $\tan(\angle CAB) = \frac{1}{2}$ 이다.

$\overline{DE}^2 = p + q\sqrt{10}$  일 때,  $5(p+q)$ 의 값을 구하시오. (단,  $p, q$ 는 유리수이다.) [4점]

28



<idea>

[2022학년도 주멘 모의고사 2회 21번]

넓이가  $5\pi \Rightarrow$  사인법칙

$\theta$  각 조건을 유효해야 한다? 문제 내에서 어떻게 쓰일지 잘 모르기 때문에 유효하고 있다고 적당히 사용하겠.

$\triangle ABC$ 에서 사인법칙을 쓰면

$$\frac{\overline{BC}}{\sin \theta} = \frac{\overline{BC}}{\frac{1}{\sqrt{5}}} = 2R = 2\sqrt{5}$$

$$\therefore \overline{BC} = 2$$

부채꼴 BCD를 활용하기 위해 그림과 같이

선분을 이으면,  $\theta$ 를 포함하는 직각  $\triangle AHB$ 가

생긴다.

$$\tan \theta = \frac{\overline{HB}}{\overline{AH}} = \frac{\overline{HB}}{2\overline{HB}} = \frac{1}{2} \quad \therefore \overline{HB} = K$$

$$\overline{DH} = \overline{HB} = K \text{ 이므로 } \angle BDH = \angle BCH = \frac{\pi}{4}$$

$$\overline{BC} = \overline{BD} = 2 \text{ 이므로 } K = \sqrt{2}$$

$\Rightarrow$  이제 위 그림에 있는 모든 삼각형은

"확정된 삼각형"

$\overline{DE}$ 를 구하기 위해

$\overline{AB}$ 를 구함  $\Rightarrow \overline{AE}$ 를 구함

$\Rightarrow \triangle ADE$ 에서 코사인 법칙

공식을 계산하자.

$$\begin{aligned} \overline{AB}^2 &= \overline{AC}^2 + \overline{BC}^2 - 2\overline{AC}\overline{BC}\cos \frac{\pi}{4} \\ &= 18 + 4 - 12 = 10 \end{aligned}$$

$$\therefore \overline{AB} = \sqrt{10}$$

$$\overline{AE} = \sqrt{10} - 2 \text{ 이므로}$$

$$\begin{aligned} \overline{DE}^2 &= \overline{AD}^2 + \overline{AE}^2 - 2\overline{AD}\overline{AE}\cos \theta \\ &= 2 + 14 - 4\sqrt{10} - 2\sqrt{2}(\sqrt{10} - 2)\frac{2}{\sqrt{5}} \end{aligned}$$

$$= 8 - \frac{12}{5}\sqrt{10}$$

$$\therefore 5(p+q) = 28$$