



지금부터 보실 행동강령과 해설은 아드레날린을 통해 다른 기출 문제에서도 보실 수 있습니다!

자세한 내용은

<https://orbi.kr/00043463424>

에서 확인해주세요! 판매 페이지 링크는

<https://atom.ac/books/9395>

입니다. 감사합니다!

아드레날린 ex
공통

1. 사차함수 $f(x)$ 가 다음 조건을 만족시킬 때, $f(2)$ 의 값은?

[2023학년도 사관학교 10]

(가) $f(0)=2$ 이고 $f'(4)=-24$ 이다.

(나) 부등식 $xf'(x)>0$ 을 만족시키는 모든 실수 x 의 값의 범위는 $1 < x < 3$ 이다.

- ① 3 ② $\frac{10}{3}$ ③ $\frac{11}{3}$ ④ 4 ⑤ $\frac{13}{3}$

1. 정답 ② [2023학년도 사관학교 10]

1) 조건해석

사차함수 $f(x)$ 가 있는데 (가)조건에서 $f(0)=2$ 이고 $f'(4)=-24$ 라고 합니다. 뭐 그렇다네요.

(나)조건에서 $xf'(x)>0$ 을 만족시키는 x 의 범위가 $1 < x < 3$ 이라고 합니다. 일단 함수가 곱해져 있어요. x 를 기준으로 양수냐 음수냐가 나뉘니까 이걸 기준으로 생각해보면 $f'(x)>0$ 가 되겠죠. $x < 0$ 이라면? $f'(x)<0$ 가 될 거예요. 이걸 만족시키는 범위가 $1 < x < 3$ 이라는 거예요.

다시 말하면 $x < 0$ 일 때는 항상 $f'(x) \geq 0$ 이고 $x > 0$ 일 때는 $1 < x < 3$ 에서만 $f'(x) > 0$ 이 된다는 거겠네요.

정리하면 $x < 0$ 일 때는 $f'(x) \geq 0$ 이고 $0 < x \leq 1$ 일 때는 $f'(x) \leq 0$,

$1 < x < 3$ 일 때 $f'(x) > 0$ 이고 $x \geq 3$ 일 때는 $f'(x) \leq 0$ 이어야 합니다.

생각해보세요. $f'(x)$ 의 값이 양수이다가 갑자기 음수가 될 수 있나요? $f(x)$ 는 사차함수라 연속이라서 그럴 수 없어요. 다시 말하면 0을 지나는 점이 있다는 말이죠. 그게 각 부분의 경계겠네요. $x=0$, $x=1$, $x=3$ 에서 $f'(x)=0$ 이어야 합니다. 따라서 $f'(0)=f'(1)=f'(3)=0$ 입니다.

2) 함수 구하기 - 인수정리

$f'(0)=f'(1)=f'(3)=0$ 로 $f'(x)$ 를 구한 후 부정적분해서 $f(x)$ 로 올라오도록 할게요. $f'(x)$ 의 최고차항의 계수를 a 라 하면 $f'(x)$ 는 x , $(x-1)$, $(x-3)$ 의 인수를 각각 적어도 하나씩 가지니까

$f'(x)=ax(x-1)(x-3)$ 입니다. $f'(4)=-24$ 이니까 넣어보면 $12a=-24$ 이고 $a=-2$ 입니다.

$f'(x)=-2x^3+8x^2-6x$ 이네요. 부정적분하면 $f(x)=-\frac{1}{2}x^4+\frac{8}{3}x^3-3x^2+b$ 인데 $f(0)=2$ 이니까

$f(x)=-\frac{1}{2}x^4+\frac{8}{3}x^3-3x^2+2$ 입니다. $f(2)=-8+\frac{64}{3}-12+2=\frac{10}{3}$ 이네요. 답은 ②번입니다.

2. 함수

$$f(x) = \begin{cases} x^2 + 1 & (x \leq 2) \\ ax + b & (x > 2) \end{cases}$$

에 대하여 $f(\alpha) + \lim_{x \rightarrow \alpha^+} f(x) = 4$ 를 만족시키는 실수 α 의 개수가 4이고, 이 네 수의 합이 8이다. $a+b$ 의 값은? (단, a, b 는 상수이다.) [2023학년도 사관학교 12]

- ① $-\frac{7}{4}$ ② $-\frac{5}{4}$ ③ $-\frac{3}{4}$ ④ $-\frac{1}{4}$ ⑤ $\frac{1}{4}$

2. 정답 ① [2023학년도 사관학교 12]

1) 좌극한 우극한, 연속은 좌극한 우극한 함숫값 확인

$$f(x) = \begin{cases} x^2 + 1 & (x \leq 2) \\ ax + b & (x > 2) \end{cases} \text{인데 } f(\alpha) + \lim_{x \rightarrow \alpha^+} f(x) = 4 \text{를 만족시키는 } \alpha \text{의 개수가 4이고 합이 8입니다.}$$

일단 좀 볼까요? 만약 $x = 2$ 를 제외한 나머지 부분이라면? 다항함수니까 연속이므로 $f(\alpha)$ 와 $\lim_{x \rightarrow \alpha^+} f(x)$ 가 같겠죠? 따라서 $f(\alpha) = 2$ 를 만족시키는 α 를 찾으면 됩니다.

일단 $f(x) = x^2 + 1$ 에서는 만족시키는 α 가 두 개가 있죠? $x^2 + 1 = 2$ 하면 $x = -1, 1$ 이 가능합니다.

$f(x) = ax + b$ 에서는.... 만약 여기서 없다고 가정하면 아예 개수가 4개가 나올 수가 없어요. 우리가 마지막으로 확인해야 할 부분은 $x = 2$ 인데 여기서 나온다고 해도 3개잖아요. 따라서 $ax + b = 2$ 해서 $x = \frac{2-b}{a}$ 에서 하나가 있습니다.

그러면 마지막 하나는 $x = 2$ 여야겠네요. 먼저 $f(2) = 5$ 이니까 $\lim_{x \rightarrow 2^+} f(x) = -1$ 입니다. 따라서 $2a + b = -1$ 이네요.

4개의 수의 합이 8이어야 하죠? 모두 더하면 $-1 + 1 + 2 + \frac{2-b}{a} = 8$ 이고 $\frac{2-b}{a} = 6$ 입니다. $2-b = 6a$ 이네요.

$2a + b = -1$ 랑 연립하면 $a = \frac{3}{4}$, $b = -\frac{5}{2}$ 입니다. $a + b = -\frac{7}{4}$ 이네요. 답은 ①번입니다.

3. 최고차항의 계수가 1인 이차함수 $f(x)$ 에 대하여 함수 $g(x)$ 를

$$g(x) = \begin{cases} f(x) & (x < 1) \\ 2f(1) - f(x) & (x \geq 1) \end{cases}$$

이라 하자. 함수 $g(x)$ 에 대하여 <보기>에서 옳은 것만을 있는 대로 고른 것은? [2023학년도 사관학교 14]

<보 기>

ㄱ. 함수 $g(x)$ 는 실수 전체의 집합에서 연속이다.

ㄴ. $\lim_{h \rightarrow 0^+} \frac{g(-1+h) + g(-1-h) - 6}{h} = a$ (a 는 상수)이고

$g(1) = 1$ 이면 $g(a) = 1$ 이다.

ㄷ. $\lim_{h \rightarrow 0^+} \frac{g(b+h) + g(b-h) - 6}{h} = 4$ (b 는 상수)이면

$g(4) = 1$ 이다.

① ㄱ

② ㄱ, ㄴ

③ ㄱ, ㄷ

④ ㄴ, ㄷ

⑤ ㄱ, ㄴ, ㄷ

3. 정답 ② [2023학년도 사관학교 14]

1) 연속은 좌극한 우극한 함숫값 확인, 함수 극한은 논리다

$$f(x) \text{가 최고차항의 계수가 1인 이차함수인데 } g(x) = \begin{cases} f(x) & (x < 1) \\ 2f(1) - f(x) & (x \geq 1) \end{cases} \text{입니다.}$$

ㄱ에서 $g(x)$ 가 연속이냐고 물어보네요. 일단 $x = 1$ 을 제외하고는 다항함수니까 연속이죠? $x = 1$ 에서 좌극한 값과 우극한 값, 함숫값은 모두 $f(1)$ 으로 동일하니까 연속 맞습니다.

2) 함수 구하기 - 차함수

$$\text{ㄴ에서 } \lim_{h \rightarrow 0^+} \frac{g(-1+h) + g(-1-h) - 6}{h} = a \text{이고 } g(1) = 1 \text{이면 } g(a) = 1 \text{ 이냐고 물어봅니다. 분모가 0으로}$$

가는데 극한값이 존재하니까 분자도 0으로 가야겠죠? 따라서 $\lim_{h \rightarrow 0^+} g(-1+h) + g(-1-h) - 6 = 0$ 이고

$2g(-1) = 6$ 입니다. $g(-1) = f(-1) = 3$ 이네요. 그리고 $g(1) = f(1) = 1$ 이구요.

지금 $f(-1) = 3$ 이고 $f(1) = 1$ 이죠? 이 두 점을 지나는 직선은 $-x + 2$ 입니다. 그러면 $f(x)$ 와 $-x + 2$ 는 $x = -1$, $x = 1$ 에서 만나는 거네요? 따라서 차함수에 의하여 $f(x) - (-x + 2)$ 는 $(x + 1)$, $(x - 1)$ 인수를 각각 적어도 하나 가져야 합니다. $f(x)$ 의 최고차항의 계수가 1이므로 $f(x) + x - 2 = (x + 1)(x - 1)$ 이고

$f(x) = x^2 - x + 1$ 이네요.

한편, $\lim_{h \rightarrow 0^+} \frac{g(-1+h) + g(-1-h) - 6}{h} = a$ 에서 6 대신에 $g(-1) + g(-1)$ 을 넣으면

$\lim_{h \rightarrow 0^+} \frac{g(-1+h) - g(-1) + g(-1-h) - g(-1)}{h} = a$ 으로 고칠 수 있죠? 이때 각각 극한값이 존재하니까

$\lim_{h \rightarrow 0^+} \frac{g(-1+h) - g(-1)}{h} + \lim_{h \rightarrow 0^+} \frac{g(-1-h) - g(-1)}{h} = a$ 입니다. 오른쪽은 $-h = k$ 로 바꿔버리면

$\lim_{h \rightarrow 0^+} \frac{g(-1+h) - g(-1)}{h} - \lim_{k \rightarrow 0^-} \frac{g(-1+k) - g(-1)}{k}$ 인데 이걸 $g'(-1) - g'(-1) = a = 0$ 이죠? $a = 0$ 입니다.

그럼 이제 $g(a) = g(0) = f(0) = 1$ 이지만 확인하면 되겠네요. 방금 $f(x) = x^2 - x + 1$ 을 구해왔으니까 넣어보면 $f(0) = 1$ 맞습니다. ㄴ도 맞네요.

ㄷ에서 $\lim_{h \rightarrow 0^+} \frac{g(b+h) + g(b-h) - 6}{h} = 4$ 이면 $g(4) = 1$ 이냐고 물어보네요. 먼저 분모가 0으로 가는데 극한값이

존재하니까 분자도 0으로 가야 합니다. $\lim_{h \rightarrow 0^+} g(b+h) + g(b-h) - 6 = 0$ 이고 $2g(b) = 6$ 이고 $g(b) = 3$ 입니다.

ㄴ과 마찬가지로의 방식으로 해보면 $\lim_{h \rightarrow 0^+} \frac{g(b+h) - g(b) + g(b-h) - g(b)}{h} = 4$ 이고

$\lim_{h \rightarrow 0^+} \frac{g(b+h) - g(b)}{h} - \lim_{k \rightarrow 0^-} \frac{g(b+k) - g(b)}{k}$ 이 됩니다. $g'(b+) - g'(b-) = 4$ 이네요.

$g'(b+) - g'(b-) = 4$ 를 한 번 생각해 보세요. 일반적으로 다항함수는 미분가능이라 좌미분계수와 우미분계수가 다를 수가 없어요. 함수가 끊기지 않는다면요. 그런데 지금은 끊긴 부분이 있죠? $x = 1$ 말이에요. 따라서 $b = 1$ 입니다.

$g(1) = f(1) = 3$ 이구요. $g'(1+) - g'(1-) = 4$ 를 활용해봅시다. 먼저 $g'(1+)$ 의 경우 우미분계수니까 $g(x) = 2f(1) - f(x)$ 에서 $-f'(1)$ 입니다. $g'(1-)$ 의 경우는 $g(x) = f(x)$ 에서 $f'(1)$ 입니다. 따라서 $-2f'(1) = 4$ 이고 $f'(1) = -2$ 이네요.

$f(1) = 3$, $f'(1) = -2$ 를 사용해서 $f(x)$ 를 구해봅시다. 이걸 사실상 기울기가 -2 인 일차함수가 $(1, 3)$ 에서 $f(x)$ 와 접한 것과 같죠? 일차함수는 $-2x + 5$ 이니까 차함수에 의하여 $f(x) - (-2x + 5) = (x - 1)^2$ 이고 $f(x) = (x - 1)^2 - 2x + 5$ 입니다.

그러면 $g(4) = 2f(1) - f(4) = 6 - 9 + 3 = 0$ 입니다. $g(4) = 1$ 이 아니죠? ㄷ은 맞지 않습니다. 따라서 맞는 건 ㄱ, ㄴ이고 답은 ②번이네요.

4. 함수

$$f(x) = \left| 2a \cos \frac{b}{2}x - (a-2)(b-2) \right|$$

가 다음 조건을 만족시키도록 하는 10 이하의 자연수 a, b 의 모든 순서쌍 (a, b) 의 개수는? [2023학년도 사관학교 15]

- (가) 함수 $f(x)$ 는 주기가 π 인 주기함수이다.
(나) $0 \leq x \leq 2\pi$ 에서 함수 $y = f(x)$ 의 그래프와 직선 $y = 2a - 1$ 의 교점의 개수는 4이다.

- ① 11 ② 13 ③ 15 ④ 17 ⑤ 19

4. 정답 ⑤ [2023학년도 사관학교 15]

1) 자연수 보이면 숫자 넣을 준비, 함수 보이면 관찰 → 그래프 그리기

$$f(x) = \left| 2a \cos \frac{b}{2}x - (a-2)(b-2) \right| \text{가 있습니다. 보기만 해도 무시무시하네요.}$$

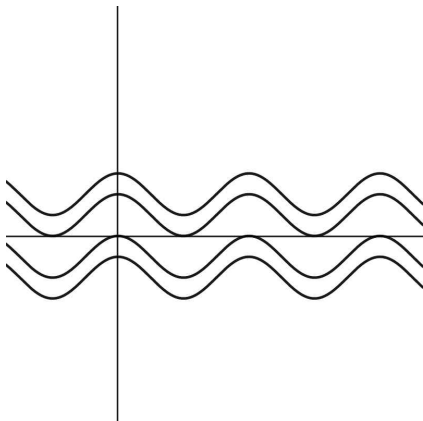
이때 (가)와 (나)조건을 만족시키는 10 이하의 자연수 a, b 의 순서쌍의 개수를 구하라네요. 한 번 봅시다.

(가)조건에서 $f(x)$ 는 주기가 π 인 주기함수입니다. 여기서 조심해야 할 건 바로 $b=4$ 라고 확정 지으면 안 된다는 거예요. 절댓값이 씌워져 있어서 어떻게 될지 모르거든요.

(나)조건에서 $0 \leq x \leq 2\pi$ 에서 $y=f(x)$ 와 $y=2a-1$ 이 4점에서 만난다고 합니다. (가)와 (나)조건 모두 실제로 그래프를 그려봐야 알겠네요.

일단 $2a \cos \frac{b}{2}x - (a-2)(b-2)$ 에 대하여 좀 알아봅시다. 주기는 $\frac{4}{b}\pi$ 이고, 최댓값은 $4a+2b-ab-4$, 최솟값은 $2b-ab-4$ 인 함수네요. 이 함수를 절댓값을 씌우면 $f(x)$ 가 될 거예요.

근데 여러분 생각해 보세요. 만약 $2a \cos \frac{b}{2}x - (a-2)(b-2)$ 가 x 축과 아예 안 만나거나 접한다면? 그러니까

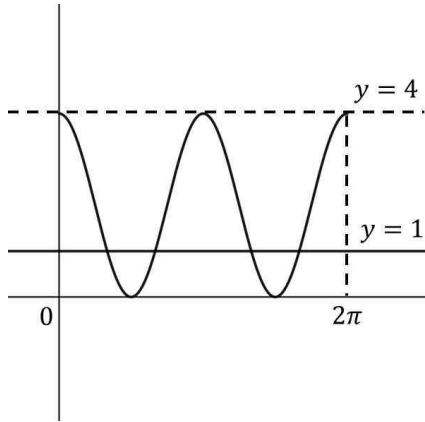


요런 모양이라면? 절댓값을 씌워도 주기는 변하지 않죠? 이러면 주기는

$\frac{4}{b}\pi$ 인데 이게 π 이니까 $b=4$ 입니다.

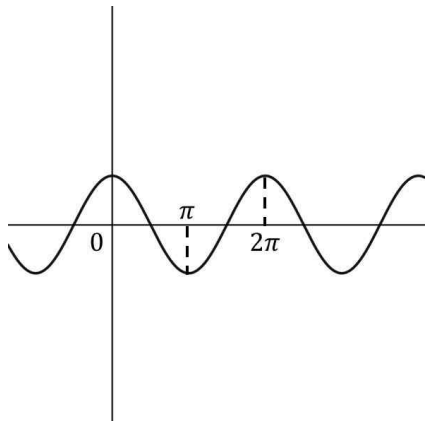
그리고 또한 최솟값이 0보다 크거나 같거나 최댓값이 0보다 작거나 같아야죠? 따라서 $2b-ab-4 \geq 0$ 이거나 $4a+2b-ab-4 \leq 0$ 입니다. $b=4$ 니까 넣어서 정리하면 $1 \geq a$ 혹은 $4 \leq 0$ 입니다. $4 \leq 0$ 는 말이 안 되니까 무조건 $a=1$ 일 때만 가능하네요. 결국 $2+2\cos 2x$ 입니다.

그럼 이제 $0 \leq x \leq 2\pi$ 에서 $y = 1$ 과 4개의 점에서 만나는지 확인해볼까요?

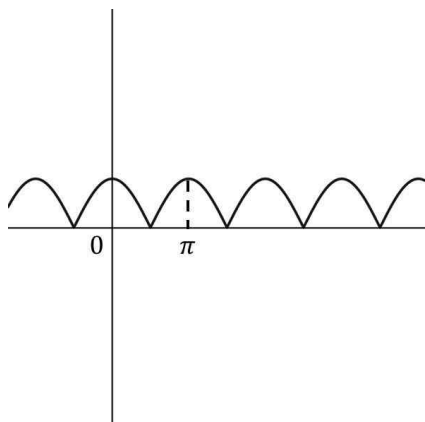


만나네요! (4, 1) 하나 찾았어요.

그러면 이제 $f(x)$ 가 x 축과 만나는 경우를 생각해볼게요. 먼저 함수가 최댓값과 최솟값의 절댓값이 같아서



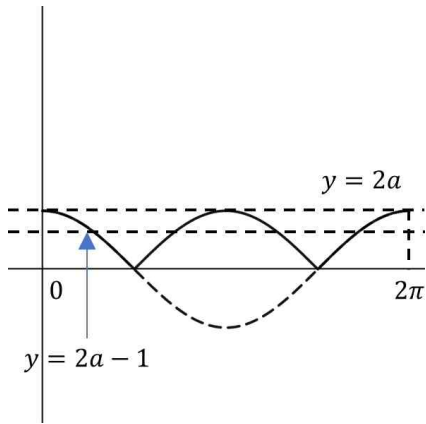
이렇게 되는 모양을 생각해봅시다. 이 경우 절댓값을 씌우면



이렇게 최솟값의 절댓값과 최댓값이 같아지면서 주기가 절반으로 줄어들 수

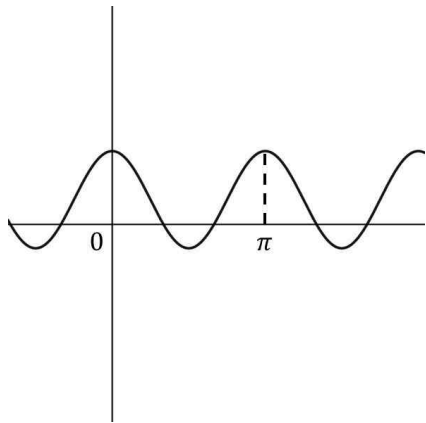
있죠. 결국 주기인 $\frac{4}{b}\pi$ 의 절반이 π 이 되도록 해야 하니까 $b = 2$ 입니다. $b = 2$ 이니까 $2a\cos x$ 이죠? 이 경우 a 가 자연수이기만 하면 다 됩니다. 1부터 10까지죠.

그럼 이제 $0 \leq x \leq 2\pi$ 에서 $y = 2a - 1$ 과 4개의 점에서 만나는지 확인해봅시다.

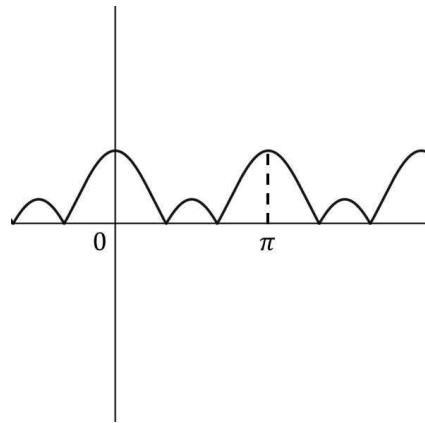


a 는 자연수니까 무조건 만나네요. $b = 4$ 일 때 $a = 1$ 부터 10까지 10개

찾았어요.



이런 모양은요?



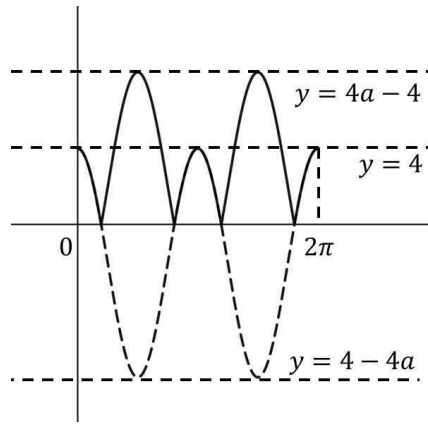
주기가 변하지 않게

되네요. 이러면 $b = 4$ 여야 합니다. 그리고 최댓값과 최솟값 사이에 $y = 0$ 이 있어야 하니까

$2b - ab - 4 < 0 < 4a + 2b - ab - 4$ 입니다. $b = 4$ 를 넣어 정리하면 $4 - 4a < 0 < 4$ 이고 $a > 1$ 이어야 합니다.

(가)조건은 $b = 4$ 일 때 $a = 2$ 부터 9까지 9개가 가능하네요.

이제 $0 \leq x \leq 2\pi$ 에서 $y = 2a - 1$ 과 4개의 점에서 만나는지 확인해봅시다. $2a \cos 2x - 2a + 4$ 이니까 최댓값은 4, 최솟값은 $4 - 4a$ 이고



요렇게 됩니다. $y = 2a - 1$ 이 4개의 점에서 만나려면

$4 < 2a - 1 < 4a - 4$ 여야 합니다. $a > \frac{5}{2}$ 이고 $a > \frac{3}{2}$ 이니까 $a > \frac{5}{2}$ 인 $a = 3$ 부터 $a = 10$ 까지 8개가 가능하겠네요.

그럼 총 $1 + 10 + 8 = 19$ 개입니다. 답은 ⑤번이네요.

5. 원점을 출발하여 수직선 위를 움직이는 점 P의 시각 t ($t \geq 0$)에서의 속도는

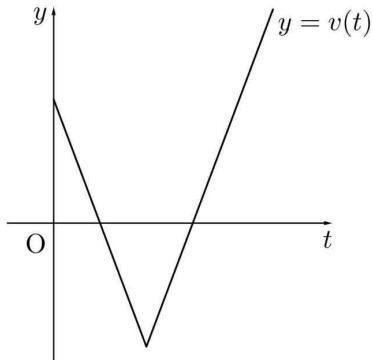
$$v(t) = |at - b| - 4 \quad (a > 0, b > 4)$$

이다. 시각 $t=0$ 에서 $t=k$ 까지 점 P가 움직인 거리를 $s(k)$, 시각 $t=0$ 에서 $t=k$ 까지 점 P의 위치의 변화량을 $x(k)$ 라 할 때, 두 함수 $s(k)$, $x(k)$ 가 다음 조건을 만족시킨다.

(가) $0 \leq k < 3$ 이면 $s(k) - x(k) < 8$ 이다.

(나) $k \geq 3$ 이면 $s(k) - x(k) = 8$ 이다.

시각 $t=1$ 에서 $t=6$ 까지 점 P의 위치의 변화량을 구하시오.
(단, a , b 는 상수이다.) [2023학년도 6월 20]



5. 정답 14 [2023학년도 사관학교 20]

1) 위치, 속도, 가속도는 수직선 위를 움직인다

원점을 출발하여 수직선 위를 움직이는 점 P의 시각 t ($t \geq 0$)에서의 속도가

$v(t) = |at - b| - 4$ ($a > 0, b > 4$)입니다. 그림도 친절하게 줬죠? $t = \frac{b}{a}$ 에서 방향이 반대가 되는 속도

함수입니다.

이때 시각 $t=0$ 에서 $t=k$ 까지 움직인 거리를 $s(k)$, 위치의 변화량을 $x(k)$ 라고 한다네요. 일단 위치의

변화량은 $x(k) = \int_0^k v(t)dt$ 이죠? 움직인 거리는 절댓값을 씌우고 정적분하면 되니까 $s(k) = \int_0^k |v(t)|dt$ 입니다.

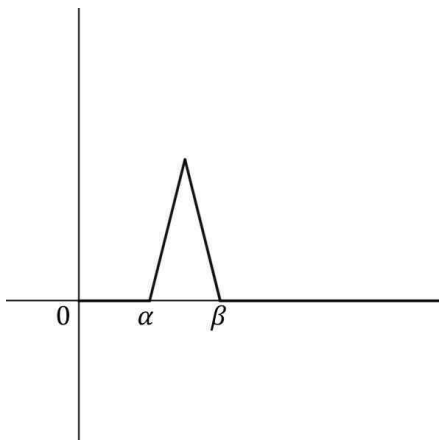
2) 조건해석

이때 (가)조건에서 $0 \leq k < 3$ 이면 $s(k) - x(k) < 8$ 이고, $k \geq 3$ 이면 $s(k) - x(k) = 8$ 이라고 합니다.

일단 $s(k) - x(k) = \int_0^k (|v(t)| - v(t))dt$ 입니다. $|v(t)| - v(t)$ 는 $v(t) \geq 0$ 일 땐 0이고, $v(t) < 0$ 일 땐 $-2v(t)$ 가

되는 함수죠? 그러니까 $|v(t)| - v(t) = \begin{cases} 0 & (v(t) \geq 0) \\ -2v(t) & (v(t) < 0) \end{cases}$ 이네요.

그림을 활용해서 이 함수를 그려봅시다. 0보다 큰 부분은 0으로, 0보다 작은 부분은 -2 를 곱해보세요.



이렇게 되겠네요. 이 함수를 0부터 k 까지 적분한 함수가

$s(k) - x(k)$ 입니다.

이제 k 를 0부터 천천히 늘려보세요. 0부터 α 까진 값이 0이다가 α 부터 β 까지는 값이 점점 커지겠죠? 그리고 그 후에는 그 값이 계속 유지가 됩니다. 추가로 정적분하는 값이 0이니깐요.

3) 정적분 관찰

아까 $0 \leq k < 3$ 이면 $s(k) - x(k) < 8$ 이고, $k \geq 3$ 이면 $s(k) - x(k) = 8$ 라고 했었죠? 그러면 그 정적분값이 8이 되어야겠네요. 저 삼각형의 넓이 말이예요. 계속 유지가 되는 값이니깐요. 그리고 $\beta = 3$ 이어야 합니다. β 이후로 값이 유지가 되잖아요.

그리고 삼각형의 높이는 8입니다. $v(t) = |at - b| - 4$ ($a > 0, b > 4$)가 가장 낮아지는 부분의 함수값은 -4 인데 우리는 -2 를 곱했죠? 정적분 값인 삼각형의 넓이가 8인데 $\beta = 3$ 이니까 $\frac{1}{2} \times 8 \times (3 - \alpha) = 8$ 이므로 $\alpha = 1$ 입니다.

여기서 V자 모양의 왼쪽 부분을 식으로 표현하면 $v(t) = -at + b - 4$ 이죠? $a > 0$ 이니까 기울기가 음수가 되도록 만들어준 거예요. 이게 $t = 1$ 에서 값이 0이 되니까 $b - a - 4 = 0$ 입니다.

오른쪽 부분은 $v(t) = at - b - 4$ 인데 $t = 3$ 에서 값이 0이 되니까 $3a - b - 4 = 0$ 이네요. 연립하면 $a = 4, b = 8$ 입니다.

이제 시각 $t = 1$ 에서 $t = 6$ 까지 점 P의 위치의 변화량을 구해야 합니다. 이건 그냥 정적분 하면 되겠네요. 1부터 3까지 정적분 값은 이미 알고 있어요. -4 이죠. 아까 구했던 8은 -2 를 곱한 값이니깐 되돌려줘야죠.

그러면 3부터 6까지 정적분 값은 삼각형 넓이를 구하면 되겠어요. V자 모양의 오른쪽 부분이

$v(t) = 4t - 12$ 이니까 $\frac{1}{2} \times 3 \times 12 = 18$ 입니다. 둘을 더하면 14이네요.

6. 등차수열 $\{a_n\}$ 이 다음 조건을 만족시킨다.

$$(가) \ a_6 + a_7 = -\frac{1}{2}$$

(나) $a_l + a_m = 1$ 이 되도록 하는 두 자연수 l, m ($l < m$)의 모든 순서쌍 (l, m) 의 개수는 6이다.

등차수열 $\{a_n\}$ 의 첫째항부터 제14항까지의 합을 S 라 할 때,
 $2S$ 의 값을 구하시오. [2023학년도 사관학교 21]

6. 정답 35 [2023학년도 사관학교 21]

1) 등차수열은 $a_n = a + (n-1)d$ 로 놓기, 조건해석

$\{a_n\}$ 이 등차수열입니다. 일단 첫 항을 a 라 하고 공차를 d 라 하면 $a_n = a + (n-1)d$ 라 할게요.

(가)조건에서 $a_6 + a_7 = -\frac{1}{2}$ 입니다. $a_n = a + (n-1)d$ 에 넣어서 정리하면 $2a + 11d = -\frac{1}{2}$ 가 나옵니다.

2) 자연수 보이면 숫자 넣기

(나)조건에서 $a_l + a_m = 1$ 이 되도록 하는 두 자연수 l, m ($l < m$)의 모든 순서쌍이 6개라고 하네요. 일단

$a_l + a_m = 1$ 도 $a_n = a + (n-1)d$ 에 넣어보면 $2a + (l+m-2)d = 1$ 이 됩니다.

이때 $2a + 11d = -\frac{1}{2}$ 이었죠? $2a = -\frac{1}{2} - 11d$ 로 정리해서 $2a + (l+m-2)d = 1$ 에 넣으면

$(l+m-13)d = \frac{3}{2}$ 가 되네요.

그런데.... 여기서 뭘 어떡하죠? l, m 이 자연수이고 순서쌍이 6개라는 거 말고는 공차인 d 에 대한 정보도 없어서 뭘 할 수가 없겠는데요?

그럼 이렇게 생각해봅시다. 어차피 $l+m$ 만 결정되면 d 는 자동으로 결정되는 거잖아요? 다시 말하면

$l+m = k$ 라고 정해지면 d 는 자동적으로 결정된다는 말이에요. 이걸 다시 표현하면 $l+m = k$ 를 만족시키는 순서쌍이 6개가 되어야 한다는 거죠.

만약 $l+m = 3$ 이라면? 순서쌍 (l, m) 은 $(1, 2)$ 만 가능합니다. 그럼 개수는 1이 되죠. $l+m = 4$ 라면?

순서쌍은 $(1, 3)$ 만 가능해 개수가 1입니다. $l+m = 5$ 가 되면 $(1, 4), (2, 3)$ 으로 개수가 2개가 되죠.

$l+m = 6$ 이라면? $(1, 5), (2, 4)$ 로 2개가 됩니다. $l+m = 7$ 이면 $(1, 6), (2, 5), (3, 4)$ 로 3개가 되네요.

이거 규칙이 있네요. $k = 3, 4$ 일 때 1개, $k = 5, 6$ 일 때 2개, $k = 7, 8$ 일 때 3개, $k = 9, 10$ 일 때 4개,

$k = 11, 12$ 일 때 5개, $k = 13, 14$ 일 때 6개가 됩니다.

그러면 가능한 k 가 2개인데요? 그런데 $k = 13$ 일 때를 생각해 보세요. $(l+m-13)d = \frac{3}{2}$ 에서 $l+m = 13$ 이라면

값이 0이 나오는데 이러면 등호가 성립하지 않게 됩니다. 따라서 $k = 14$ 이네요. $d = \frac{3}{2}$ 입니다.

$$2a + 11d = -\frac{1}{2} \text{ 이니까 } a = -\frac{17}{2} \text{ 입니다. } a_n = -\frac{17}{2} + \frac{3}{2}(n-1) \text{ 이네요.}$$

이때 첫 항부터 14항까지 합을 S 라고 할 때 $2S$ 를 구하라네요. 가봅시다.

$$\frac{(a_1 + a_{14})}{2} \times 14 \times 2 = 14 \left(-\frac{17}{2} - \frac{17}{2} + \frac{39}{2} \right) = 35 \text{ 입니다. 답은 35네요.}$$

7. 최고차항의 계수가 정수인 삼차함수 $f(x)$ 에 대하여

$f(1)=1$, $f'(1)=0$ 이다. 함수 $g(x)$ 를

$$g(x)=f(x)+|f(x)-1|$$

이라 할 때, 함수 $g(x)$ 가 다음 조건을 만족시키도록 하는 함수 $f(x)$ 의 개수를 구하시오. [2023학년도 사관학교 22]

(가) 두 함수 $y=f(x)$, $y=g(x)$ 의 그래프의 모든 교점의 x 좌표의 합은 3이다.

(나) 모든 자연수 n 에 대하여 $n < \int_0^n g(x)dx < n+16$ 이다.

7. 정답 11 [2023학년도 사관학교 22]

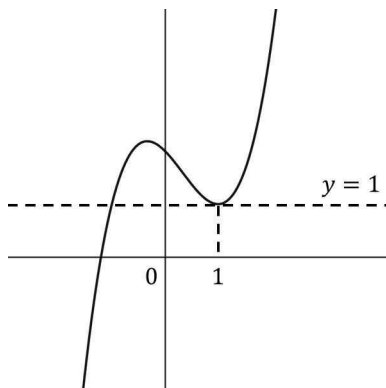
1) 절댓값 함수, 문제해석

최고차항의 계수가 정수인 삼차함수 $f(x)$ 가 있는데 $f(1)=1$, $f'(1)=0$ 입니다. $x=1$ 에서 극대값 1을 가질지, 아니면 극솟값 1을 가질지, 아니면 아예 그 점이 변곡점일지는 아직 잘 모르겠어요. 가능한 경우는 3가지입니다.

거기에 최고차항의 계수가 정수라고 했으니까(당연히 0은 아니겠죠? 그러면 이미 삼차함수가 아니니까요.) 양수인지 음수인지도 몰라요. 계속 가봅시다.

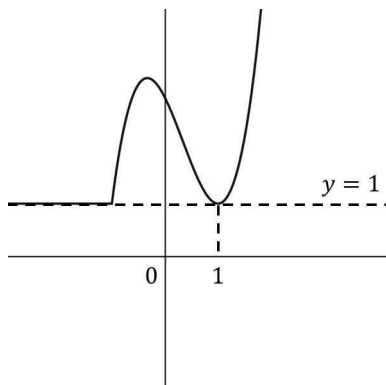
이때 $g(x)=f(x)+|f(x)-1|$ 입니다. 절댓값이 있으니까 벗겨볼게요. $f(x) \geq 1$ 이라면 $g(x)=2f(x)-1$ 이고 $f(x) < 1$ 이면 $g(x)=1$ 입니다. 정리하면 $g(x)=\begin{cases} 2f(x)-1 & (f(x) \geq 1) \\ 1 & (f(x) < 1) \end{cases}$ 이네요.

이걸 그래프로 해석해볼게요. 일단 함수를 이해하기 위해서 아무런 $f(x)$ 를 그려봅시다. 지금은 어차피 $g(x)$ 가 어떤 함수인지 알아보기 위함이니 아무렇게나 그려보는 거예요. $x=1$ 에서 극솟값을 가지도록 그려볼까요?



대충 이렇게 그려보면 1보다 크거나 같은 부분은 2를 곱하고 1만큼 아래로

내려야 해요. 1보다 작은 부분은 그냥 1이어야 하구요. 그려보면

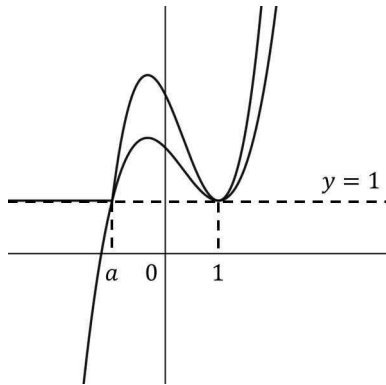


이렇게 되네요. 이것 다시 표현해보면 1보다 큰 부분은 2배 더 날카롭게

그리고, 1보다 작은 부분은 그냥 1로 해버리는 함수네요.

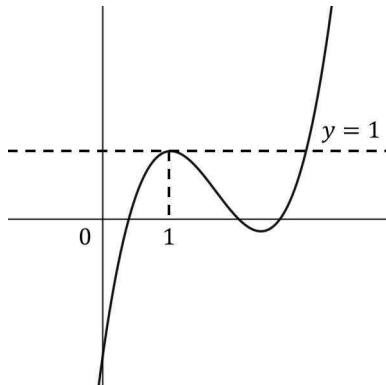
2) 조건 해석, 함수 보이면 관찰 → 그래프 그리기

이때 (가)조건에서 $y=f(x)$, $y=g(x)$ 의 그래프의 모든 교점의 x 좌표의 합이 3이라고 합니다. 저 위의 그래프 두 개를 겹쳐보세요.

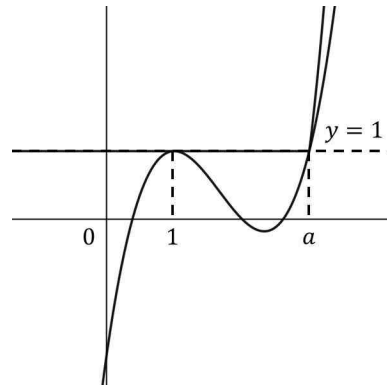


이렇게 되는데 교점은 $x=a$ 와 $x=1$ 이 있죠? 지금 보면 a 는 1보다

작잖아요? 그러면 합이 3이 될 수는 없겠네요. 이는 최고차항의 계수가 음수가 되어도 마찬가지입니다. 그러면 $x=1$ 에서 극댓값을 가지도록 그려봅시다.



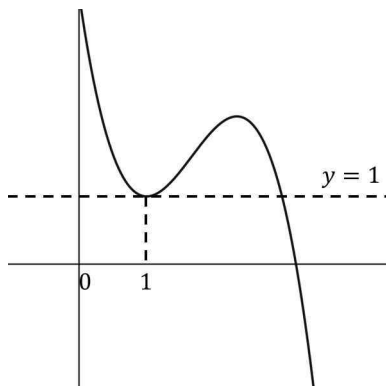
만약 이런 함수라면



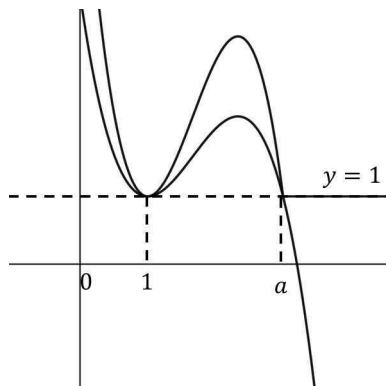
이렇게 되겠죠.

$a=2$ 입니다.

만약 최고차항의 계수가 음수라고 해도

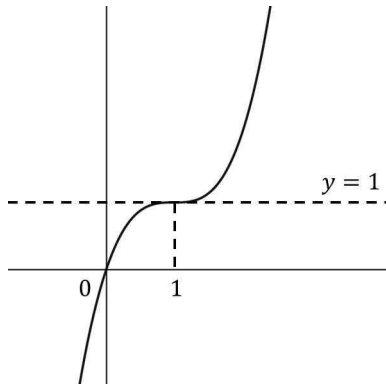


이 함수가

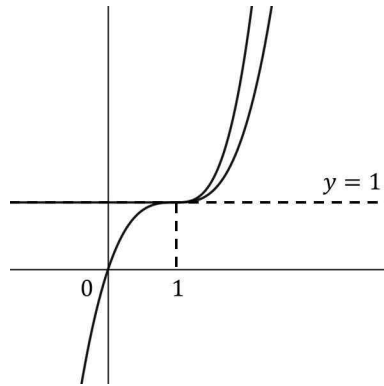


이렇게 되니까 딱 $a=2$ 가 됩니다.

그러면 $x = 1$ 에서 변곡점을 가질 때는요?



이런 함수가 되면



$x = 1$ 에서만 만나게

되네요. 그럼 모든 교점의 x 좌표의 합이 3이 될 수 없겠조?

3) 함수 구하기 - 인수정리

$y = f(x)$ 와 $y = 1$ 은 $x = 1$ 에서 접하고 $x = 2$ 에서는 그냥 만나야 하니까 $f(x) - 1$ 은 $(x - 1)$ 인수를 적어도 두 개, $(x - 2)$ 인수를 적어도 하나 가져야 합니다. $f(x)$ 의 최고차항의 계수를 k 라 하면 $f(x) - 1 = k(x - 1)^2(x - 2)$ 이고 $f(x) = k(x - 1)^2(x - 2) + 1$ 이네요. k 는 정수입니다.

4) 케이스 분류, 자연수 보이면 숫자 넣기, 정적분 나누기

(나)조건에서 모든 자연수 n 에 대하여 $n < \int_0^n g(x)dx < n + 16$ 이라고 합니다. 이 경우는 최고차항의 계수가 음수일 때랑 양수일 때가 달라요. 그래프를 보면 $g(x) = 1$ 이 되는 범위가 서로 다르거든요. 나눠서 생각합시다.

4-1) 최고차항의 계수가 양수인 경우

일단 $x = 2$ 까지는 $g(x) = 1$ 이네요. 그러니까 $n \leq 2$ 일 때랑 $n > 2$ 일 때랑 나눠서 생각해야겠조?

$n = 1$ 이라면 $1 < \int_0^1 g(x)dx < 17$ 인데 $\int_0^1 g(x)dx = 1$ 이죠? 범위에 해당하지 않습니다. 모든 자연수 n 에 대하여 성립해야 하는데 $n = 1$ 부터 성립하지 않네요? 이건 더 볼 필요도 없이 조건을 만족시키지 않는 경우입니다. 다음으로 넘어가죠.

4-2) 최고차항의 계수가 음수인 경우

이 역시 $n \leq 2$ 일 때랑 $n > 2$ 일 때랑 나눠서 생각해야겠어요.

$n = 1$ 이라면 $1 < \int_0^1 g(x)dx < 17$ 이어야 합니다. $\int_0^1 g(x)dx = \int_0^1 (2f(x) - 1)dx$ 이고 이걸 결국

$$1 + 2k \int_0^1 ((x-1)^2(x-2))dx = 1 + 2k \int_0^1 (x^3 - 4x^2 + 5x - 2)dx = 1 + 2k \left[\frac{x^4}{4} - \frac{4}{3}x^3 + \frac{5}{2}x^2 - 2x \right]_0^1 = 1 - \frac{7k}{6}$$

입니다. $1 < 1 - \frac{7k}{6} < 17$ 이고 정리하면 $-\frac{102}{7} < k < 0$ 입니다. 가능한 k 는 -1 부터 -14 까지 14개입니다.

$n = 2$ 이라면 $2 < \int_0^2 g(x)dx < 18$ 이어야 합니다. $\int_0^2 g(x)dx = \int_0^2 (2f(x) - 1)dx$ 이고, 방금과 마찬가지로

계산해보면

$$2 + 2k \int_0^2 ((x-1)^2(x-2))dx = 2 + 2k \left[\frac{x^4}{4} - \frac{4}{3}x^3 + \frac{5}{2}x^2 - 2x \right]_0^2 = 2 - \frac{4k}{3}$$

이죠? $2 < 2 - \frac{4k}{3} < 18$ 이네요.

정리하면 $0 < -\frac{4k}{3} < 16$ 이고 $-12 < k < 0$ 입니다. -1 부터 -11 까지 11개가 가능하죠?

$n > 2$ 이라면 $n < \int_0^n g(x)dx < n + 16$ 이어야 하는데 $\int_0^n g(x)dx$ 는 $\int_0^2 g(x)dx$ 에다가 2부터 n 까지는 높이가

1이고 길이가 $n - 2$ 인 직사각형의 넓이를 더한 것과 같죠? 따라서 $\int_0^2 g(x)dx + n - 2$ 인데 아까

$$\int_0^2 g(x)dx = 2 - \frac{4k}{3}$$

이라고 구했어요. 따라서 $n < n - \frac{4k}{3} < n + 16$ 여야 하겠네요. 정리하면

$-12 < k < 0$ 입니다. 이거 아까랑 똑같네요?

모든 자연수 n 에 대하여 조건을 만족시키라고 했으니까 위의 세 가지 경우를 모두 만족시켜야 합니다. 그러면 겹치는 부분을 찾아야겠죠? 셋 모두 -1 부터 -11 까지 11개가 겹치네요. 따라서 답은 11입니다.