

기पा급 종이책 판매링크



cafe.naver.com/spreadeffect/5615
기출의 파급효과 전과목 종이책 판매링크

기पा급 전자책 판매링크



docs.orbi.kr/docs/
기출의 파급효과 전과목 전자책 판매링크

파급의 기출효과



cafe.naver.com/spreadeffect
파급의 기출효과 NAVER 카페

기출의 파급효과 시리즈는 기출 분석서입니다. 기출의 파급효과 시리즈는 국어, 수학, 영어, 물리학 1, 화학 1, 생명과학 1, 사회·문화이 출시되었습니다.

기출의 파급효과에서는 준킬러 이상 기출에서 얻어갈 수 있는 '꼭 필요한 도구와 태도'를 정리합니다. '꼭 필요한 도구와 태도' 체화를 위해 관련도가 높은 준킬러 이상 기출을 바로바로 보여주며 체화 속도를 높입니다. 단시간 내에 점수를 극대화할 수 있도록 교재가 설계되었습니다.

학습하시다 질문이 생기신다면 '파급의 기출효과' 카페에서 질문을 할 수 있습니다.
교재 인증을 하시면 질문 게시판을 이용하실 수 있습니다.

기출의 파급효과 팀 소속 오르비 저자분들이 올리시는 학습자료를 받아보실 수 있습니다.
위 저자 분들의 콘텐츠 질문 답변도 교재 인증 시 가능합니다.

6월 평가원 이후 수학 n제, EBS 선별좌표, EBS FINAL 선별자료를 무료로 배포할 예정입니다.

더 궁금하시다면 <https://cafe.naver.com/spreadeffect/15>에서 확인하시면 됩니다.

제 2 교시

수학 영역

5 지선 다형

1. $\sqrt[3]{8} \times \frac{2^{\sqrt{2}}}{2^{1+\sqrt{2}}}$ 의 값은? [2점]

- ① 1 ② 2 ③ 4 ④ 8 ⑤ 16

① $2 \times 2^{-1} = 1$

2. 함수 $f(x) = 2x^3 - x^2 + 6$ 에 대하여 $f'(1)$ 의 값은? [2점]

- ① 1 ② 2 ③ 3 ④ 4 ⑤ 5

$f'(x) = 6x^2 - 2x$ ④

3. 등비수열 $\{a_n\}$ 이

$a_5 = 4, a_7 = 4a_6 - 16$

을 만족시킬 때, a_8 의 값은? [3점]

- ① 32 ② 34 ③ 36 ④ 38 ⑤ 40

① $4r^2 = 16r - 16$
 $r^2 - 4r + 4 = 0$
 $r = 2$
 $a_8 = 4 \times 2^3 = 32$

4. 다항함수 $f(x)$ 가 모든 실수 x 에 대하여

$\int_1^x f(t) dt = x^3 - ax + 1$

을 만족시킬 때, $f(2)$ 의 값은? (단, a 는 상수이다.) [3점]

- ① 8 ② 10 ③ 12 ④ 14 ⑤ 16

② $a = 2$
 $f(x) = 3x^2 - a$

5. $\cos(\pi+\theta) = \frac{1}{3}$ 이고 $\sin(\pi+\theta) > 0$ 일 때, $\tan\theta$ 의 값은? [3점]

- $-\cos\theta$ $-\sin\theta$
 ① $-2\sqrt{2}$ ② $-\frac{\sqrt{2}}{4}$ ③ 1
 ④ $\frac{\sqrt{2}}{4}$ ⑤ $2\sqrt{2}$

$\sin\theta < 0$
 $\cos\theta = -\frac{1}{3}$
 $\tan\theta > 0$

5

6. 함수

$$f(x) = \begin{cases} x^2 - ax + 1 & (x < 2) \\ -x + 1 & (x \geq 2) \end{cases}$$

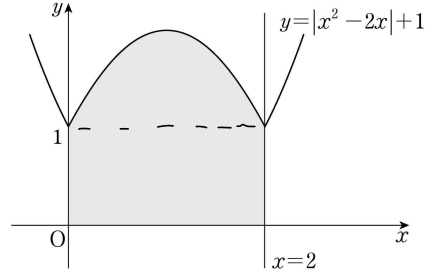
에 대하여 함수 $\{f(x)\}^2$ 이 실수 전체의 집합에서 연속이 되도록 하는 모든 상수 a 의 값의 합은? [3점]

- ① 5 ② 6 ③ 7 ④ 8 ⑤ 9

① $5 - 2a = 1$ or $5 - 2a = -1$
 $a = 2$ $a = 3$

7. 함수 $y = |x^2 - 2x| + 1$ 의 그래프와 x 축, y 축 및 직선 $x=2$ 로 둘러싸인 부분의 넓이는? [3점]

- ① $\frac{8}{3}$ ② 3 ③ $\frac{10}{3}$ ④ $\frac{11}{3}$ ⑤ 4



3

$$1 \times 2 + \frac{1 \cdot 2^3}{6} = \frac{10}{3}$$

8. 두 점 $A(m, m+3)$, $B(m+3, m-3)$ 에 대하여 선분 AB를 2:1로 내분하는 점이 곡선 $y = \log_4(x+8) + m - 3$ 위에 있을 때, 상수 m 의 값은? [3점]

- ① 4 ② $\frac{9}{2}$ ③ 5 ④ $\frac{11}{2}$ ⑤ 6

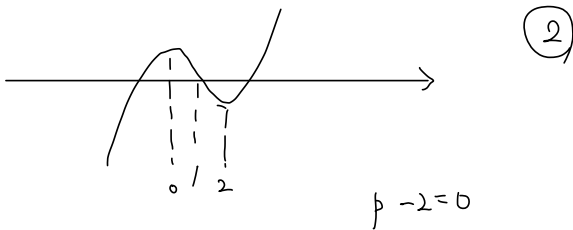
⑤
$$N \left(\frac{3m+6}{3}, \frac{3m-3}{3} \right)$$

$$m-1 = \log_4 (m+6) + m - 3$$

$$m = 6$$

9. 함수 $f(x) = |x^3 - 3x^2 + p|$ 는 $x=a$ 와 $x=b$ 에서 극대이다. $f(a) = f(b)$ 일 때, 실수 p 의 값은? (단, a, b 는 $a \neq b$ 인 상수이다.) [4점]

- ① $\frac{3}{2}$ ② 2 ③ $\frac{5}{2}$ ④ 3 ⑤ $\frac{7}{2}$



10. 공차가 양수인 등차수열 $\{a_n\}$ 이 다음 조건을 만족시킬 때, a_{10} 의 값은? [4점]

(가) $ a_4 + a_6 = 8$		
(나) $\sum_{k=1}^9 a_k = 27$	$9a_5 = 27$	$a_5 = 3$

- ① 21 ② 23 ③ 25 ④ 27 ⑤ 29

$a_4 < 0, a_6 > 0$ $d = 4$

② $a_{10} = 3 + 4 \times 5 = 23$

11. 그림과 같이 $\angle BAC = 60^\circ$, $\overline{AB} = 2\sqrt{2}$, $\overline{BC} = 2\sqrt{3}$ 인 삼각형 ABC가 있다. 삼각형 ABC의 내부의 점 P에 대하여 $\angle PBC = 30^\circ$, $\angle PCB = 15^\circ$ 일 때, 삼각형 APC의 넓이는? [4점]

$k^2 + 8 - 2\sqrt{2}k = 12$
 $k^2 - 2\sqrt{2}k - 4 = 0$
 $k = \sqrt{2} + \sqrt{6}$

$\frac{2\sqrt{3}}{\sin 135^\circ} = \frac{\overline{PC}}{\sin 30^\circ}$
 $\overline{PC} = \sqrt{6}$

① $\frac{3+\sqrt{3}}{4}$ ② $\frac{3+2\sqrt{3}}{4}$ ③ $\frac{3+\sqrt{3}}{2}$
 ④ $\frac{3+2\sqrt{3}}{2}$ ⑤ $2+\sqrt{3}$

$$\cos \angle ACB = \frac{(2 + (\sqrt{2} + \sqrt{6})^2) - 8}{2 \cdot 2\sqrt{3} \cdot (\sqrt{2} + \sqrt{6})} = \frac{1}{\sqrt{2}}$$

3

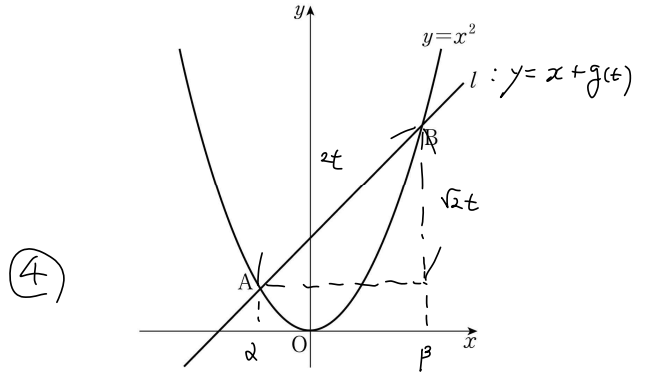
$\angle ACB = 45^\circ$, $\angle ACP = 30^\circ$

$$\Delta APC = \frac{1}{2} \cdot \sqrt{6} \cdot (\sqrt{2} + \sqrt{6}) \cdot \frac{1}{2} = \frac{6 + 2\sqrt{3}}{4}$$

12. 곡선 $y = x^2$ 과 기울기가 1인 직선 l 이 서로 다른 두 점 A, B에서 만난다. 양의 실수 t 에 대하여 선분 AB의 길이가 $2t$ 가 되도록 하는 직선 l 의 y 절편을 $g(t)$ 라 할 때,

$\lim_{t \rightarrow \infty} \frac{g(t)}{t^2}$ 의 값은? [4점]

- ① $\frac{1}{16}$ ② $\frac{1}{8}$ ③ $\frac{1}{4}$ ④ $\frac{1}{2}$ ⑤ 1



4

$$x^2 - x - g(t) = 0$$

$$1 + 4g(t) = 2t^2$$

$$g(t) = \frac{2t^2 - 1}{4}$$

$$\begin{cases} \alpha + \beta = 1 \\ \alpha\beta = -g(t) \\ \beta - \alpha = \sqrt{2}t \end{cases}$$

13. 두 함수

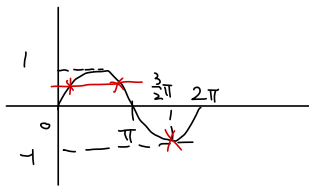
$$f(x) = x^2 + ax + b, \quad g(x) = \sin x$$

가 다음 조건을 만족시킬 때, $f(2)$ 의 값은?
(단, a, b 는 상수이고, $0 \leq a \leq 2$ 이다.) [4점]

(가) $\{g(a\pi)\}^2 = 1 \quad a = \frac{1}{2} \text{ or } a = \frac{3}{2}$
 (나) $0 \leq x \leq 2\pi$ 일 때, 방정식 $f(g(x)) = 0$ 의
 모든 해의 합은 $\frac{5}{2}\pi$ 이다.

- ① 3 ② $\frac{7}{2}$ ③ 4 ④ $\frac{9}{2}$ ⑤ 5

4



$$f(-1) = 0$$

$a = \frac{1}{2}$ 일 때
(o)

$$f(x) = x^2 + \frac{1}{2}x - \frac{1}{2} = \frac{1}{2}(2x-1)(x+1)$$

$$f(2) = \frac{1}{2} \cdot 3 \cdot 3 = \frac{9}{2}$$

$a = \frac{3}{2}$ 일 때
(x)

$$f(x) = x^2 + \frac{3}{2}x + \frac{1}{2} = \frac{1}{2}(2x+1)(x+1)$$

$f(g(x)) = 0$ 해 합 $\frac{9}{2}\pi$

14. 세 양수 a, b, k 에 대하여 함수 $f(x)$ 를

$$f(x) = \begin{cases} ax & (x < k) \\ -x^2 + 4bx - 3b^2 & (x \geq k) \end{cases}$$

$$ak = -k^2 + 4bk - 3b^2$$

$$a = -2k + 4b$$

라 하자. 함수 $f(x)$ 가 실수 전체의 집합에서 미분가능할 때,
<보기>에서 옳은 것만을 있는 대로 고른 것은? [4점]

< 보기 >

㉠ $a=1$ 이면 $f'(k)=1$ 이다.
 ㉡ $k=3$ 이면 $a=-6+4\sqrt{3}$ 이다.
 ㉢ $f(k)=f'(k)$ 이면 함수 $y=f(x)$ 의 그래프와 x 축으로 둘러싸인 부분의 넓이는 $\frac{1}{3}$ 이다.

- ① ㉠ ② ㉠, ㉡ ③ ㉠, ㉢
 ④ ㉡, ㉢ ⑤ ㉠, ㉡, ㉢

5

L. $3a = -3b^2 + 4b - 9$

$$a = -b + 4b \quad b = \sqrt{3}, \quad a = -b + 4\sqrt{3}$$

C. $k=1 \quad a = -3b^2 + 4b - 1 \quad b = \frac{1}{\sqrt{3}}$
 $a = 4b - 2$

$$a = \frac{4}{\sqrt{3}} - 2$$

$$\int_0^1 ax \, dx + \int_1^{\sqrt{3}} (-x^2 + \frac{4}{\sqrt{3}}x - 1) \, dx$$

$$= \frac{a}{2} + \left[-\frac{1}{3}x^3 + \frac{2}{\sqrt{3}}x^2 - x \right]_1^{\sqrt{3}}$$

$$= \frac{2}{\sqrt{3}}\sqrt{3} - 1 - \sqrt{3} + \frac{1}{3} + \frac{4}{3}\sqrt{3} - \sqrt{3} + 1$$

$$= \frac{1}{3}$$

15. 모든 항이 자연수인 수열 $\{a_n\}$ 이 모든 자연수 n 에 대하여

$$a_{n+2} = \begin{cases} \frac{a_{n+1} + a_n}{5} & (a_{n+1} + a_n \text{이 홀수인 경우}) \\ \frac{1}{2}(a_{n+1} + a_n) & (a_{n+1} + a_n \text{이 짝수인 경우}) \end{cases}$$

를 만족시킨다. $a_1 = 1$ 일 때, $a_6 = 34$ 가 되도록 하는 모든 a_2 의 값의 합은? [4점]

- ① 60 ② 64 ③ 68 ④ 72 ⑤ 76

$\frac{a_1}{a_1}$ $\frac{a_2}{a_2}$ $\frac{a_3}{a_3}$ $\frac{a_4}{a_4}$ $\frac{a_5}{a_5}$ a_6 (모순)
 짝 짝 짝 짝 짝

a_1 a_2 a_3 a_4 a_5 a_6
 1 $2k$ $2k+1$ $4(k+1)$ $3k+1$ $34 \Rightarrow 7k+2=68$ (모순)
 $2k-1$ k $3k-1$ $4k-1$ $34 \Rightarrow 7k-2=68$
 $\frac{3k-1}{2}$ $\frac{5k-1}{2}$ 34 $k=10$
 $\frac{5k-1}{4}$ 34
 (k 홀수)
 \Downarrow
 $\frac{8k-2}{2} = 68$ (x)
 $\frac{11k-3}{4} = 68$ $k=25$

3

$19 + 49 = 68$

단답형

16. $\log_2 96 - \frac{1}{\log_6 2}$ 의 값을 구하시오. [3점]

$\log_2 96 - \log_2 6 = \log_2 16$

4

17. 직선 $y = 4x + 5$ 가 곡선 $y = 2x^3 - 4x + k$ 에 접할 때, 상수 k 의 값을 구하시오. [3점]

$x=1$ 에서의 접선 $\rightarrow (1, 9)$ 지남

$y' = 6x^2 - 4$

$9 = k - 2$

11

18. n 이 자연수일 때, x 에 대한 이차방정식

$$x^2 - 5nx + 4n^2 = 0$$

의 두 근을 α_n, β_n 이라 하자.

$\sum_{n=1}^7 \underbrace{(1-\alpha_n)(1-\beta_n)}_{4n^2-5n+1}$ 의 값을 구하시오. [3점]

$$4n^2 - 5n + 1$$

$$\alpha_n + \beta_n = 5n$$

$$\alpha_n \beta_n = 4n^2$$

$$4 \times \frac{7 \cdot 8 \cdot 15}{6} - 5 \cdot \frac{7 \cdot 8}{2} + 7$$

$$= 560 - 140 + 7 = 427$$

427

19. 시각 $t=0$ 일 때 동시에 원점을 출발하여 수직선 위를 움직이는 두 점 P, Q의 시각 $t(t \geq 0)$ 에서의 속도가 각각

$$v_1(t) = 3t^2 - 15t + k, \quad v_2(t) = -3t^2 + 9t$$

이다. 점 P와 점 Q가 출발한 후 한 번만 만날 때, 양수 k 의 값을 구하시오. [3점]

$$t^3 - \frac{15}{2}t^2 + kt = -t^3 + \frac{9}{2}t^2$$

$$2t^3 - 12t^2 + kt = 0$$

$$2t^2 - 12t + k = 0 \quad (t \neq 0)$$

$$36 = 2k$$

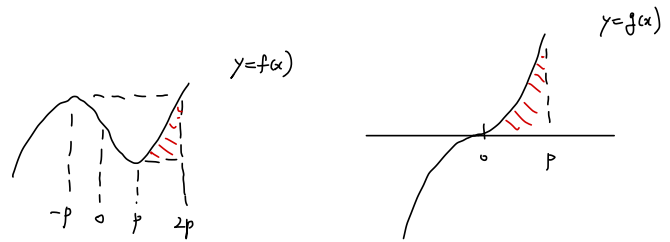
18

20. 최고차항의 계수가 1이고 $f(0)=1$ 인 삼차함수 $f(x)$ 와 양의 실수 p 에 대하여 함수 $g(x)$ 가 다음 조건을 만족시킨다.

(가) $g'(0)=0$

(나) $g(x) = \begin{cases} f(x-p) - f(-p) & (x < 0) \\ f(x+p) - f(p) & (x \geq 0) \end{cases} \quad \begin{matrix} g(0) = 0 \\ f(-p) = f(p) = 0 \end{matrix}$

$\int_0^p g(x) dx = 20$ 일 때, $f(5)$ 의 값을 구하시오. [4점]



$$20 = \int_0^p g(x) dx = \int_p^{2p} (x-p)^2 (x+2p) dx$$

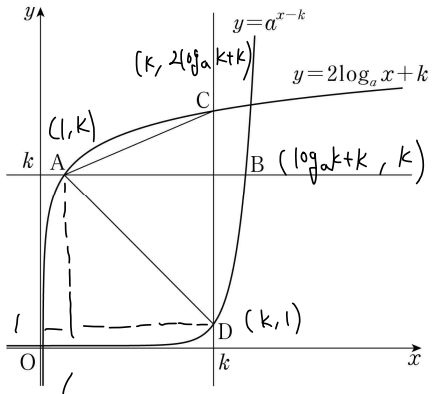
$$= \int_0^p t^2 (t+3p) dt = \left[\frac{1}{4}t^4 + pt^3 \right]_0^p = \frac{5}{4}p^4$$

$p=2 \quad f(x) = (x-2)^2(x+4) - 15$

$$f(5) = 9 \times 9 - 15 = 66$$

66

21. 그림과 같이 1보다 큰 두 실수 a, k 에 대하여 직선 $y=k$ 가 두 곡선 $y=2\log_a x+k, y=a^{x-k}$ 과 만나는 점을 각각 A, B라고 하고, 직선 $x=k$ 가 두 곡선 $y=2\log_a x+k, y=a^{x-k}$ 과 만나는 점을 각각 C, D라 하자. $\overline{AB} \times \overline{CD} = 85$ 이고 삼각형 CAD의 넓이가 35일 때, $a+k$ 의 값을 구하시오. [4점]



$$(\log_a k + k - 1)(2\log_a k + k - 1) = 85$$

$$(k-1)(2\log_a k + k - 1) = 70$$

$$\log_a k = A \quad (A+B)(2A+B) = 85$$

$$k-1 = B$$

$$B(2A+B) = 70$$

$$2A^2 + 3AB + B^2 = 85$$

$$2AB + B^2 = 70$$

$$2A^2 + AB = 15$$

$$A(2A+B) = 15$$

$$\frac{B}{A} = \frac{14}{3}$$

$$k=8$$

$$\log_a 8 = \frac{3}{2}$$

$$\log_a 2 = \frac{1}{2}$$

$$a=4$$

12

$$A = \frac{3}{2}, B = 7$$

22. 최고차항의 계수가 1인 사차함수 $f(x)$ 가 있다.

실수 t 에 대하여 함수 $g(x)$ 를 $g(x) = |f(x) - t|$ 라 할 때,

$\lim_{x \rightarrow k} \frac{g(x) - g(k)}{|x - k|}$ 의 값이 존재하는 서로 다른 실수 k 의 개수를 $h(t)$ 라 하자. \rightarrow **침범 or 극점**

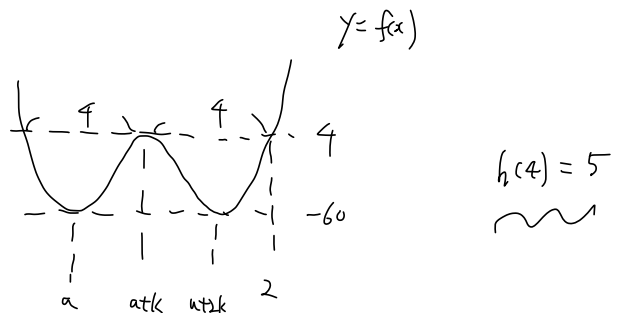
함수 $h(t)$ 는 다음 조건을 만족시킨다.

(가) $\lim_{t \rightarrow 4+} h(t) = 5$

(나) 함수 $h(t)$ 는 $t = -60$ 과 $t = 4$ 에서만 불연속이다.

$f(2) = 4$ 이고 $f'(2) > 0$ 일 때, $f(4) + h(4)$ 의 값을 구하시오.

[4점]



$$f(x) = (x-a)^2(x-(a+2k))^2 - 60$$

$$k^4 - 60 = 4 \quad k = 2\sqrt{2}$$

$$f(x) = (x+6)(x+2)^2(x-2) + 4$$

$$f(4) = 6 \times 36 \times 2 + 4 = 724$$

729

* 확인 사항

○ 답안지의 해당란에 필요한 내용을 정확히 기입(표기)했는지 확인하시오.

○ 이어서, 「선택과목(확률과 통계)」 문제가 제시되오니, 자신이 선택한 과목인지 확인하시오.

제 2 교시

수학 영역(확률과 통계)

5 지선 다형

23. ${}_3P_2 + {}_3P_2$ 의 값은? [2점]

- ① 15 ② 16 ③ 17 ④ 18 ⑤ 19

①

$$6 + 9 = 15$$

24. 5명의 학생이 일정한 간격을 두고 원 모양의 탁자에 모두 둘러앉는 경우의 수는? (단, 회전하여 일치하는 것은 같은 것으로 본다.) [3점]

- ① 16 ② 20 ③ 24 ④ 28 ⑤ 32

$$4! = 24$$

③

25. 문자 A, A, A, B, B, B, C, C가 하나씩 적혀 있는 8장의 카드를 모두 일렬로 나열할 때, 양 끝 모두에 B가 적힌 카드가 놓이도록 나열하는 경우의 수는? (단, 같은 문자가 적혀 있는 카드끼리는 서로 구별하지 않는다.) [3점]

- ① 45 ② 50 ③ 55 ④ 60 ⑤ 65



④

$$\frac{6!}{3!2!} = 60$$

26. 서로 다른 공 6개를 남김없이 세 주머니 A, B, C에 나누어 넣을 때, 주머니 A에 넣은 공의 개수가 3이 되도록 나누어 넣는 경우의 수는? (단, 공을 넣지 않는 주머니가 있을 수 있다.) [3점]

- ① 120 ② 130 ③ 140 ④ 150 ⑤ 160

A	B	C	
3	3	0	${}^6C_3 = 20$
3	2	1	${}^6C_3 \times {}^3C_2 = 60$
3	1	2	${}^6C_3 \times {}^3C_1 = 60$
3	0	3	${}^6C_3 = 20$

⑤

27. 방정식 $a+b+c+3d=10$ 을 만족시키는 자연수 a, b, c, d 의 모든 순서쌍 (a, b, c, d) 의 개수는? [3점]

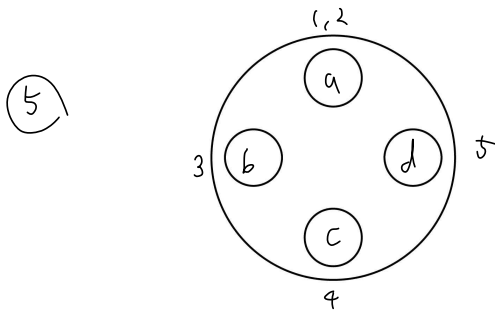
- ① 15 ② 18 ③ 21 ④ 24 ⑤ 27

② $d=1 \quad a+b+c=7 \quad {}_6C_2=15$
 $d=2 \quad a+b+c=4 \quad {}_3C_2=3$

28. 원 모양의 식탁에 같은 종류의 비어 있는 4개의 접시가 일정한 간격을 두고 원형으로 놓여 있다. 이 4개의 접시에 서로 다른 종류의 빵 5개와 같은 종류의 사탕 5개를 다음 조건을 만족시키도록 남김없이 나누어 담는 경우의 수는? (단, 회전하여 일치하는 것은 같은 것으로 본다.) [4점]

(가) 각 접시에는 1개 이상의 빵을 담는다.
 (나) 각 접시에 담는 빵의 개수와 사탕의 개수의 합은 3 이하이다.

- ① 420 ② 450 ③ 480 ④ 510 ⑤ 540



${}^5C_2 \times 3! \times 9 = 540$

- $a+b+c+d = 5$
 $\leq 1 \leq 2 \leq 2 \leq 2$
 (0 1 2 2)
 (0 2 2 1)
 (0 2 1 2)
 (1 0 2 2)
 (1 1 2 1)
 (1 1 1 2)
 (1 2 0 2)
 (1 2 1 1)
 (1 2 2 0)

단답형

29. 숫자 1, 2, 3 중에서 중복을 허락하여 다음 조건을 만족시키도록 여섯 개를 선택한 후, 선택한 숫자 여섯 개를 모두 일렬로 나열하는 경우의 수를 구하시오. [4점]

- (가) 숫자 1, 2, 3을 각각 한 개 이상씩 선택한다.
- (나) 선택한 여섯 개의 수의 합이 4의 배수이다.

$a + b + c = 6$
~~4 1 1~~
~~3 2 1~~
~~3 1 2~~
~~2 3 1~~
 $2 \ 2 \ 2 \quad \frac{6!}{2!2!2!} = 90$
~~2 \ 1 \ 3~~
 $1 \ 4 \ 1 \quad \frac{6!}{4!} = 30$
~~1 \ 3 \ 2~~
~~1 \ 2 \ 3~~
~~1 \ 1 \ 4~~

120

30. 집합 $X = \{1, 2, 3, 4, 5\}$ 에 대하여 다음 조건을 만족시키는 함수 $f: X \rightarrow X$ 의 개수를 구하시오. [4점]

- (가) 집합 X 의 임의의 두 원소 x_1, x_2 에 대하여 $x_1 < x_2$ 이면 $f(x_1) \leq f(x_2)$ 이다.
- (나) $f(2) \neq 1$ 이고 $f(4) \times f(5) < 20$ 이다.

	$f(5)$	$f(4)$	$f(3)$	$f(2)$	$f(1)$		
2	}	2	-	2	-	2	$2 \times 4 = 8$
3							$3 \times 3 = 9$
4							$2 \times 3 = 6$
5							$2 \times 3 = 6$
3	}	3	<	2	-	2	$4 \times 1 = 4$
4							$3 \times 1 = 3$
5							$2 \times 1 = 2$
4	}	4	<	3	<	3	$3 \times 1 = 3$
5							$2 \times 1 = 2$
							$2 \times 1 = 2$

45

* 확인 사항

- 답안지의 해당란에 필요한 내용을 정확히 기입(표기)했는지 확인하시오.
- 이어서, 「선택과목(미적분)」 문제가 제시되오니, 자신이 선택한 과목인지 확인하시오.

제 2 교시

수학 영역(미적분)

5 지선 다형

23. $\lim_{n \rightarrow \infty} \frac{(2n+1)(3n-1)}{n^2+1}$ 의 값은? [2점]

- ① 3 ② 4 ③ 5 ④ 6 ⑤ 7

$$\lim_{n \rightarrow \infty} \frac{(2 + \frac{1}{n})(3 - \frac{1}{n})}{1 + \frac{1}{n^2}} = 6.$$

24. 수열 $\{a_n\}$ 이 모든 자연수 n 에 대하여

$$3^n - 2^n < a_n < 3^n + 2^n$$

을 만족시킬 때, $\lim_{n \rightarrow \infty} \frac{a_n}{3^{n+1} + 2^n}$ 의 값은? [3점]

- ① $\frac{1}{6}$ ② $\frac{1}{3}$ ③ $\frac{1}{2}$ ④ $\frac{2}{3}$ ⑤ $\frac{5}{6}$

$$\frac{3^n - 2^n}{3^{n+1} + 2^n} < \frac{a_n}{3^{n+1} + 2^n} < \frac{3^n + 2^n}{3^{n+1} + 2^n}$$

$$\lim_{n \rightarrow \infty} \frac{3^n - 2^n}{3^{n+1} + 2^n} \leq \lim_{n \rightarrow \infty} \frac{a_n}{3^{n+1} + 2^n} \leq \lim_{n \rightarrow \infty} \frac{3^n + 2^n}{3^{n+1} + 2^n}$$

$$\lim_{n \rightarrow \infty} \frac{1 - (\frac{2}{3})^n}{3 + (\frac{2}{3})^n} = \frac{1}{3}$$

$$\lim_{n \rightarrow \infty} \frac{1 + (\frac{2}{3})^n}{3 + (\frac{2}{3})^n} = \frac{1}{3}$$

25. 등차수열 $\{a_n\}$ 에 대하여

$$\lim_{n \rightarrow \infty} \frac{a_{2n} - 6n}{a_n + 5} = 4$$

일 때, $a_2 - a_1$ 의 값은? [3점]

- ① -1 ② -2 ③ -3 ④ -4 ⑤ -5

$$a_n = a_1 + (n-1)d$$

$$\lim_{n \rightarrow \infty} \frac{a_1 + (2n-1)d - 6n}{a_1 + (n-1)d + 5} = \lim_{n \rightarrow \infty} \frac{(2d-6)n + a_1 - d}{dn + a_1 - d + 5}$$

$$= \lim_{n \rightarrow \infty} \frac{2d-6 + \frac{a_1-d}{n}}{d + \frac{a_1-d+5}{n}}$$

$$= \frac{2d-6}{d}$$

$$= 4 \implies d = a_2 - a_1 = -3.$$

26. 두 수열 $\{a_n\}, \{b_n\}$ 에 대하여

$$\lim_{n \rightarrow \infty} (n^2 + 1)a_n = 3, \lim_{n \rightarrow \infty} (4n^2 + 1)(a_n + b_n) = 1$$

일 때, $\lim_{n \rightarrow \infty} (2n^2 + 1)(a_n + 2b_n)$ 의 값은? [3점]

- ① -3 ② $-\frac{7}{2}$ ③ -4 ④ $-\frac{9}{2}$ ⑤ -5

$$\begin{aligned} \lim_{n \rightarrow \infty} (2n^2 + 1)a_n &= \lim_{n \rightarrow \infty} \left((n^2 + 1)a_n \cdot \frac{2n^2 + 1}{n^2 + 1} \right) \\ &= \lim_{n \rightarrow \infty} (n^2 + 1)a_n \cdot \lim_{n \rightarrow \infty} \frac{2n^2 + 1}{n^2 + 1} \\ &= 3 \cdot 2 \\ &= 6. \end{aligned}$$

$$\begin{aligned} \implies \lim_{n \rightarrow \infty} (4n^2 + 1)a_n &= \lim_{n \rightarrow \infty} \left((2n^2 + 1)a_n \cdot \frac{4n^2 + 1}{2n^2 + 1} \right) \\ &= \lim_{n \rightarrow \infty} (2n^2 + 1)a_n \cdot \lim_{n \rightarrow \infty} \frac{4n^2 + 1}{2n^2 + 1} \\ &= 6 \cdot 2 \\ &= 12. \end{aligned}$$

$$\begin{aligned} \implies \lim_{n \rightarrow \infty} (4n^2 + 1)b_n &= -\lim_{n \rightarrow \infty} (4n^2 + 1)a_n \\ &= -12. \end{aligned}$$

$$\begin{aligned} \implies \lim_{n \rightarrow \infty} (4n^2 + 2)b_n &= \lim_{n \rightarrow \infty} \left((4n^2 + 1)b_n \cdot \frac{4n^2 + 2}{4n^2 + 1} \right) \\ &= \lim_{n \rightarrow \infty} (4n^2 + 1)b_n \cdot \lim_{n \rightarrow \infty} \frac{4n^2 + 2}{4n^2 + 1} \\ &= -12. \end{aligned}$$

$$\begin{aligned} \implies \lim_{n \rightarrow \infty} (2n^2 + 1)(a_n + 2b_n) &= \lim_{n \rightarrow \infty} (2n^2 + 1)a_n + \lim_{n \rightarrow \infty} (4n^2 + 2)b_n \\ &= 6 - 12 \\ &= -6. \end{aligned}$$

27. $a_1 = 3, a_2 = -4$ 인 수열 $\{a_n\}$ 과 등차수열 $\{b_n\}$ 이 모든 자연수 n 에 대하여

$$\sum_{k=1}^n \frac{a_k}{b_k} = \frac{6}{n+1}$$

을 만족시킬 때, $\lim_{n \rightarrow \infty} a_n b_n$ 의 값은? [3점]

- ① -54 ② $-\frac{75}{2}$ ③ -24 ④ $-\frac{27}{2}$ ⑤ -6

$$\frac{a_1}{b_1} = 3 \rightarrow b_1 = 1$$

$$\frac{a_n}{b_n} = \frac{b}{n+1} - \frac{b}{n} \rightarrow \frac{-4}{b_2} = 2-3 = -1 \rightarrow b_2 = 4$$

$$\rightarrow b_n = 3n - 2$$

$$a_n b_n = \frac{a_n}{b_n} \cdot (b_n)^2$$

$$= \frac{-6}{n(n+1)} \cdot (3n-2)^2$$

$$\rightarrow \lim_{n \rightarrow \infty} a_n b_n = \lim_{n \rightarrow \infty} \frac{-(54n^2 - 72n + 24)}{n^2 + n}$$

$$= \lim_{n \rightarrow \infty} \frac{-54 + \frac{72}{n} - \frac{24}{n^2}}{1 + \frac{1}{n}}$$

$$= -54$$

28. $a > 0, a \neq 1$ 인 실수 a 와 자연수 n 에 대하여 직선 $y=n$ 이 y 축과 만나는 점을 A_n , 직선 $y=n$ 이 곡선 $y = \log_a(x-1)$ 과 만나는 점을 B_n 이라 하자. 사각형 $A_n B_n B_{n+1} A_{n+1}$ 의 넓이를 S_n 이라 할 때,

$$\lim_{n \rightarrow \infty} \frac{B_n B_{n+1}}{S_n} = \frac{3}{2a+2}$$

을 만족시키는 모든 a 의 값의 합은? [4점]

- ① 2 ② $\frac{9}{4}$ ③ $\frac{5}{2}$ ④ $\frac{11}{4}$ ⑤ 3

$$A_n(0, n) \quad B_n(a^n + 1, n) \rightarrow S_n = \frac{1}{2} \cdot (a^{n+1} + a^n + 2)$$

$$A_{n+1}(0, n+1) \quad B_{n+1}(a^{n+1} + 1, n+1)$$

$$\lim_{n \rightarrow \infty} \frac{\sqrt{(a^{n+1} - a^n)^2 + 1^2}}{a^{n+1} + a^n + 2} = \frac{3}{2a+2}$$

$$0 < a < 1: \quad \frac{3}{2a+2} \rightarrow a = \frac{1}{2}$$

$$a > 1: \quad \frac{a-1}{\frac{a+1}{2}} = \frac{3}{2a+2} \rightarrow a = \frac{7}{4}$$

단답형

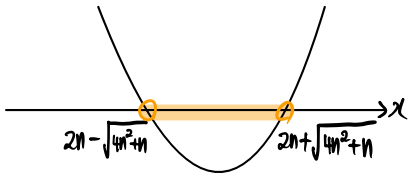
29. 자연수 n 에 대하여 x 에 대한 부등식 $x^2 - 4nx - n < 0$ 을 만족시키는 정수 x 의 개수를 a_n 이라 하자. 두 상수 p, q 에 대하여

$$\lim_{n \rightarrow \infty} (\sqrt{na_n} - pn) = q$$

일 때, $100pq$ 의 값을 구하시오. [4점]

50

$$x^2 - 4nx - n = (x - 2n - \sqrt{4n^2 + n}) \cdot (x - 2n + \sqrt{4n^2 + n})$$



$$2n - \sqrt{4n^2 + n} < 2n - \sqrt{4n^2} \leq x \leq 2n + \sqrt{4n^2} < 2n + \sqrt{4n^2 + n}$$

$$\rightarrow a_n = 4n + 1$$

$$\begin{aligned} \rightarrow \lim_{n \rightarrow \infty} (\sqrt{4n^2 + n} - pn) &= \lim_{n \rightarrow \infty} \frac{(4 - p^2)n^2 + n}{\sqrt{4n^2 + n} + pn} \end{aligned}$$

$$= \lim_{n \rightarrow \infty} \frac{1}{\sqrt{4 + \frac{1}{n}} + 2} \quad (p=2)$$

$$= \frac{1}{4}$$

$$= 9$$

$p = -2$ 이면 q 는 \sim 실수.

30. 함수

$$f(x) = \lim_{n \rightarrow \infty} \frac{x^{2n+1} - x}{x^{2n} + 1}$$

에 대하여 실수 전체의 집합에서 정의된 함수 $g(x)$ 가 다음 조건을 만족시킨다.

$2k-2 \leq |x| < 2k$ 일 때,

$$g(x) = (2k-1) \times f\left(\frac{x}{2k-1}\right)$$

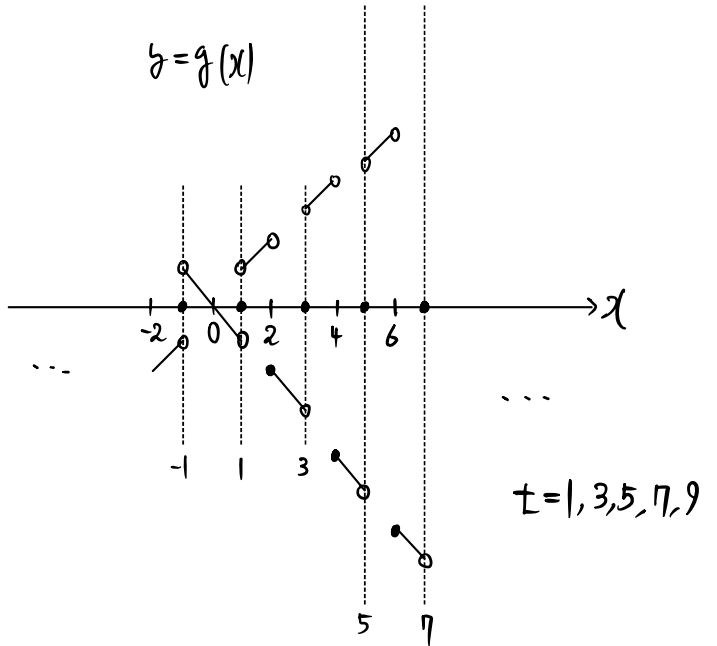
이다. (단, k 는 자연수이다.)

$0 < t < 10$ 인 실수 t 에 대하여 직선 $y=t$ 가 함수 $y=g(x)$ 의 그래프와 만나지 않도록 하는 모든 t 의 값의 합을 구하시오.

[4점]

25

$$g(x) = (2k-1) \cdot \lim_{n \rightarrow \infty} \frac{\left(\frac{x}{2k-1}\right)^{2n+1} - 1}{\left(\frac{x}{2k-1}\right)^{2n} + 1} = \begin{cases} 1 & (|x| > 2k-1) \\ -1 & (|x| < 2k-1) \\ 0 & (|x| = 2k-1) \end{cases}$$



* 확인 사항

- 답안지의 해당란에 필요한 내용을 정확히 기입(표기)했는지 확인하시오.
- 이어서, 「선택과목(기하)」 문제가 제시되오니, 자신이 선택한 과목인지 확인하시오.

제 2 교시

수학 영역(기하)

5 지 선 다 형

23. 타원 $\frac{x^2}{16} + \frac{y^2}{5} = 1$ 의 장축의 길이는? [2점]

- ① $4\sqrt{2}$ ② $2\sqrt{10}$ ③ $4\sqrt{3}$ ④ $2\sqrt{14}$ ⑤ 8

⑤

24. 포물선 $x^2 = 8y$ 의 초점과 준선 사이의 거리는? [3점]

- ① 4 ② $\frac{9}{2}$ ③ 5 ④ $\frac{11}{2}$ ⑤ 6

①

25. 한 초점이 $F(3, 0)$ 이고 주축의 길이가 4인 쌍곡선 $\frac{x^2}{a^2} - \frac{y^2}{b^2} = 1$ 의 점근선 중 기울기가 양수인 것을 l 이라 하자. 점 F 와 직선 l 사이의 거리는? (단, a, b 는 양수이다.) [3점]
 ① $\sqrt{3}$ ② 2 ③ $\sqrt{5}$ ④ $\sqrt{6}$ ⑤ $\sqrt{7}$

③

$$2a = 4$$

$$\frac{x^2}{4} - \frac{y^2}{5} = 1$$

$$l: y = \frac{\sqrt{5}}{2}x$$

$$d = \frac{3\sqrt{5}}{3} = \sqrt{5}$$

26. 포물선 $y^2 = 4x + 4y + 4$ 의 초점을 중심으로 하고 반지름의 길이가 2인 원이 포물선과 만나는 두 점을 $A(a, b), B(c, d)$ 라 할 때, $a+b+c+d$ 의 값은? [3점]
 ① 1 ② 2 ③ 3 ④ 4 ⑤ 5

②

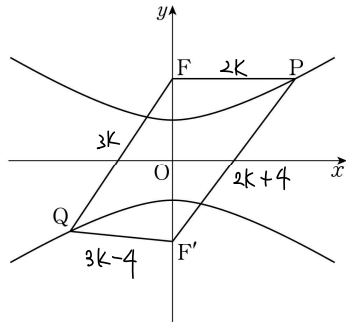
$y^2 = 4x$ $(y-2)^2 = 4(x+2)$

$A'(1, 2) \rightarrow A(-1, 4)$
 $B'(1, -2) \rightarrow B(-1, 0)$

27. 그림과 같이 두 초점이 $F(0, c)$, $F'(0, -c)$ ($c > 0$)인 쌍곡선 $\frac{x^2}{12} - \frac{y^2}{4} = -1$ 이 있다. 쌍곡선 위의 제1사분면에 있는 점 P와 쌍곡선 위의 제3사분면에 있는 점 Q가

$$\overline{PF'} - \overline{QF'} = 5, \overline{PF} = \frac{2}{3}\overline{QF}$$

를 만족시킬 때, $\overline{PF} + \overline{QF}$ 의 값은? [3점]



- ① 10 ② $\frac{35}{3}$ ③ $\frac{40}{3}$ ④ 15 ⑤ $\frac{50}{3}$

④

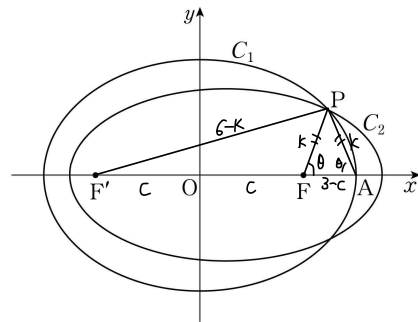
$$-k + b = 5 \quad k = 3$$

$$6 + 9 = 15$$

28. 장축의 길이가 6이고 두 초점이 $F(c, 0)$, $F'(-c, 0)$ ($c > 0$)인 타원을 C_1 이라 하자. 장축의 길이가 6이고 두 초점이 $A(3, 0)$, $F'(-c, 0)$ 인 타원을 C_2 라 하자. 두 타원 C_1 과 C_2 가 만나는 점 중 제1사분면에 있는 점 P에 대하여 $\cos(\angle AFP) = \frac{3}{8}$ 일 때, 삼각형 PFA의 둘레의 길이는? [4점]

- ① $\frac{11}{6}$ ② $\frac{11}{5}$ ③ $\frac{11}{4}$ ④ $\frac{11}{3}$ ⑤ $\frac{11}{2}$

④



$$c = 2$$

$$k = \frac{4}{3}$$

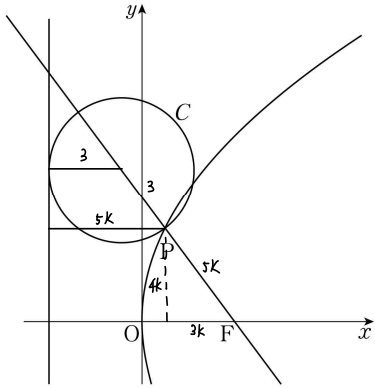
$$\frac{3-c}{2k} = \frac{3}{8}$$

$$\frac{k^2 + (c+3)^2 - (6-k)^2}{2k(c+3)} = \frac{3}{8}$$

$$\triangle PFA \text{ 둘레} = 3 + 2k - c = \frac{11}{3}$$

단답형

29. 그림과 같이 꼭짓점이 원점 O이고 초점이 F(p, 0) (p > 0)인 포물선이 있다. 점 F를 지나고 기울기가 $-\frac{4}{3}$ 인 직선이 포물선과 만나는 점 중 제1사분면에 있는 점을 P라 하자. 직선 FP 위의 점을 중심으로 하는 원 C가 점 P를 지나고, 포물선의 준선에 접한다. 원 C의 반지름의 길이가 3일 때, 25p의 값을 구하시오. (단, 원 C의 중심의 x좌표는 점 P의 x좌표보다 작다.) [4점]



$$2p = 8k = 3 + \frac{3}{5}(5k+3)$$

$$8k = 3k + \frac{24}{5}$$

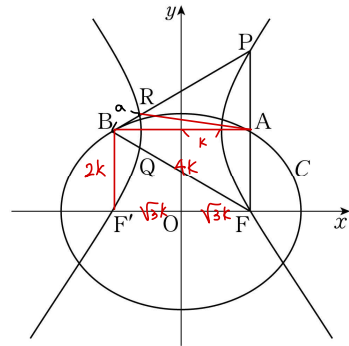
$$k = \frac{24}{25}, \quad p = \frac{96}{25}$$

96

30. 그림과 같이 두 초점이 F(c, 0), F'(-c, 0) (c > 0)인 타원 C가 있다. 타원 C가 두 직선 $x=c$, $x=-c$ 와 만나는 점 중 y좌표가 양수인 점을 각각 A, B라 하자. 두 초점이 A, B이고 점 F를 지나는 쌍곡선이 직선 $x=c$ 와 만나는 점 중 F가 아닌 점을 P라 하고, 이 쌍곡선이 두 직선 BF, BP와 만나는 점 중 x좌표가 음수인 점을 각각 Q, R라 하자. 세 점 P, Q, R가 다음 조건을 만족시킨다.

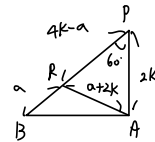
- (가) 삼각형 BFP는 정삼각형이다.
- (나) 타원 C의 장축의 길이와 삼각형 BQR의 둘레의 길이의 차는 3이다.

60 × AF의 값을 구하시오. [4점]



$$6k - 3a = 3$$

$$2k - a = 1$$



$$(a+2k)^2 = (4k-a)^2 + 4k^2 - 2k(4ka)$$

$$(4k-1)^2 = (2k+1)^2 + 4k^2 - 2k(2k+1)$$

$$16k^2 - 8k + 1 = 4k^2 + 2k + 1$$

$$12k^2 - 10k = 0$$

$$k = \frac{5}{6}, \quad AF = \frac{5}{3}$$

$$60 \times \frac{5}{3} = 100$$

100

* 확인 사항

- 답안지의 해당란에 필요한 내용을 정확히 기입(표기)했는지 확인하시오.