

# 단국대학교 2023학년도 모의논술고사

## 자연계열 문제

전형명	논술우수자	모집단위	
수험번호		성명	

### ☑ 수험생 유의사항

1. 시험시간은 120분이며, 고사 종료시까지 퇴실할 수 없습니다. (중도퇴실할 경우 결사처리)
2. 문제번호와 답안번호가 반드시 일치하여야 합니다. (일치하지 않을 경우 0점 처리됨)
3. 문제별 답안작성란을 벗어나지 않게 작성하여야 합니다.
4. 답안 작성 시 인적사항 등 답안과 관련 없는 내용을 작성한 경우 0점처리 됩니다.
5. 답안은 반드시 **검정색 필기구**로 작성하시기 바랍니다.  
(연필, 샤프, 빨간색이나 파란색 필기구 사용금지)
6. 답안지는 교체가 불가하오니 원고지 교정부호 또는 수정테이프를 사용하여 수정하시기 바랍니다.
7. 연습지는 대학에서 제공하는 A4용지를 활용하시기 바랍니다.
8. 휴대폰 등 전자기기는 전원을 끄고 비닐백에 넣어 좌석 아래에 보관하시기 바랍니다. 고사 중에 벨소리, 진동, 알람 등의 소리가 울릴 경우 부정행위자로 간주하여 처리합니다.

**※ 시험이 시작되기 전에는 표지를 넘기지 마십시오.**

[문제 1] 다음 제시문을 읽고 질문에 답하십시오. (55점)

<제시문>

<p>(가) 수렴하는 두 수열 <math>\{a_n\}, \{b_n\}</math> 에 대하여 <math>\lim_{n \rightarrow \infty} a_n = \alpha, \lim_{n \rightarrow \infty} b_n = \beta</math> 일 때,</p> <p>(i) 모든 자연수 <math>n</math> 에 대하여 <math>a_n \leq b_n</math> 이면 <math>\alpha \leq \beta</math></p> <p>(ii) 수열 <math>\{c_n\}</math> 이 모든 자연수 <math>n</math> 에 대하여 <math>a_n \leq c_n \leq b_n</math> 이고 <math>\alpha = \beta</math> 이면 수열 <math>\{c_n\}</math> 은 수렴하고 <math>\lim_{n \rightarrow \infty} c_n = \alpha</math></p>
<p>(나) 미분가능한 함수 <math>f(x)</math> 에 대하여 <math>f'(a) = 0</math> 이고, <math>x = a</math> 의 좌우에서</p> <p>(i) <math>f'(x)</math> 의 부호가 양에서 음으로 바뀌면 <math>f(x)</math> 는 <math>x = a</math> 에서 극대</p> <p>(ii) <math>f'(x)</math> 의 부호가 음에서 양으로 바뀌면 <math>f(x)</math> 는 <math>x = a</math> 에서 극소</p>
<p>(다) 닫힌구간 <math>[a, b]</math> 에서 연속인 함수 <math>f(x)</math> 의 한 부정적분을 <math>F(x)</math> 라 할 때,</p> $\int_a^b f(x) dx = [F(x)]_a^b = F(b) - F(a)$

[문제 1] 다음 극한값을 구하십시오. (15점)

$$\lim_{n \rightarrow \infty} \frac{1}{n^3} \sum_{k=1}^n \sqrt{k(k+1)(k^2+3)}$$

- 최고차항의 계수가 1인 삼차함수  $f(x)$ 가 다음 조건을 만족시킬 때 [문제 2]와 [문제 3]의 물음에 답하십시오.

<p>(1) <math>f(x)</math> 는 <math>x = \alpha, x = \beta</math> (<math>0 &lt; \alpha &lt; \beta</math>)에서 극값을 갖는다.</p> <p>(2) <math>f(0) = f(\beta)</math></p> <p>(3) <math>\int_0^\beta f(x) dx - \beta f(\beta) = 108</math></p>
--

[문제 2] 함수  $f(x)$ 의 두 극값의 차를 구하십시오. (20점)

[문제 3] 양의 실수  $t$ 에 대하여 곡선  $y = f(x)$  위의 두 점  $P(t, f(t)), Q(3t, f(3t))$ 를 1:3으로 내분하는 내분점을 R라 하자. 점 R가 나타내는 곡선의 방정식을  $y = g(x)$ 라 하면, 함수  $g(x)$ 는  $x = \gamma$ 에서 극솟값을 갖는다.

$\int_0^{\frac{2}{3}\gamma} f(x) dx = 50$ 일 때, 함수  $f(x)$ 의 극댓값을 구하십시오. (20점)

[문제 2] 다음 제시문을 읽고 질문에 답하십시오. (45점)

<제시문>

(가) 미분가능한 두 함수 $f(x), g(x)$ 에 대하여 $\{f(x)g(x)\}' = f'(x)g(x) + f(x)g'(x)$
(나) 함수 $f(t)$ 가 닫힌구간 $[a, b]$ 에서 연속일 때, $\frac{d}{dx} \int_a^x f(t)dt = f(x) \quad (\text{단, } a < x < b)$
(다) 미분가능한 함수 $f(x)$ 에 대하여 $f'(a) = 0$ 이고, $x = a$ 의 좌우에서 (i) $f'(x)$ 의 부호가 양에서 음으로 바뀌면 $f(x)$ 는 $x = a$ 에서 극대 (ii) $f'(x)$ 의 부호가 음에서 양으로 바뀌면 $f(x)$ 는 $x = a$ 에서 극소

[문제 1] 함수  $f(x) = -(x-1)^2 + 1$  에 대하여, 열린구간  $(1, 2)$  에서 정의된 함수

$$g(x) = \int_0^x |f(x) - f(t)| dt$$

라 하자.  $g(x)$  가  $x = a$  에서 극값을 가질 때,  $a$  의 값을 구하십시오. (20점)

[문제 2] 양의 실수  $a$  에 대하여 함수

$$h(x) = ax^2 e^{-\frac{2x}{a}}$$

라 하고, 실수  $t$  에 대하여  $k(t)$  를 닫힌구간  $[h(t), h(t) + a]$  에서  $h(x)$  의 최댓값이라 하자. 함수  $k(t)$  가 다음 조건을 만족시키도록 하는  $a$  의 최댓값을 구하십시오. (25점)

모든 양의 실수  $t$  에 대하여  $k(t)$  의 값이 일정하다.

(단,  $\lim_{x \rightarrow -\infty} h(x) = \infty$  이고  $\lim_{x \rightarrow \infty} h(x) = 0$ )

단국대학교 2023학년도 모의논술고사

자연계열 가이드답안



**문제 1**

예시 답안의 내용 및 평가 기준의 내용과는 일치하지 않더라도 기술한 내용이 논리적으로 타당한 경우에는 평가위원의 판단에 따라 부분 점수를 부여할 수 있음.

출제의도

[문제 1] 수열의 성질을 이해하여 문제를 해결할 수 있는지를 평가

[문제 2] 도함수의 성질을 이용하여 극값을 판정할 수 있는지를 평가

[문제 3] 내분점의 개념을 이해하고 다항함수의 정적분을 활용할 수 있는지를 평가

자료출처

- 김원경 외(2020), 수학, 102-109쪽
- 김원경 외(2020), 미적분, 16-19쪽
- 류희찬 외(2022), 미적분, 18-22쪽
- 황선옥 외(2022), 수학 II, 82-88쪽, 122-128쪽

**[문제 1 평가기준]**

- $k^2 < \sqrt{k(k+1)(k^2+3)} < k^2 + 4k + 4$  를 제시 : 8점
- $\frac{(n+1)(2n+1)}{6n^2} < \frac{1}{n^3} \sum_{k=1}^n \sqrt{k(k+1)(k^2+3)} < \frac{(n+1)(2n+1)}{6n^2} + \frac{2(n+1)}{n^2} + \frac{4}{n^2}$  를 제시 : 4점
- 정답을 제시 : 3점

**[문제 2 평가기준]**

- $\beta = 6$  임을 제시 : 10점
- $f(x) = x(x-6)^2 + f(6)$  을 제시 : 5점
- 정답을 제시 : 5점

**[문제 3 평가기준]**

- $g(x) = \frac{1}{4}f(2x) + \frac{3}{4}f\left(\frac{2}{3}x\right)$  를 제시 : 10점
- $\gamma = 3$  임을 제시 : 5점
- 정답을 제시 : 5점

예시 답안

[문제 1] 자연수  $k$  에 대하여

$$k^4 < k(k+1)(k^2+3) < k(k+1)(k^2+4k+4) < (k^2+4k+4)^2 \dots\dots\dots(A)$$

이므로  $k^2 < \sqrt{k(k+1)(k^2+3)} < k^2 + 4k + 4$  이고

$$\frac{1}{n^3} \sum_{k=1}^n k^2 < \frac{1}{n^3} \sum_{k=1}^n \sqrt{k(k+1)(k^2+3)} < \frac{1}{n^3} \sum_{k=1}^n (k^2 + 4k + 4)$$

따라서

$$\frac{(n+1)(2n+1)}{6n^2} < \frac{1}{n^3} \sum_{k=1}^n \sqrt{k(k+1)(k^2+3)} < \frac{(n+1)(2n+1)}{6n^2} + \frac{2(n+1)}{n^2} + \frac{4}{n^2}$$

이때,

$$\lim_{n \rightarrow \infty} \frac{(n+1)(2n+1)}{6n^2} = \lim_{n \rightarrow \infty} \left( \frac{(n+1)(2n+1)}{6n^2} + \frac{2(n+1)}{n^2} + \frac{4}{n^2} \right) = \frac{1}{3}$$

이 고 제시문 (가)에 의하여

$$\lim_{n \rightarrow \infty} \frac{1}{n^3} \sum_{k=1}^n \sqrt{k(k+1)(k^2+3)} = \frac{1}{3}$$

(참고) 부등식 (A)는 다음과 같은 부등식으로 바꾸어 풀이가 가능하다.

$$k^4 < k(k+1)(k^2+3) < (k+1)^4$$

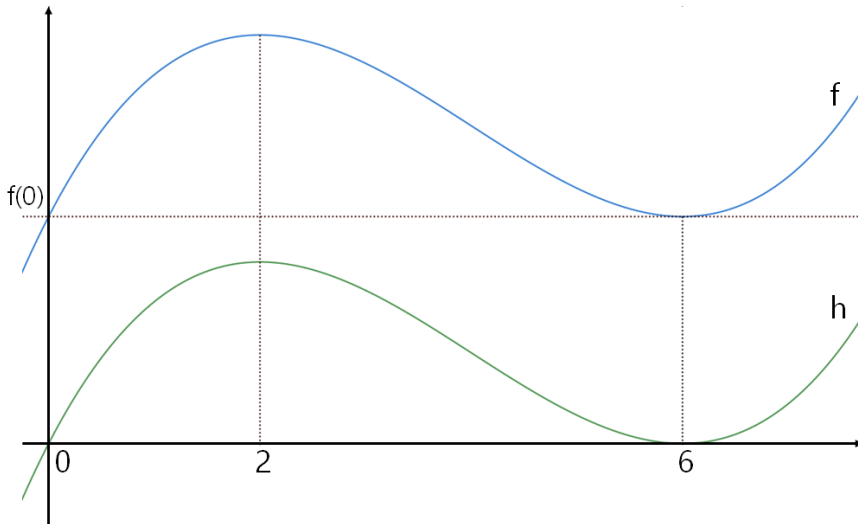
[문제 2] 함수  $f(x)$ 는 최고차항의 계수가 1인 삼차함수이고 조건 (1)에 의하여  $f(\alpha)$ 는 극댓값,  $f(\beta)$ 는 극솟값이며  $f(\alpha) > f(\beta)$ 이다. 함수  $h(x) = f(x) - f(\beta)$ 라 하면  $h'(x) = f'(x)$ 이고  $h(x)$ 는 최고차항의 계수가 1인 삼차함수이다. 조건 (1)과 (2)에 의하여

$$h(x) = x(x - \beta)^2$$

조건 (3)에 의하여

$$108 = \int_0^\beta f(x)dx - \beta f(\beta) = \int_0^\beta h(x)dx = \int_0^\beta x(x - \beta)^2 dx = \frac{1}{12} \beta^4$$

이므로  $\beta = 6$ 이다. 따라서  $h(x) = x(x - 6)^2$



$f(2) > f(6)$ 이므로 두 극값의 차는 32이다.

[문제 3] 주어진 조건을 만족하는 함수  $f(x)$ 는

$$f(x) = x(x - 6)^2 + f(6)$$

이 고

$$f'(x) = 3x^2 - 24x + 36 \dots \dots \dots (B)$$

점 R의 좌표를  $(x, y)$ 라 하자. 두 점  $P(t, f(t)), Q(3t, f(3t))$ 를 1:3으로 내분하는 내분점은

$$\left( \frac{3t+3t}{1+3}, \frac{f(3t)+3f(t)}{1+3} \right) = \left( \frac{3t}{2}, \frac{f(3t)+3f(t)}{4} \right)$$

$x = \frac{3t}{2}, y = \frac{f(3t)+3f(t)}{4}$ 라 할 때 구하는 곡선의 방정식은

$$y = \frac{1}{4}f(2x) + \frac{3}{4}f\left(\frac{2}{3}x\right)$$

따라서  $g(x) = \frac{1}{4}f(2x) + \frac{3}{4}f\left(\frac{2}{3}x\right)$ 이다. 한편

$$g'(x) = \frac{1}{2}f'(2x) + \frac{1}{2}f'\left(\frac{2}{3}x\right)$$

이고  $g'(x) = 0$ 에서  $f'(2x) + f'\left(\frac{2}{3}x\right) = 0$ 이므로 식 (B)로부터

$$(5x-9)(x-3) = 0$$

$g(x)$ 는  $x = 3$ 에서 극솟값을 갖는다.

$$50 = \int_0^2 f(x)dx = \left[ \frac{1}{4}x^4 - 4x^3 + 18x^2 + f(6)x \right]_0^2 = 44 + 2f(6)$$

에서  $f(6) = 3$ 이고 극댓값은  $f(2) = 35$ 이다.

**문제 2**

예시 답안의 내용 및 평가 기준의 내용과는 일치하지 않더라도 기술한 내용이 논리적으로 타당한 경우에는 평가위원의 판단에 따라 부분 점수를 부여할 수 있음.

□ 출제의도

[문제 1] 정적분과 도함수 사이의 관계를 이해하고 이를 활용할 수 있는지를 평가

[문제 2] 도함수의 개념을 이해하고 이를 활용할 수 있는지를 평가

□ 자료출처

- 권오남 외(2020), 수학 II, 88-95쪽, 130-136쪽
- 이준열 외(2020), 수학 II, 86-89쪽, 121-126쪽
- 황선옥 외(2022), 수학 II, 82-88쪽, 122-128쪽

[문제 1 평가기준]

- $g(x) = \int_0^{2-x} \{f(x) - f(t)\} dt + \int_{2-x}^x \{f(t) - f(x)\} dt$  임을 제시 : 7점
- $g'(x) = 2(x-1)(3x-4)$  임을 제시 : 10점
- 정답을 제시 : 3점

[문제 2 평가기준]

- $h(x)$ 의 극값을 모두 제시 : 5점
- $h(\alpha) \leq \alpha$ 를 제시 : 15점
- 정답을 제시 : 5점

□ 예시 답안

[문제 1]  $0 < t \leq 2-x$ 일 때,  $f(x) \geq f(t)$ 이고  $2-x < t \leq x$ 일 때,  $f(x) \leq f(t)$ 이므로

$$\begin{aligned} g(x) &= \int_0^{2-x} \{f(x) - f(t)\} dt + \int_{2-x}^x \{f(t) - f(x)\} dt \\ &= f(x) \int_0^{2-x} 1 dt - \int_0^{2-x} f(t) dt + \int_{2-x}^x f(t) dt - f(x) \int_{2-x}^x 1 dt \\ &= f(x)(2-x) - \int_0^{2-x} f(t) dt + \int_{2-x}^x f(t) dt - f(x)(2x-2) \end{aligned}$$

$g'(x) = 2(x-1)(3x-4)$ 이고 제시문 (다)에 의하여  $x = \frac{4}{3}$ 에서 극값을 갖는다. 따라서  $a = \frac{4}{3}$ 이다.



[문제 2]  $h'(x) = 2x(\alpha - x)e^{-\frac{2x}{\alpha}}$  이므로  $h(x)$ 의 증가와 감소를 표로 나타내면 다음과 같다.

$x$	...	0	...	$\alpha$	...
$h'(x)$	-	0	+	0	-
$h(x)$	↘	0	↗	$\alpha^3 e^{-2}$	↘

$h(x)$ 의 극솟값은  $h(0) = 0$ 이고 극댓값은  $h(\alpha) = \alpha^3 e^{-2}$ 이다.

(i)  $h(t) > \alpha$ 인 양의 실수  $t$ 가 존재하는 경우:

$\alpha \notin [h(t), h(t) + \alpha]$ 이고 닫힌구간  $[h(t), h(t) + \alpha]$ 에서  $h(x)$ 는 감소하므로  $k(t) = h(h(t))$ 이다.

$h(\alpha) > \alpha$ 이므로 곡선  $y = h(x)$ 와 직선  $y = \alpha$ 의 두 교점의  $x$ 좌표를  $t_1, t_2$  ( $0 < t_1 < t_2$ )라 하면(그림 1), 열린구간  $(t_1, t_2)$ 에서  $k(t) = h(h(t))$ 이고  $k(t)$ 는 이 구간에서 일정한 값을 갖지 않는다.

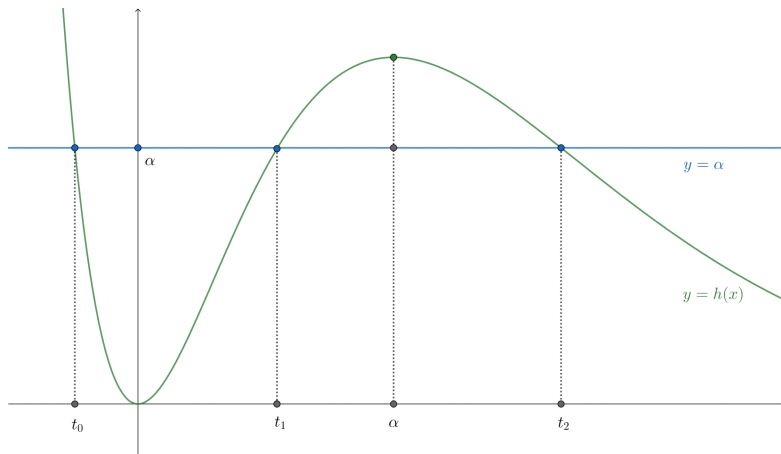


그림 1 :  $h(\alpha) > \alpha$ 인 경우

(ii) 모든 양의 실수  $t$ 에 대하여  $0 \leq h(t) \leq \alpha$ 인 경우:

$\alpha \in [h(t), h(t) + \alpha]$ 이므로  $k(t)$ 는 항상 일정한 값  $h(\alpha)$ 를 갖는다(그림 2).

$h(\alpha)$ 는 극댓값이므로  $h(\alpha) = \alpha^3 e^{-2} \leq \alpha$ 인 모든  $\alpha$ 에 대하여 함수  $k(t)$ 는 문제의 조건을 만족시킨다. 따라서 최댓값은  $e$ 이다.

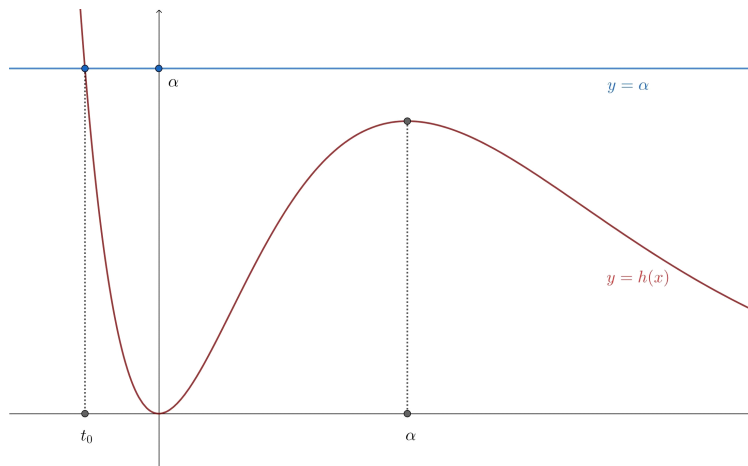


그림 2 :  $h(\alpha) \leq \alpha$ 인 경우