

제 2 교시

5지선다형

1. $8^{-\frac{1}{2}} \div \sqrt{2}$ 의 값은? [2점]

- ① $\frac{1}{8}$ ② $\frac{1}{4}$ ③ $\frac{1}{2}$ ④ 1 ⑤ 2

2. 곡선 $y = x^3 + x^2 - 5$ 위의 점 $(1, -3)$ 에서의 접선의 기울기는? [2점]

- ① 5 ② 6 ③ 7 ④ 8 ⑤ 9

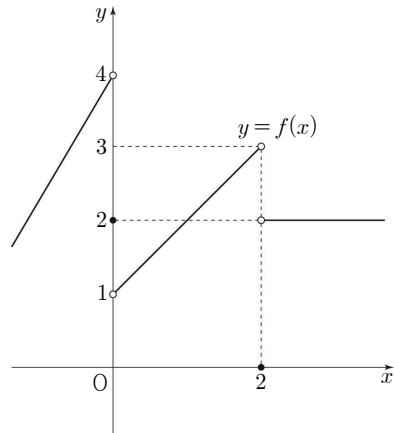
$y' = 3x^2 + 2x$
 $\rightarrow 5$

3. 네 수 2, a, b, 14가 이 순서대로 등차수열을 이룰 때, a+b의 값은? [2점]

- ① 8 ② 10 ③ 12 ④ 14 ⑤ 16

$2, 6, 10, 14$

4. 함수 $y = f(x)$ 의 그래프가 그림과 같다.



$\lim_{x \rightarrow 0^-} f(x) + \lim_{x \rightarrow 2^+} f(x)$ 의 값은? [3점]

- ① 3 ② 4 ③ 5 ④ 6 ⑤ 7

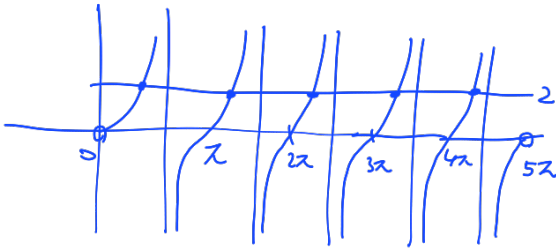
$4 + 2 = 6$

2

수학 영역

5. $0 < x < 5\pi$ 에서 함수 $y = \tan x$ 의 그래프와 직선 $y=2$ 가 만나는 점의 개수는? [3점]

- ① 3 ② 4 ③ 5 ④ 6 ⑤ 7



6. 함수

$$f(x) = \begin{cases} ax^2 + bx + 1 & (x < 1) \\ -3bx - 1 & (x \geq 1) \end{cases}$$

이 실수 전체의 집합에서 미분가능할 때, $a+b$ 의 값은?
(단, a, b 는 상수이다.) [3점]

- ① -3 ② -1 ③ 1 ④ 3 ⑤ 5

$x=1$ 연속 $\rightarrow a+b+1 = -3b-1, a+4b = -2$

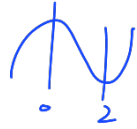
$$f'(x) = \begin{cases} 2ax + b & (x < 1) \\ -3b & (x > 1) \end{cases} \quad \left. \begin{array}{l} b = -1 \\ a = 2 \end{array} \right\}$$

$$2a + b = -3b, \quad a + 2b = 0$$

7. 함수 $f(x)$ 에 대하여 $f'(x) = 3x^2 - 6x$ 이고 $f(1) = 1$ 일 때, 함수 $f(x)$ 의 극솟값은? [3점]

- ① -2 ② -1 ③ 0 ④ 1 ⑤ 2

$$f' = 3x(x-2)$$



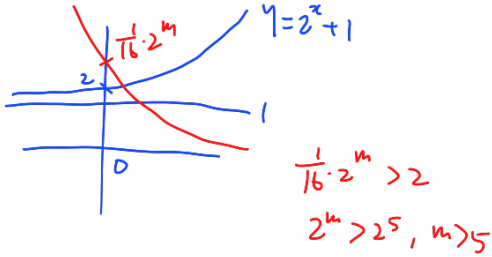
$$f = x^3 - 3x^2 + C$$

$$f(1) = 1 - 2 + C = 1, \quad C = 3$$

$$f(2) = 8 - 12 + 3 = -1$$

8. 곡선 $y = \frac{1}{16} \times \left(\frac{1}{2}\right)^{x-m}$ 이 곡선 $y = 2^x + 1$ 과 제1사분면에서 만나도록 하는 자연수 m 의 최솟값은? [3점]

- ① 2 ② 4 ③ 6 ④ 8 ⑤ 10



9. $2 \sin\left(\frac{\pi}{2} - \theta\right) = \sin \theta \times \tan(\pi + \theta)$ 일 때, $\sin^2 \theta$ 의 값은? [3점]

- ① $\frac{1}{3}$ ② $\frac{4}{9}$ ③ $\frac{5}{9}$ ④ $\frac{2}{3}$ ⑤ $\frac{7}{9}$

$$2 \cos \theta = \sin \theta \tan \theta$$

$$2c = \frac{s^2}{c}, \quad 2c^2 = s^2$$

$$2(1-s^2) = s^2, \quad s^2 = \frac{2}{3}$$

10. 함수 $f(x)$ 가 모든 실수 x 에 대하여

$$f(x) = x + \int_0^2 f(t) dt$$

를 만족시킬 때, $f(3)$ 의 값은? [3점]

- ① 1 ② 2 ③ 3 ④ 4 ⑤ 5

$$\int_0^2 f(t) dt = k$$

$$f(x) = x + k$$

$$\int_0^2 (t+k) dt = k$$

$$\left. \frac{1}{2}t^2 + kt \right|_0^2 = 2 + 2k = k$$

$$k = -2$$

$$f(3) = 3 + k = 1$$

11. $a_3 = 6$ 이고 공비가 양수인 등비수열 $\{a_n\}$ 에 대하여
 $a_4 + a_5 = 2(a_6 + a_7) + 3(a_8 + a_9)$ 일 때, a_1 의 값은? [3점]

A
 ① 10 ② 12 ③ 14 ④ 16 ⑤ 18

$$A = 2Ar^2 + 3Ar^4$$

$$3r^4 + 2r^2 - 1 = 0$$

$$(3r^2 - 1)(r^2 + 1) = 0 \quad r^2 = \frac{1}{3}$$

$$a_3 = ar^2 = \frac{1}{3}a = 6, \quad a = 18$$

12. 다항함수 $f(x)$ 에 대하여 함수 $g(x)$ 를

$$g(x) = (x^2 - 2x)f(x)$$

라 하자. $g'(0) + g'(2) = 16$ 일 때, $f(2) - f(0)$ 의 값은? [3점]

① 6 ② 8 ③ 10 ④ 12 ⑤ 14

$$g'(x) = (2x - 2)f(x) + (x^2 - 2x)f'(x)$$

$$g'(0) = -2f(0)$$

$$g'(2) = 2f(2) \quad \left. \begin{array}{l} 2f(2) - 2f(0) = 16 \\ \therefore f(2) - f(0) = 8 \end{array} \right\}$$

13. 두 수열 $\{a_n\}, \{b_n\}$ 이 모든 자연수 n 에 대하여 $a_n + b_n = n$ 을 만족시킨다. $\sum_{k=1}^{10} (3a_k + 1) = 40$ 일 때, $\sum_{k=1}^{10} b_k$ 의 값은? [3점]

- ① 30 ② 35 ③ 40 ④ 45 ⑤ 50

$$3 \sum_{k=1}^{10} a_k + 10 = 40$$

$$\therefore \sum_{k=1}^{10} a_k = 10$$

$$\sum_{k=1}^{10} (a_k + b_k) = \sum_{k=1}^{10} k$$

$$10 + \sum_{k=1}^{10} b_k = 55 \quad \therefore \sum_{k=1}^{10} b_k = 45$$

14. 자연수 $n (n \geq 2)$ 에 대하여 $m - 2n$ 의 n 제곱근 중에서 실수인 것의 개수를 $f(n)$ 이라 할 때, $f(2) + f(3) + f(4) = 3$ 을 만족시키는 모든 자연수 m 의 값의 합은? [4점]

- ① 18 ② 23 ③ 28 ④ 33 ⑤ 38

$$x^n = m - 2n$$

$$f(2) \Rightarrow x^2 = m - 4 \rightarrow f(2) = 2$$

$$f(3) \Rightarrow x^3 = m - 6 \rightarrow f(3) = 1$$

$$f(4) \Rightarrow x^4 = m - 8 \rightarrow f(4) = 0$$

$m = 5, 6, 7$

6

수학 영역

15. 수열 $\{a_n\}$ 의 첫째항부터 제 n 항까지의 합을 S_n 이라 할 때, 두 수열 $\{a_n\}, \{S_n\}$ 과 상수 k 가 다음 조건을 만족시킨다.

모든 자연수 n 에 대하여 $a_n + S_n = k$ 이다.

$S_6 = 189$ 일 때, k 의 값은? [4점]

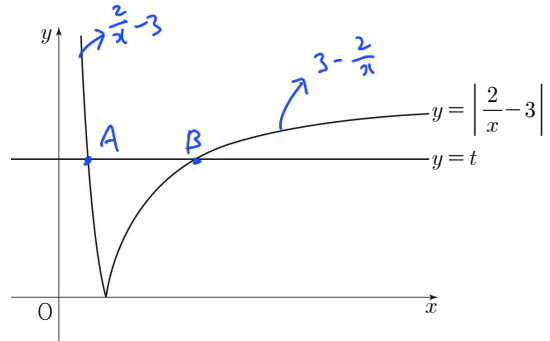
- ① 192 ② 196 ③ 200 ④ 204 ⑤ 208

$$\begin{aligned}
 & a_{n+1} + S_{n+1} = k \\
 - & \underline{a_n + S_n = k} \\
 & a_{n+1} - a_n + a_{n+1} = 0 \quad (n \geq 1) \\
 & a_{n+1} = \frac{1}{2} a_n \quad (n \geq 1) \\
 \\
 & n=1 \rightarrow a_1 + S_1 = 2a_1 = k, \quad a_1 = \frac{k}{2} \\
 & \quad \quad \quad r = \frac{1}{2} \\
 & S_6 = \frac{\frac{k}{2}(1-(\frac{1}{2})^6)}{1-\frac{1}{2}} = 189 \\
 & k \left(\frac{63}{64} \right) = 189, \quad k = 192
 \end{aligned}$$

16. $0 < t < 3$ 인 실수 t 에 대하여 함수 $y = \left| \frac{2}{x} - 3 \right|$ 의 그래프와 직선 $y = t$ 가 만나는 두 점 사이의 거리를 $f(t)$ 라 할 때,

$\lim_{t \rightarrow 0^+} \frac{f(t)}{t}$ 의 값은? [4점]

- ① $\frac{2}{9}$ ② $\frac{1}{3}$ ③ $\frac{4}{9}$ ④ $\frac{5}{9}$ ⑤ $\frac{2}{3}$



$$A\left(\frac{2}{t+3}, t\right), B\left(\frac{2}{3-t}, t\right)$$

$$f(t) = AB = \frac{2}{3-t} - \frac{2}{t+3} = \frac{4t}{9-t^2}$$

$$\lim_{t \rightarrow 0^+} \frac{f(t)}{t} = \lim_{t \rightarrow 0^+} \left(\frac{1}{t} \times \frac{4t}{9-t^2} \right) = \frac{4}{9}$$

17. 1이 아닌 세 양수 a, b, c 가

$$-4\log_a b = 54\log_b c = \log_c a = k$$

를 만족시킨다. $b \times c$ 의 값이 300 이하의 자연수가 되도록 하는 모든 자연수 a 의 값의 합은? [4점]

- ① 91 ② 93 ③ 95 ④ 97 ⑤ 99

$$\log_a b = -\frac{k}{4} \rightarrow b = a^{-\frac{k}{4}}$$

$$\log_b c = \frac{k}{54} \rightarrow c = b^{\frac{k}{54}} = a^{-\frac{k^2}{216}}$$

$$\log_c a = k \rightarrow a = c^k = a^{-\frac{k^3}{216}}$$

$$1 = -\frac{k^3}{216}, \quad k = -6$$

$$b = a^{\frac{3}{2}}, \quad c = a^{-\frac{1}{6}}$$

$$b \times c = a^{\frac{4}{3}}$$

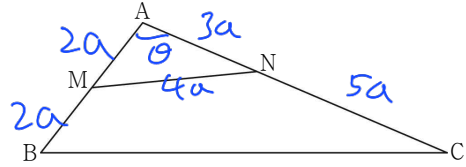
a	$a^{\frac{k}{3}}$
2^3	16
3^3	81
4^3	256
5^3	625 (x)

$$8 + 27 + 64 = 99$$

18. 그림과 같이 $2\overline{AB} = \overline{AC}$ 인 삼각형 ABC에 대하여 선분 AB의 중점을 M, 선분 AC를 3:5로 내분하는 점을 N이라 하자.

$\overline{MN} = \overline{AB}$ 이고, 삼각형 AMN의 외접원의 넓이가 16π 일 때, 삼각형 ABC의 넓이는? [4점]

$$R = 4$$



- ① $24\sqrt{3}$ ② $13\sqrt{13}$ ③ $14\sqrt{14}$
 ④ $15\sqrt{15}$ ⑤ 64

$$\cos \theta = \frac{4+9-16}{2 \cdot 2 \cdot 3} = \frac{-3}{12} = -\frac{1}{4}$$

$$\sin \theta = \frac{\sqrt{15}}{4}, \quad \frac{4a}{\sin \theta} = 2R$$

$$4a = \frac{\sqrt{15}}{4} \times 8 = 2\sqrt{15}$$

$$a = \frac{\sqrt{15}}{2}, \quad a^2 = \frac{15}{4}$$

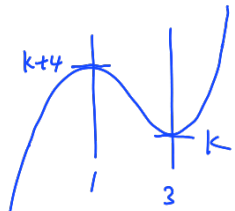
$$\Delta ABC = \frac{1}{2} \times 4a \times 8a \times \sin \theta$$

$$= 16a^2 \times \frac{\sqrt{15}}{4} = 4\sqrt{15} \times \frac{15}{4} = 15\sqrt{15}$$

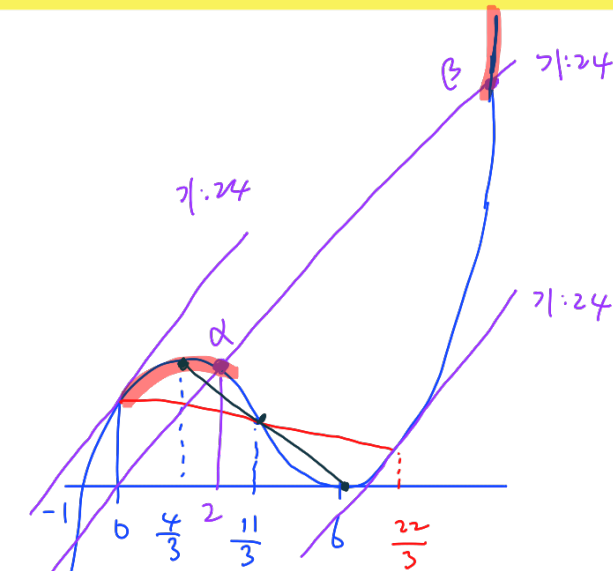
19. 실수 k 에 대하여 함수 $f(x)$ 는 $f(x) = x^3 - 6x^2 + 9x + k$ 이다.
 자연수 n 에 대하여 직선 $y = 3n$ 과 함수 $y = f(x)$ 의 그래프가
 만나는 점의 개수를 a_n 이라 하자. $\sum_{n=1}^4 a_n = 7$ 을 만족시키는
 모든 k 의 값의 합은? [4점]

- ① 30 ② 33 ③ 36 ④ 39 ⑤ 42

$$f' = 3x^2 - 12x + 9 = 3(x-1)(x-3)$$



$y=3$	1	1	1	1	2	3
$y=6$	1	1	2	3	3	2
$y=9$	2	3	3	2	1	1
$y=12$	3	2	1	1	1	1
$k \rightarrow$	9	8	6	5	3	2
	33					



$$f'(0) = 24 \quad \frac{f(t)}{t} = 24, \quad f(t) = 24t$$

$$t^3 - 11t^2 + 36 = 0, \quad (t-2)(t^2 - 9t - 18) = 0$$

$$t = 2, \quad t = \frac{9 \pm \sqrt{153}}{2} = \frac{9 \pm 3\sqrt{17}}{2}$$

$$\alpha = 2, \quad \beta = \frac{9 + 3\sqrt{17}}{2}$$

20. 함수 $f(x) = (x+1)(x-6)^2$ 과 양의 실수 t 에 대하여 $g(t)$ 를
 다음과 같이 정의한다. $= x^3 - 11x^2 + 24x + 36,$

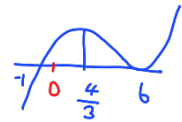
두 점 $(0, 0), (t, f(t))$ 를 지나는 직선의 기울기와
 곡선 $y = f(x)$ 위의 점 $(k, f(k))$ 에서의 접선의 기울기가
 같아지는 양의 실수 k 의 개수가
 1이면 k 의 값을 $g(t)$,
 2이면 k 의 값 중 작은 값을 $g(t)$ 라 한다.

<보기>에서 옳은 것만을 있는 대로 고른 것은? [4점]

- ① $f'(0) = 24$
 ② $g(6) = \frac{4}{3}$
 ③ 함수 $g(t)$ 의 치역의 원소가 아닌 모든 자연수의 합은 27이다.

- ① ㄱ ② ㄴ ③ ㄱ, ㄴ
 ④ ㄱ, ㄷ ⑤ ㄱ, ㄴ, ㄷ

$$f'(12) = 3(12)^2 - 22(12) + 24$$



$$g. f'(0) = 24$$

$$ㄴ. (0, 0), (6, 0) \quad f'(k) = 0 \quad (k = \frac{4}{3}, 6 \text{ 외})$$

$$g(6) = \frac{4}{3}$$

$$ㄷ. f'(-1) = 3 + 24 = 27$$

$$0 < t \leq 2, \quad t \geq \beta \rightarrow k \geq \frac{22}{3}$$

$$2 < t < 6, \quad 6 < t < \beta \rightarrow 0 < k < \frac{4}{3}$$

$$t = 6 \rightarrow k = \frac{4}{3}$$

$$\therefore 0 < k < \frac{4}{3}, \quad k \geq \frac{22}{3}$$

$$\therefore g(t) \text{ 치역 } \times$$

$$\Rightarrow k = 2, 3, 4, 5, 6, 7$$

21. 모든 항이 자연수이고 다음 조건을 만족시키는 모든 수열 $\{a_n\}$ 에 대하여 a_1 의 최댓값과 최솟값을 각각 M, m 이라 할 때, $M-m$ 의 값은? [4점]

(가) $a_5 = 63$
 (나) 모든 자연수 n 에 대하여

$$a_{n+2} = \begin{cases} a_{n+1} + a_n & (a_{n+1} \times a_n \text{이 홀수인 경우}) \\ a_{n+1} + a_n - 2 & (a_{n+1} \times a_n \text{이 짝수인 경우}) \end{cases}$$

이다.

- ① 16 ② 19 ③ 22 ④ 25 ⑤ 28

$a_5 = 63 \Rightarrow a_4 + a_3 - 2 = 63$
 $a_4 + a_3 = 65 \rightarrow \frac{홀}{짝} \& \frac{짝}{홀}$

a_5	a_4	a_3	a_2	a_1	
	홀	짝	홀	홀	
63	$2a + 4b - 5$	$2a + 2b - 2$	$2b - 1$	$2a - 1$	

	$4a + 6b - 7 = 65$	b	a	a_1	
	$2a + 3b = 36$	2	15	29	
		4	12	23	
		6	9	17	
		8	6	11	
		10	3	5	
		짝	홀	홀	짝

$2p + 4q - 4$ $2p + 2q - 3$ $2q - 1$ $2p$

$4p + 6q - 7 = 65$

2p + 3q = 36	q	p	a_1
	2	15	30
	4	12	24
	6	9	18
	8	6	12
	10	3	6

$\therefore M = 30$
 $m = 5$
 $M - m = 25$

단답형

22. $\lim_{x \rightarrow 3} \frac{x-3}{\sqrt{x+1}-2}$ 의 값을 구하시오. [3점]

4

$\frac{2}{2} + \frac{(\sqrt{2+1} + 2)}{2} = 4$

23. 중심각의 크기가 $\frac{4}{5}\pi$ 이고 호의 길이가 12π 인 부채꼴의 반지름의 길이를 구하시오. [3점]

15

$2\pi = \left(\frac{4}{5}\pi\right)r$

$r = 15$

24. 함수 $f(x) = x^3 + 2x^2 + 2$ 에 대하여

$\lim_{x \rightarrow 1} \frac{1}{x-1} \int_1^x f'(t) dt$ 의 값을 구하시오. [3점]

$$\lim_{x \rightarrow 1} \frac{f(x) - f(1)}{x-1} = f'(1)$$
7

$f'(x) = 3x^2 + 4x, \quad f'(1) = 7$

25. 방정식 $\log_2 x - 3 = \log_x 16$ 을 만족시키는 모든 실수 x 의 값의 곱을 구하시오. [3점]

$$x > 0$$
8

$$\log_2 x = t$$

$$t - 3 = \frac{4}{t}$$

$$t^2 - 3t - 4 = 0 \quad t = -1, 4$$

$$\log_2 x = -1, 4$$

$$x = \frac{1}{2}, 16 \quad \frac{1}{2} \times 16 = 8$$

26. 수직선 위를 움직이는 두 점 P, Q의 시각 $t (t > 0)$ 에서의 위치가 각각

$$x_1(t) = t^3 - 3t^2 - 24t, \quad x_2(t) = t^2 - at$$

이다. 두 점 P, Q의 운동 방향이 시각 $t = k$ 에서 동시에 바뀔 때, $a + k$ 의 값을 구하시오. (단, a 와 k 는 상수이다.) [4점]

$$V_1(t) = 3t^2 - 6t - 24$$
12

$$= 3(t-4)(t+2) = 0 \quad t = 4$$

$$V_2(t) = 2t - a = 0, \quad t = \frac{a}{2} \quad \left. \begin{array}{l} a = 8 \\ k = 4 \end{array} \right\}$$

27. 공차가 d 인 등차수열 $\{a_n\}$ 이 다음 조건을 만족시키도록 하는 모든 자연수 d 의 값의 합을 구하시오. [4점] 18

- (가) $a_8 = 2a_5 + 10$
 (나) 모든 자연수 n 에 대하여 $a_n \times a_{n+1} \geq 0$ 이다.

$$a + 7d = 2a + 8d + 10$$

$$a = -d - 10$$

$$-d - 10 \quad -10 \quad d - 10 \quad 2d - 10 \quad 3d - 10 \quad \dots$$

$$kd - 10 = 0$$

$kd = 10$	k	d
	1	10
	2	5
	5	2
	10	1

$$d = 1, 0, 5, 2, 1 \rightarrow 18$$

28. 상수항과 계수가 모두 음이 아닌 정수인 두 다항함수 $f(x), g(x)$ 가 다음 조건을 만족시킬 때, $f(2) + g(2)$ 의 값을 구하시오. [4점]

(가) $\lim_{x \rightarrow \infty} \frac{\{f(x)\}^2 g(x)}{x^5} = 4$ $\begin{matrix} f & g \\ 1 & 3 \\ 2 & 1 \end{matrix} \begin{matrix} (0) \\ (x) \end{matrix}$ 16

(나) $\lim_{x \rightarrow 0} \frac{f(x)\{g(x)\}^2}{x^5} = 2 \rightarrow f \cdot g^2 = x^5 h(x)$

(가) $f = ax \sim$
 $g = bx^3 \sim$

$a^2 b = 4$

(나) $f \cdot g^2 = x^5 h(x)$

$$\left. \begin{matrix} f = ax \\ g = bx^3 + cx^2 \end{matrix} \right\} f \cdot g^2 = ax^5 (bx + c)^2$$

$\begin{matrix} a & b & c \\ 2 & 1 & 1 \end{matrix}$

$$\lim_{x \rightarrow 0} \frac{ax^5 (bx + c)^2}{x^5} = ac^2 = 2$$

$ac^2 = 2$

$$f(x) = 2x, \quad g(x) = x^3 + x^2$$

$$f(2) + g(2) = 4 + 12 = 16$$

29. 두 상수 $a, b (0 \leq b \leq \pi)$ 에 대하여

단한구간 $\left[\frac{\pi}{2}, a\right]$ 에서 함수 $f(x) = 2\cos(3x+b)$ 의

최댓값은 1이고 최솟값은 $-\sqrt{3}$ 이다.

$a \times b = \frac{q}{p}\pi^2$ 일 때, $p+q$ 의 값을 구하시오. (단, p 와 q 는 서로소인 자연수이다.) [4점]

14

$3x+b = t$
 $\frac{\pi}{2} \leq x \leq a$
 $\frac{3}{2}\pi + b \leq 3x+b \leq 3a+b$
 $0 \leq b \leq \pi$
 $\frac{3}{2}\pi \leq \frac{3}{2}\pi + b \leq \frac{5}{2}\pi$

$y = 2\cos t$
 $\frac{3}{2}\pi \leq \frac{3}{2}\pi + b \leq \frac{5}{2}\pi$

$\frac{3}{2}\pi + b$ $3a + b$
 " "
 $\frac{1}{3}\pi$ $\frac{17}{6}\pi$

$b = \frac{5}{6}\pi, \quad 3a = 2\pi$
 $a = \frac{2}{3}\pi$

$a \times b = \frac{5}{9}\pi^2$

30. 최고차항의 계수가 양수이고 $f'(2) < 0$ 인 삼차함수 $f(x)$ 에 대하여 함수 $g(x)$ 가

$$g(x) = \begin{cases} \int_0^x f(t)dt - 4 & (x < 2) \\ -\int_0^x f(t)dt + 4 & (x \geq 2) \end{cases}$$

$g' = \begin{cases} f(x) & (x < 2) \\ -f(x) & (x \geq 2) \end{cases}$

이고 다음 조건을 만족시킨다.

(가) $\lim_{x \rightarrow 2^-} \frac{g(x)-4}{x-2} = \lim_{x \rightarrow 2^+} \frac{g(x)+4}{x-2} = g'(0)$

(나) 방정식 $g(x) = 4$ 는 서로 다른 두 실근을 갖는다.

$f(5)$ 의 값을 구하시오. [4점]

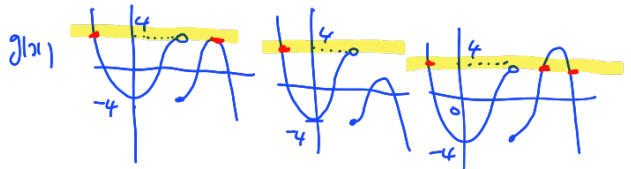
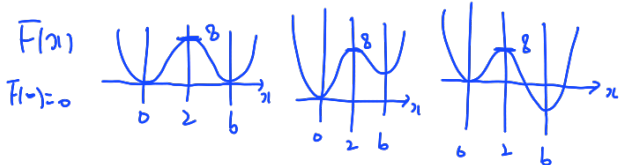
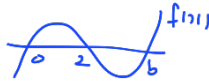
30

$\int_0^x f(t)dt = F(x), \quad g(x) = \begin{cases} F(x) - 4 & (x < 2) \\ -F(x) + 4 & (x \geq 2) \end{cases}$

(가) $g(2^-) = 4 \rightarrow F(2) = 8$ / $g'(2^-) = g'(2^+) = g'(0)$
 $g(2^+) = -4 \rightarrow F(2) = 8$ / $f(2^-) = -f(2^+) = f(0)$
 $\therefore f(2) = 0 = f(0)$

$f(x) = a(x-2)(x-b), \quad a > 0$

$f'(x) = 2a(x-b) < 0 \quad \therefore 2-b < 0, \quad b > 2$



$\Downarrow b=4$

$F(x) = \frac{a}{4}x^2(x-4)^2 \quad \therefore f(x) = 2x(x-2)(x-4)$
 $F(2) = 4a = 8, \quad a = 2 \quad f(5) = 10 \cdot 3 \cdot 1 = 30$

※ 확인 사항

○ 답안지의 해당란에 필요한 내용을 정확히 기입(표기)했는지 확인 하시오.